

ST-2054 RRB PO (MAINS) 2020

Passage for Question 1, 2, 3, 4, 5 (ST-RRBPOMAINSDemo(1-5R)2020)

eng/eng Passage

Study the following information carefully and answer the question given below:

Eight students P, O, N, M, L, K, J and I are sitting around a Square table in such a way that four of them sit at four corners of the square while four sit in the middle of each of the four sides. Those who sit at the four corners face outside while those who sit in the middle of the sides face the centre of the table. Each one of them likes different Subjects viz. Maths, Physics, Science, Chemistry, Economics, History, Hindi and English, but not necessarily in the same order.

Only two people sit between N and J. K is an immediate neighbour of the one who likes History, but is not an immediate neighbour of J. The one who likes Chemistry sitting opposite to K and does not face outside the centre. P sits third to right of the one who likes English. Only one person sit between the one who likes English and I. The one who likes Economics and the one who likes Physics are immediate neighbours of each-other. The one who likes Economics is second to the right of I. The one who likes Maths sits third to left of L. L is not an immediate neighbour of I and P. The one who likes Hindi sits third to right of O and is immediate left of L.

निम्नलिखित जानकारी का ध्यानपूर्वक अध्ययन करे और नीचे दिए गए प्रश्न का उत्तर दीजिये:

आठ विद्यार्थी P, O, N, M, L, K, J और I एक वर्गाकार मेज के चारों ओर इस प्रकार बैठे हैं कि उनमें से चार व्यक्ति कोनों पर बैठे हैं जबकि चार व्यक्ति प्रत्येक भुजा के मध्य में बैठे हैं। जो व्यक्ति चारों कोनों पर बैठे हैं उनका मुख बाहर की ओर है जबकि जो व्यक्ति मध्य में बैठे हैं उनका मुख केन्द्र की ओर है। उनमें से प्रत्येक अलग-अलग विषय गणित, भौतिक, विज्ञान, रसायन, इकोनॉमिक, इतिहास, हिंदी और अंग्रेज़ी पसंद करते हैं, लेकिन जरूरी नहीं की इसी क्रम में हो। N और J के बीच में केवल दो व्यक्ति बैठे हैं। K, इतिहास पसंद करने वाले व्यक्ति का तुरंत पड़ोसी है, लेकिन J का तुरंत पड़ोसी नहीं है। वह व्यक्ति जो रसायन पसंद करता है, K के विपरीत बैठा है और केंद्र के बाहर की ओर नहीं देख रहा है। P, अंग्रेज़ी पसंद करने वाले व्यक्ति के दायें तीसरा है। वह व्यक्ति जो अंग्रेज़ी पसंद करता है और I के बीच केवल एक व्यक्ति बैठा है। जो व्यक्ति इकोनॉमिक पसंद करता है और जो व्यक्ति भौतिक पसंद करता है एक-दूसरे के निकटतम पड़ोसी है। जो व्यक्ति इकोनॉमिक पसंद करता है, I के दायें दूसरा बैठा है। जो व्यक्ति गणित पसंद करता है, L के बायें तीसरा बैठा है। L, I और P का तुरन्त पड़ोसी नहीं है। जो व्यक्ति हिंदी पसंद करता है, O के दायें तीसरा और L के तुरन्त बायें बैठा है।

eng hin Passage

Study the following information carefully and answer the question given below:

Eight students P, O, N, M, L, K, J and I are sitting around a Square table in such a way that four of them sit at four corners of the square while four sit in the middle of each of the four sides. Those who sit at the four corners face outside while those who sit in the middle of the sides face the centre of the table. Each one of them likes different Subjects viz. Maths, Physics, Science, Chemistry, Economics, History, Hindi and English, but not necessarily in the same order.

Only two people sit between N and J. K is an immediate neighbour of the one who likes History, but is not an immediate neighbour of J. The one who likes Chemistry sitting opposite to K and does not face outside the centre. P sits third to right of the one who likes English. Only one person sit between the one who likes English and I. The one who likes Economics and the one who likes Physics are immediate neighbours of each-other. The one who likes Economics is second to the right of I. The one who likes Maths sits third to left of L. L is not an immediate neighbour of I and P. The one who likes Hindi sits third to right of O and is immediate left of L.

निम्नलिखित जानकारी का ध्यानपूर्वक अध्ययन करे और नीचे दिए गए प्रश्न का उत्तर दीजिये:

आठ विद्यार्थी P, O, N, M, L, K, J और I एक वर्गाकार मेज के चारों ओर इस प्रकार बैठे हैं कि उनमें से चार व्यक्ति कोनों पर बैठे हैं जबकि चार व्यक्ति प्रत्येक भुजा के मध्य में बैठे हैं। जो व्यक्ति चारों कोनों पर बैठे हैं उनका मुख बाहर की ओर है जबकि जो व्यक्ति मध्य में बैठे हैं उनका मुख केन्द्र की ओर है। उनमें से प्रत्येक अलग-अलग विषय गणित, भौतिक, विज्ञान, रसायन, इकोनॉमिक, इतिहास, हिंदी और अंग्रेज़ी पसंद करते हैं, लेकिन जरूरी नहीं की इसी क्रम में हो। N और J के बीच में केवल दो व्यक्ति बैठे हैं। K, इतिहास पसंद करने वाले व्यक्ति का तुरंत पड़ोसी है, लेकिन J का तुरंत पड़ोसी नहीं है। वह व्यक्ति जो रसायन पसंद करता है, K के विपरीत बैठा है और केंद्र के बाहर की ओर नहीं देख रहा है। P, अंग्रेज़ी पसंद करने वाले व्यक्ति के दायें तीसरा है। वह व्यक्ति जो अंग्रेज़ी पसंद करता है और I के बीच केवल एक व्यक्ति बैठा है। जो व्यक्ति इकोनॉमिक पसंद करता है और जो व्यक्ति भौतिक पसंद करता है एक-दूसरे के निकटतम पड़ोसी है। जो व्यक्ति इकोनॉमिक पसंद करता है, I के दायें दूसरा बैठा है। जो व्यक्ति गणित पसंद करता है, L के बायें तीसरा बैठा है। L, I और P का तुरन्त पड़ोसी नहीं है। जो व्यक्ति हिंदी पसंद करता है, O के दायें तीसरा और L के तुरन्त बायें बैठा है।

Q-1 Who is third to the right of the person who likes History?

eng/eng जो व्यक्ति इतिहास पसंद करता है के दायें तीसरा कौन बैठा है?

01. I

02. L

03. M

04. J

05. K

Q-1 Who is third to the right of the person who likes History?

eng hin जो व्यक्ति इतिहास पसंद करता है के दायें तीसरा कौन बैठा है?

01. I

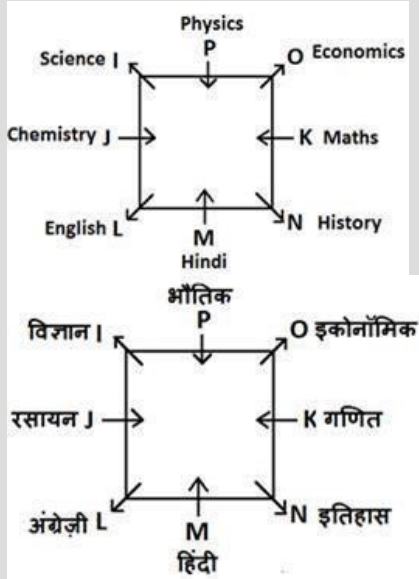
02. L

03. M

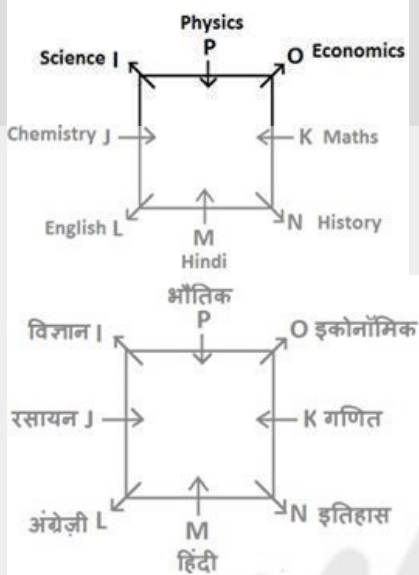
04. J

05. K

eng/eng



eng hin



Q-2 How many persons are sitting between M and I?
eng/eng M और I के बीच में कितने व्यक्ति बैठे है?

- | | |
|----------------------|------------------|
| 01. None
कोई नहीं | 02. One
एक |
| 03. Two
दो | 04. Three
तीन |
| 05. Five
पांच | |

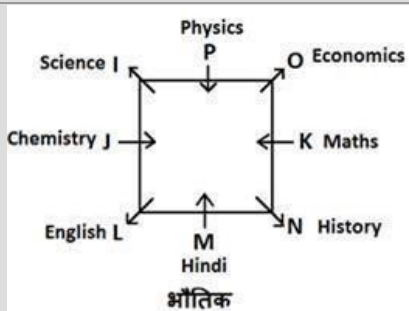
Q-2 How many persons are sitting between M and I?
eng hin M और I के बीच में कितने व्यक्ति बैठे है?

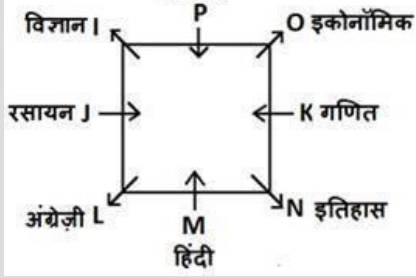
- | | |
|----------------------|------------------|
| 01. None
कोई नहीं | 02. One
एक |
| 03. Two
दो | 04. Three
तीन |
| 05. Five
पांच | |

Solution for Question 2

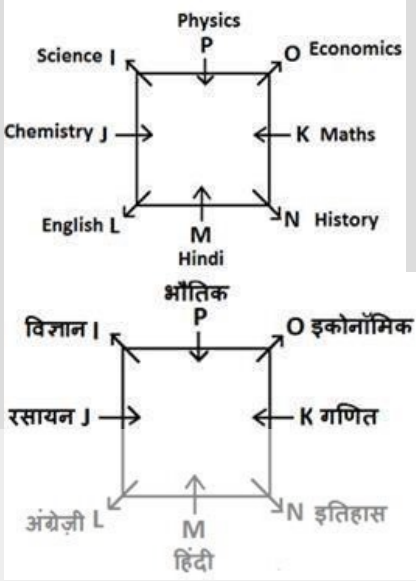
Ans Key: 3

eng/eng





eng hin



Q-3 What is position of P with respect to the person who likes Hindi?
जो व्यक्ति हिंदी पसंद करता है के सन्दर्भ में P का स्थान क्या होगा?

01. Second to the left
बाएं से दूसरा
02. Third to the left
बाएं से तीसरा
03. Third to the right
दाएं से तीसरा
04. Second to the right
दाएं से दूसरा
05. Fourth to the right
दाएं से दूसरा

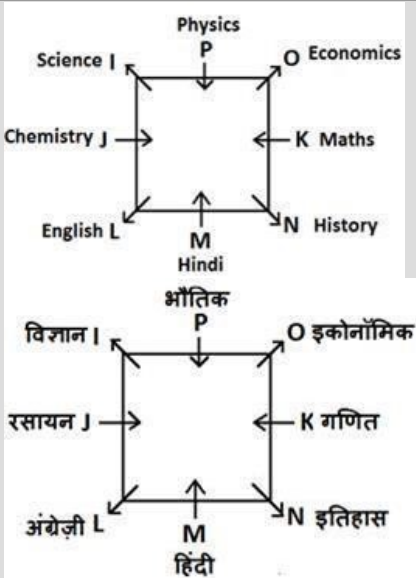
Q-3 What is position of P with respect to the person who likes Hindi?
जो व्यक्ति हिंदी पसंद करता है के सन्दर्भ में P का स्थान क्या होगा?

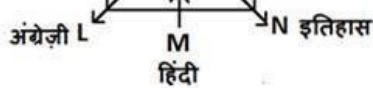
01. Second to the left
बाएं से दूसरा
02. Third to the left
बाएं से तीसरा
03. Third to the right
दाएं से तीसरा
04. Second to the right
दाएं से दूसरा
05. Fourth to the right
दाएं से दूसरा

Solution for Question 3

Ans Key: 5

eng/eng





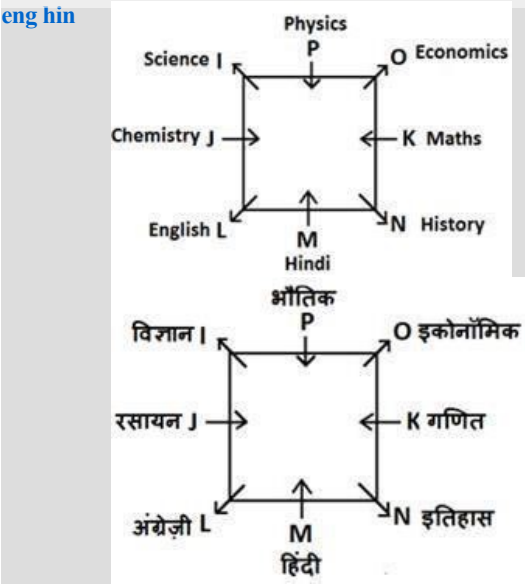
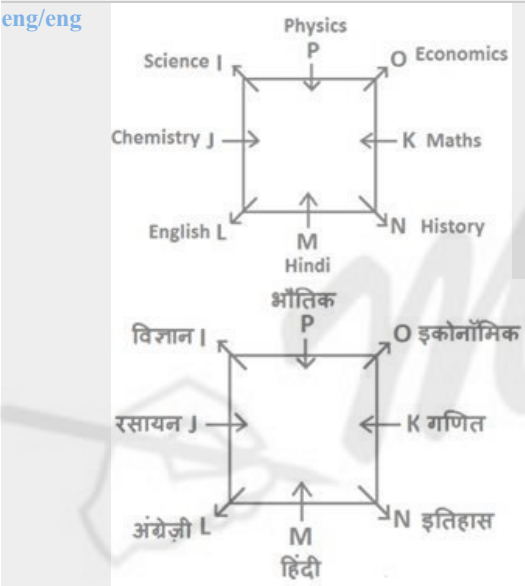
Q-5 Four of the following five are alike in a certain way and so form a group. Which one does not belong to that group?
eng/eng दी गई व्यवस्था के आधार पर निम्नलिखित पांच में से चार किसी प्रकार से समान हैं इसलिए उनका एक समूह बनाता है वह कौन सा है जो इस समूह में नहीं आता है?

- | | |
|-----------------------------------|-----------------------------------|
| 01. M – English
M – अंग्रेज़ी | 02. L – Physics
L – भौतिक |
| 03. K – Hindi
K – हिंदी | 04. J – Economics
J – इकोनॉमिक |
| 05. O – Economics
O – इकोनॉमिक | |

Q-5 Four of the following five are alike in a certain way and so form a group. Which one does not belong to that group?
eng hin दी गई व्यवस्था के आधार पर निम्नलिखित पांच में से चार किसी प्रकार से समान हैं इसलिए उनका एक समूह बनाता है वह कौन सा है जो इस समूह में नहीं आता है?

- | | |
|-----------------------------------|-----------------------------------|
| 01. M – English
M – अंग्रेज़ी | 02. L – Physics
L – भौतिक |
| 03. K – Hindi
K – हिंदी | 04. J – Economics
J – इकोनॉमिक |
| 05. O – Economics
O – इकोनॉमिक | |

Solution for Question 5 Ans Key: 5



Study the following information carefully and answer the question given below:

Seven persons A, B, C, D, E, F and G are working in an organization. They go to their office by car daily from Monday to Sunday. Each of them likes different colour of car i.e. Red, Blue, Pink, Yellow, Green, White and Black, but not necessarily in the same order. Each of them using different company car Tata, Suzuki, Honda, Hyundai, Datsun, Renault and Nissan. Each of them married to different person T, U, V, W, X, Y and Z, but not necessarily in the same order. The one who goes by car on Wednesday uses Black car whereas the one who goes by car on Saturday uses Yellow car. The one who uses Hyundai car is the husband of X and does not goes office on first and last day of the week. E is the wife of Z, uses Suzuki car and goes office on Friday. B does not use Tata car. Only one person goes office between the one who uses Hyundai car and A, who likes Red car and married to Y. G is spouse of T and goes office on Saturday. The number of day between the one who uses Tata and the one who uses Renault is the same as the number of day between the person likes Red car and Pink car. C likes Pink car and uses Honda car. The spouse of X uses White car. The one who likes Red car goes immediately after the one who uses Datsun car. The one who used Renault car likes Blue car. Wife of W goes office on Wednesday. D is spouse of V goes office before B but not immediately before B.

निम्नलिखित जानकारी का ध्यानपूर्वक अध्ययन करे और नीचे दिए गए प्रश्न का उत्तर दीजिये:

एक संगठन में सात व्यक्ति A, B, C, D, E, F और G काम कर रहे हैं। वे सोमवार से रविवार तक रोजाना कार से अपने कार्यालय जाते हैं। उनमें से प्रत्येक को कार के अलग-अलग रंग लाल, नीला, गुलाबी, पीला, हरा, सफेद और काला पसंद है, लेकिन जरूरी नहीं कि एक ही क्रम में हो। उनमें से प्रत्येक अलग-अलग कंपनी की कार टाटा, सुजुकी, होंडा, हुंडई, डटसन, रेनॉल्ट और नीसान का उपयोग करते हैं। उनमें से प्रत्येक अलग-अलग व्यक्ति T, U, V, W, X, Y और Z से विवाहित है, लेकिन जरूरी नहीं कि इसी क्रम में हो। बुधवार को कार से जाने वाला व्यक्ति काली रंग की कार पसंद करता है जबकि शनिवार को कार से जाने वाला व्यक्ति पीली रंग की कार पसंद करता है। हुंडई कार का उपयोग करने वाला व्यक्ति X का पति है और सप्ताह के पहले और अंतिम दिन ऑफिस नहीं जाता है। E, Z की पत्नी है, सुजुकी कार का उपयोग करती है और शुक्रवार को कार्यालय जाती है। B, टाटा कार का उपयोग नहीं करता है। हुंडई कार का उपयोग करने वाले व्यक्ति और A के बीच में केवल एक व्यक्ति कार्यालय जाता है, A जो लाल कार पसंद करता है और Y से विवाहित है। G, T का/की पति/पत्नी है और शनिवार को कार्यालय जाता है। टाटा का उपयोग करने वाले व्यक्ति और रेनॉल्ट का उपयोग करने वाले व्यक्ति के बीच में दिनों की संख्या लाल रंग और गुलाबी रंग की कार पसंद करने वाले व्यक्तियों के बीच में दिनों की संख्या के बराबर है। C को पिंक कार पसंद है और वह होंडा कार का उपयोग करता है। X का/की पति/पत्नी सफेद रंग पसंद करता है। जो व्यक्ति लाल कार पसंद करता है वह डैटसन कार का उपयोग करने वाले व्यक्ति के तुरंत बाद जाता है। जो व्यक्ति रेनॉल्ट कार का उपयोग करता है नीली कार पसंद करता है। W की पत्नी बुधवार को कार्यालय जाती है। D, V का/की पति/पत्नी है, B से पहले कार्यालय जाता है, लेकिन B के तुरंत पहले नहीं जाता है।

eng hin Passage

Study the following information carefully and answer the question given below:

Seven persons A, B, C, D, E, F and G are working in an organization. They go to their office by car daily from Monday to Sunday. Each of them likes different colour of car i.e. Red, Blue, Pink, Yellow, Green, White and Black, but not necessarily in the same order. Each of them using different company car Tata, Suzuki, Honda, Hyundai, Datsun, Renault and Nissan. Each of them married to different person T, U, V, W, X, Y and Z, but not necessarily in the same order. The one who goes by car on Wednesday uses Black car whereas the one who goes by car on Saturday uses Yellow car. The one who uses Hyundai car is the husband of X and does not goes office on first and last day of the week. E is the wife of Z, uses Suzuki car and goes office on Friday. B does not use Tata car. Only one person goes office between the one who uses Hyundai car and A, who likes Red car and married to Y. G is spouse of T and goes office on Saturday. The number of day between the one who uses Tata and the one who uses Renault is the same as the number of day between the person likes Red car and Pink car. C likes Pink car and uses Honda car. The spouse of X uses White car. The one who likes Red car goes immediately after the one who uses Datsun car. The one who used Renault car likes Blue car. Wife of W goes office on Wednesday. D is spouse of V goes office before B but not immediately before B.

निम्नलिखित जानकारी का ध्यानपूर्वक अध्ययन करे और नीचे दिए गए प्रश्न का उत्तर दीजिये:

एक संगठन में सात व्यक्ति A, B, C, D, E, F और G काम कर रहे हैं। वे सोमवार से रविवार तक रोजाना कार से अपने कार्यालय जाते हैं। उनमें से प्रत्येक को कार के अलग-अलग रंग लाल, नीला, गुलाबी, पीला, हरा, सफेद और काला पसंद है, लेकिन जरूरी नहीं कि एक ही क्रम में हो। उनमें से प्रत्येक अलग-अलग कंपनी की कार टाटा, सुजुकी, होंडा, हुंडई, डटसन, रेनॉल्ट और नीसान का उपयोग करते हैं। उनमें से प्रत्येक अलग-अलग व्यक्ति T, U, V, W, X, Y और Z से विवाहित है, लेकिन जरूरी नहीं कि इसी क्रम में हो। बुधवार को कार से जाने वाला व्यक्ति काली रंग की कार पसंद करता है जबकि शनिवार को कार से जाने वाला व्यक्ति पीली रंग की कार पसंद करता है। हुंडई कार का उपयोग करने वाला व्यक्ति X का पति है और सप्ताह के पहले और अंतिम दिन ऑफिस नहीं जाता है। E, Z की पत्नी है, सुजुकी कार का उपयोग करती है और शुक्रवार को कार्यालय जाती है। B, टाटा कार का उपयोग नहीं करता है। हुंडई कार का उपयोग करने वाले व्यक्ति और A के बीच में केवल एक व्यक्ति कार्यालय जाता है, A जो लाल कार पसंद करता है और Y से विवाहित है। G, T का/की पति/पत्नी है और शनिवार को कार्यालय जाता है। टाटा का उपयोग करने वाले व्यक्ति और रेनॉल्ट का उपयोग करने वाले व्यक्ति के बीच में दिनों की संख्या लाल रंग और गुलाबी रंग की कार पसंद करने वाले व्यक्तियों के बीच में दिनों की संख्या के बराबर है। C को पिंक कार पसंद है और वह होंडा कार का उपयोग करता है। X का/की पति/पत्नी सफेद रंग पसंद करता है। जो व्यक्ति लाल कार पसंद करता है वह डैटसन कार का उपयोग करने वाले व्यक्ति के तुरंत बाद जाता है। जो व्यक्ति रेनॉल्ट कार का उपयोग करता है नीली कार पसंद करता है। W की पत्नी बुधवार को कार्यालय जाती है। D, V का/की पति/पत्नी है, B से पहले कार्यालय जाता है, लेकिन B के तुरंत पहले नहीं जाता है।

Q-6 One who uses blue car, use it on which day?
eng/eng जिसके पास नीले रंग की कार है वह उसे किस दिन प्रयोग करता है?

- | | |
|--|---|
| 01. Tuesday
मंगलवार | 02. Thursday
गुरुवार |
| 03. Either Tuesday or Thursday
या तो मंगलवार या बृहस्पतिवार | 04. Can't be determined
निर्धारित नहीं कर सकते |
| 05. Monday
निर्धारित नहीं कर सकते | |

Q-6 One who uses blue car, use it on which day?
eng hin जिसके पास नीले रंग की कार है वह उसे किस दिन प्रयोग करता है?

01. Tuesday
मंगलवार
02. Thursday
गुरुवार
03. Either Tuesday or Thursday
या तो मंगलवार या बृहस्पतिवार
04. Can't be determined
निर्धारित नहीं कर सकते
05. Monday
निर्धारित नहीं कर सकते

Ans Key: 5

Solution for Question 6

eng/eng

Monday	D	V	Blue	Renault
Tuesday	F	X	White	Hyundai
Wednesday	B	W	Black	Datsun
Thursday	A	Y	Red	Tata
Friday	E	Z	Green	Suzuki
Saturday	G	T	Yellow	Nissan
Sunday	C	U	Pink	Honda

सोमवार	D	V	नीला	रेनॉल्ट
मंगलवार	F	X	सफ़ेद	हंडई
बुधवार	B	W	काला	डैटसन
गुरुवार	A	Y	लाल	टाटा
शुक्रवार	E	Z	हरा	सुजुकी
शनिवार	G	T	पीला	निसान
रविवार	C	U	गुलाबी	होंडा

eng hin

Monday	D	V	Blue	Renault
Tuesday	F	X	White	Hyundai
Wednesday	B	W	Black	Datsun
Thursday	A	Y	Red	Tata
Friday	E	Z	Green	Suzuki
Saturday	G	T	Yellow	Nissan
Sunday	C	U	Pink	Honda

सोमवार	D	V	नीला	रेनॉल्ट
मंगलवार	F	X	सफ़ेद	हंडई
बुधवार	B	W	काला	डैटसन
गुरुवार	A	Y	लाल	टाटा
शुक्रवार	E	Z	हरा	सुजुकी
शनिवार	G	T	पीला	निसान
रविवार	C	U	गुलाबी	होंडा

Q-7 Who among the following goes to his office by car on Tuesday?
निम्नलिखित में से कौन मंगलवार को ऑफिस कार से जाता है?

eng/eng

01. The spouse of U
U का/की पति/पत्नी
02. The wife of B
B की पत्नी
03. The husband of T
T का पति
04. The husband of X
X का पति

Q-7 Who among the following goes to his office by car on Tuesday?
निम्नलिखित में से कौन मंगलवार को ऑफिस कार से जाता है?

eng hin

01. The spouse of U
U का/की पति/पत्नी
02. The wife of B
B की पत्नी
03. The husband of T
T का पति
04. The husband of X
X का पति

Ans Key: 4

Solution for Question 7

eng/eng

Monday	D	V	Blue	Renault
Tuesday	F	X	White	Hyundai

Wednesday	B	W	Black	Datsun
Thursday	A	Y	Red	Tata
Friday	E	Z	Green	Suzuki
Saturday	G	T	Yellow	Nissan
Sunday	C	U	Pink	Honda

सोमवार	D	V	नीला	रेनॉल्ट
मंगलवार	F	X	सफ़ेद	हुंडई
बुधवार	B	W	काला	डैटसन
गुरुवार	A	Y	लाल	टाटा
शुक्रवार	E	Z	हरा	सुजुकी
शनिवार	G	T	पीला	निसान
रविवार	C	U	गुलाबी	होंडा

Monday	D	V	Blue	Renault
Tuesday	F	X	White	Hyundai
Wednesday	B	W	Black	Datsun
Thursday	A	Y	Red	Tata
Friday	E	Z	Green	Suzuki
Saturday	G	T	Yellow	Nissan
Sunday	C	U	Pink	Honda

सोमवार	D	V	नीला	रेनॉल्ट
मंगलवार	F	X	सफ़ेद	हुंडई
बुधवार	B	W	काला	डैटसन
गुरुवार	A	Y	लाल	टाटा
शुक्रवार	E	Z	हरा	सुजुकी
शनिवार	G	T	पीला	निसान
रविवार	C	U	गुलाबी	होंडा

Q-8 Who among the following uses which car on Sunday?
 eng/eng निम्नलिखित में से कौन रविवार को अपनी किस कार प्रयोग करता हैं?

- | | |
|------------------------------|----------------------------|
| 01. A - Tata
A – टाटा | 02. B - Tata
B – टाटा |
| 03. D - Nissan
D – निसान | 04. C - Honda
C – होंडा |
| 05. E - Renault
C – होंडा | |

Q-8 Who among the following uses which car on Sunday?
 eng/eng निम्नलिखित में से कौन रविवार को अपनी किस कार प्रयोग करता हैं?

- | | |
|------------------------------|----------------------------|
| 01. A - Tata
A – टाटा | 02. B - Tata
B – टाटा |
| 03. D - Nissan
D – निसान | 04. C - Honda
C – होंडा |
| 05. E - Renault
C – होंडा | |

Solution for Question 8 Ans Key: 4

Monday	D	V	Blue	Renault
Tuesday	F	X	White	Hyundai
Wednesday	B	W	Black	Datsun
Thursday	A	Y	Red	Tata
Friday	E	Z	Green	Suzuki
Saturday	G	T	Yellow	Nissan
Sunday	C	U	Pink	Honda

सोमवार	D	V	नीला	रेनॉल्ट
मंगलवार	F	X	सफ़ेद	हुंडई
बुधवार	B	W	काला	डैटसन

गुरुवार	A	Y	लाल	टाटा
शुक्रवार	E	Z	हरा	सुजुकी
शनिवार	G	T	पीला	निसान
रविवार	C	U	गुलाबी	होंडा

Monday	D	V	Blue	Renault
Tuesday	F	X	White	Hyundai
Wednesday	B	W	Black	Datsun
Thursday	A	Y	Red	Tata
Friday	E	Z	Green	Suzuki
Saturday	G	T	Yellow	Nissan
Sunday	C	U	Pink	Honda

सोमवार	D	V	नीला	रेनॉल्ट
मंगलवार	F	X	सफ़ेद	हंडई
बुधवार	B	W	काला	डैटसन
गुरुवार	A	Y	लाल	टाटा
शुक्रवार	E	Z	हरा	सुजुकी
शनिवार	G	T	पीला	निसान
रविवार	C	U	गुलाबी	होंडा

Q-9 Which of the following combinations is true?
निम्नलिखित में से कौन-सा जोड़ा सत्य है?

- A-Y-Monday-Blue
A-Y-सोमवार-नीला
- B-W-Sunday-Red
B-W-रविवार-लाल
- C-U-Friday-Pink
C-U-शुक्रवार-गुलाबी
- B-W-Wednesday-Black
B-W-बुधवार-काला
- G-Z-Saturday-Green
G-Z-शनिवार-हरा

Q-9 Which of the following combinations is true?
निम्नलिखित में से कौन-सा जोड़ा सत्य है?

- A-Y-Monday-Blue
A-Y-सोमवार-नीला
- B-W-Sunday-Red
B-W-रविवार-लाल
- C-U-Friday-Pink
C-U-शुक्रवार-गुलाबी
- B-W-Wednesday-Black
B-W-बुधवार-काला
- G-Z-Saturday-Green
G-Z-शनिवार-हरा

Solution for Question 9

Ans Key: 4

Monday	D	V	Blue	Renault
Tuesday	F	X	White	Hyundai
Wednesday	B	W	Black	Datsun
Thursday	A	Y	Red	Tata
Friday	E	Z	Green	Suzuki
Saturday	G	T	Yellow	Nissan
Sunday	C	U	Pink	Honda

सोमवार	D	V	नीला	रेनॉल्ट
मंगलवार	F	X	सफ़ेद	हंडई
बुधवार	B	W	काला	डैटसन
गुरुवार	A	Y	लाल	टाटा
शुक्रवार	E	Z	हरा	सुजुकी
शनिवार	G	T	पीला	निसान
रविवार	C	U	गुलाबी	होंडा

Monday	D	V	Blue	Renault
Tuesday	F	X	White	Hyundai
Wednesday	B	W	Black	Datsun

Wednesday	B	W	Black	Datsun
Thursday	A	Y	Red	Tata
Friday	E	Z	Green	Suzuki
Saturday	G	T	Yellow	Nissan
Sunday	C	U	Pink	Honda

सोमवार	D	V	नीला	रेनॉल्ट
मंगलवार	F	X	सफ़ेद	हंडई
बुधवार	B	W	काला	डैटसन
गुरुवार	A	Y	लाल	टाटा
शुक्रवार	E	Z	हरा	सुजुकी
शनिवार	G	T	पीला	निसान
रविवार	C	U	गुलाबी	होंडा

Q-10 One who uses Green colour car, use which company car?
eng/eng जिसके पास हरे रंग की कार है वह किस कंपनी की कार का प्रयोग करता है?

01. Tata
टाटा
02. Honda
होंडा
03. Renault
रेनॉल्ट
04. Hyundai
हुंडई
05. Suzuki
सुजुकी

Q-10 One who uses Green colour car, use which company car?
eng hin जिसके पास हरे रंग की कार है वह किस कंपनी की कार का प्रयोग करता है?

01. Tata
टाटा
02. Honda
होंडा
03. Renault
रेनॉल्ट
04. Hyundai
हुंडई
05. Suzuki
सुजुकी

Solution for Question 10 Ans Key: 5

eng/eng

Monday	D	V	Blue	Renault
Tuesday	F	X	White	Hyundai
Wednesday	B	W	Black	Datsun
Thursday	A	Y	Red	Tata
Friday	E	Z	Green	Suzuki
Saturday	G	T	Yellow	Nissan
Sunday	C	U	Pink	Honda

सोमवार	D	V	नीला	रेनॉल्ट
मंगलवार	F	X	सफ़ेद	हंडई
बुधवार	B	W	काला	डैटसन
गुरुवार	A	Y	लाल	टाटा
शुक्रवार	E	Z	हरा	सुजुकी
शनिवार	G	T	पीला	निसान
रविवार	C	U	गुलाबी	होंडा

eng hin

Monday	D	V	Blue	Renault
Tuesday	F	X	White	Hyundai
Wednesday	B	W	Black	Datsun
Thursday	A	Y	Red	Tata
Friday	E	Z	Green	Suzuki
Saturday	G	T	Yellow	Nissan
Sunday	C	U	Pink	Honda

सोमवार	D	V	नीला	रेनॉल्ट
मंगलवार	F	X	सफ़ेद	हंडई
बुधवार	B	W	काला	डैटसन

गुरुवार	A	Y	लाल	टाटा
शुक्रवार	E	Z	हरा	सुजुकी
शनिवार	G	T	पीला	निसान
रविवार	C	U	गुलाबी	होंडा

Passage for Question 11, 12, 13, 14, 15 (ST-RRBPOMAINSDEMO(11-15R)2020)

eng/eng Passage

Study the following information carefully and answer the question given below:

Ramesh, Rakesh, Raju, Rahim, Rahul, Rajni, Rajan and Rajesh are eight International players belongs to eight different country India, China, Russia, England, New Zealand, Sri Lanka, America and Mexico. Each of them plays a different game Polo, Carrom, Badminton, Chess, Football, Cricket, Boxing and Tennis. Each of these players has a different choice of food, viz. Burger, Egg Curry, Fish Curry, Biryani, Mattar Paneer, Shahi Paneer, Pasta and Pizza. All information are not necessarily in the same order.

Neither Rahim nor Rajan belongs to New Zealand or America. The one who belongs to Mexico play Tennis. Ramesh belongs to England and likes Burger. The one who plays Football belongs to Russia. The one who likes Biryani belongs to India. Raju does not like Egg Curry or Biryani and does not belong to America. Rahul is a player of Carrom. Rahim plays Boxing and likes Shahi Paneer. The Chess player likes Fish Curry. Rakesh who does not like Pizza plays Tennis. Rajan likes pasta and is a Badminton player. The one who likes Egg Curry will participate in Cricket. Rajesh does not like Fish Curry. Rajni does not like Biryani and does not play Tennis. Rajesh neither belongs to India nor play Cricket.

निम्नलिखित जानकारी का ध्यानपूर्वक अध्ययन करें और नीचे दिये गये प्रश्न का उत्तर दीजिए।

आठ अन्तर्राष्ट्रीय खिलाड़ी रमेश, राकेश, राजू, रहीम, राहुल, रजनी, राजन और राजेश जो आठ अलग-अलग देशों भारत, चीन, रूस, इंग्लैंड, न्यूजीलैंड, श्रीलंका, अमेरिका और मैक्सिको के हैं। प्रत्येक खिलाड़ी अलग-अलग खेल जैसे पोलो, कैरम, बैडमिन्टन, चैस, फुटबॉल, क्रिकेट, बॉक्सिंग और टेनिस खेलते हैं। प्रत्येक खिलाड़ी अलग-अलग प्रकार के भोजन जैसे बर्गर, अण्डा करी, मछली करी, बिरयानी, मटर पनीर, शाही पनीर, पास्ता और पिज्जा पसंद करते हैं। सभी जानकारी जरूरी नहीं कि इसी क्रम में हो।

न तो रहीम और न ही राजन, न्यूजीलैंड या अमेरिका से संबन्धित हैं। वह व्यक्ति जो मेक्सिको से है टेनिस खेलता है। रमेश, इंग्लैंड से संबन्धित है और बर्गर पसंद करता है। जो व्यक्ति फुटबॉल खेलता है वह रूस से संबन्धित है। जो व्यक्ति बिरयानी पसंद करता है वह भारत से संबन्धित है। राजू, अण्डाकरी या बिरयानी पसंद नहीं करता है और वह अमेरिका से सम्बन्धित नहीं है। राहुल, कैरम खेलता है। रहीम, बॉक्सिंग करता है और शाही पनीर पसंद करता है। चैस खिलाड़ी, मछली करी पसंद करता है। राकेश जो पिज्जा पसंद नहीं करता है वह टेनिस खेलता है। राजन पास्ता पसंद करता है और बैडमिन्टन खेलता है। वह व्यक्ति जो अण्डा करी पसंद करता है, वह क्रिकेट खेलता है। राजेश, मछली करी पसंद नहीं करता है। रजनी, बिरयानी पसन्द नहीं करती है और वह टेनिस नहीं खेलती है। राजेश न तो भारत से है और न ही क्रिकेट खेलता है।

eng hin Passage

Study the following information carefully and answer the question given below:

Ramesh, Rakesh, Raju, Rahim, Rahul, Rajni, Rajan and Rajesh are eight International players belongs to eight different country India, China, Russia, England, New Zealand, Sri Lanka, America and Mexico. Each of them plays a different game Polo, Carrom, Badminton, Chess, Football, Cricket, Boxing and Tennis. Each of these players has a different choice of food, viz. Burger, Egg Curry, Fish Curry, Biryani, Mattar Paneer, Shahi Paneer, Pasta and Pizza. All information are not necessarily in the same order.

Neither Rahim nor Rajan belongs to New Zealand or America. The one who belongs to Mexico play Tennis. Ramesh belongs to England and likes Burger. The one who plays Football belongs to Russia. The one who likes Biryani belongs to India. Raju does not like Egg Curry or Biryani and does not belong to America. Rahul is a player of Carrom. Rahim plays Boxing and likes Shahi Paneer. The Chess player likes Fish Curry. Rakesh who does not like Pizza plays Tennis. Rajan likes pasta and is a Badminton player. The one who likes Egg Curry will participate in Cricket. Rajesh does not like Fish Curry. Rajni does not like Biryani and does not play Tennis. Rajesh neither belongs to India nor play Cricket.

निम्नलिखित जानकारी का ध्यानपूर्वक अध्ययन करें और नीचे दिये गये प्रश्न का उत्तर दीजिए।

आठ अन्तर्राष्ट्रीय खिलाड़ी रमेश, राकेश, राजू, रहीम, राहुल, रजनी, राजन और राजेश जो आठ अलग-अलग देशों भारत, चीन, रूस, इंग्लैंड, न्यूजीलैंड, श्रीलंका, अमेरिका और मैक्सिको के हैं। प्रत्येक खिलाड़ी अलग-अलग खेल जैसे पोलो, कैरम, बैडमिन्टन, चैस, फुटबॉल, क्रिकेट, बॉक्सिंग और टेनिस खेलते हैं। प्रत्येक खिलाड़ी अलग-अलग प्रकार के भोजन जैसे बर्गर, अण्डा करी, मछली करी, बिरयानी, मटर पनीर, शाही पनीर, पास्ता और पिज्जा पसंद करते हैं। सभी जानकारी जरूरी नहीं कि इसी क्रम में हो।

न तो रहीम और न ही राजन, न्यूजीलैंड या अमेरिका से संबन्धित हैं। वह व्यक्ति जो मेक्सिको से है टेनिस खेलता है। रमेश, इंग्लैंड से संबन्धित है और बर्गर पसंद करता है। जो व्यक्ति फुटबॉल खेलता है वह रूस से संबन्धित है। जो व्यक्ति बिरयानी पसंद करता है वह भारत से संबन्धित है। राजू, अण्डाकरी या बिरयानी पसंद नहीं करता है और वह अमेरिका से सम्बन्धित नहीं है। राहुल, कैरम खेलता है। रहीम, बॉक्सिंग करता है और शाही पनीर पसंद करता है। चैस खिलाड़ी, मछली करी पसंद करता है। राकेश जो पिज्जा पसंद नहीं करता है वह टेनिस खेलता है। राजन पास्ता पसंद करता है और बैडमिन्टन खेलता है। वह व्यक्ति जो अण्डा करी पसंद करता है, वह क्रिकेट खेलता है। राजेश, मछली करी पसंद नहीं करता है। रजनी, बिरयानी पसन्द नहीं करती है और वह टेनिस नहीं खेलती है। राजेश न तो भारत से है और न ही क्रिकेट खेलता है।

Q-11 Who among the following likes Matter Paneer?

eng/eng उनमें से किसे मटर पनीर पसंद है?

01. Rakesh

02. Rahul

राकेश

राहुल

03. Rajni
रजनी

04. Either Rahul or Rajesh
या तो राहुल या राजेश

05. Either Rakesh or Rahul
या तो राकेश या राहुल

Q-11
eng hin Who among the following likes Matter Paneer?
उनमें से किसे मटर पनीर पसंद है?

01. Rakesh
राकेश

02. Rahul
राहुल

03. Rajni
रजनी

04. Either Rahul or Rajesh
या तो राहुल या राजेश

05. Either Rakesh or Rahul
या तो राकेश या राहुल

Solution for Question 11

Ans Key: 1

eng/eng

Ramesh	England	Polo	Burger
Rakesh	Mexico	Tennis	Mattar Paneer
Raju	New Zealand	Chess	Fish Curry
Rahim	China/Sri Lanka	Boxing	Shahi Paneer
Rahul	India	Carrom	Briyani
Rajni	America	Cricket	Egg Curry
Rajan	China/Sri Lanka	Badminton	Pasta
Rajesh	Russia	Football	Pizza

रमेश	इंग्लैंड	पोलो	बर्गर
राकेश	मेक्सिको	टैनिस	मटर पनीर
राजू	न्यूज़ीलैंड	चेस	फिश करी
रहीम	चीन/श्री लंका	बॉक्सिंग	शाही पनीर
राहुल	इंडिया	कैरम	बिरयानी
रजनी	अमेरिका	क्रिकेट	एग करी
राजन	चीन/श्री लंका	बैडमिंटन	पास्ता
राजेश	रूस	फुटबाल	पिज्जा

eng hin

Ramesh	England	Polo	Burger
Rakesh	Mexico	Tennis	Mattar Paneer
Raju	New Zealand	Chess	Fish Curry
Rahim	China/Sri Lanka	Boxing	Shahi Paneer
Rahul	India	Carrom	Briyani
Rajni	America	Cricket	Egg Curry
Rajan	China/Sri Lanka	Badminton	Pasta
Rajesh	Russia	Football	Pizza

रमेश	इंग्लैंड	पोलो	बर्गर
राकेश	मेक्सिको	टैनिस	मटर पनीर
राजू	न्यूज़ीलैंड	चेस	फिश करी
रहीम	चीन/श्री लंका	बॉक्सिंग	शाही पनीर
राहुल	इंडिया	कैरम	बिरयानी
रजनी	अमेरिका	क्रिकेट	एग करी
राजन	चीन/श्री लंका	बैडमिंटन	पास्ता
राजेश	रूस	फुटबाल	पिज्जा

Q-12
eng/eng Which of the following combinations of player-game-food is definitely correct?
निम्न खिलाड़ी-खेल-भोजन जोड़े में से कौन-सा निश्चित रूप से सत्य है?

01. Rahul-Carrom-Biryani-China
राहुल-कैरम-बिरयानी-चीन

02. Rajni-Tennis-Shahi Paneer-America
रजनी-टैनिस-शाही पनीर-अमेरिका

03. Rahul-Boxing-Shahi Paneer-India
राहुल-बॉक्सिंग-शाही पनीर-इंडिया

04. Raju-Chess-Fish Curry-New Zealand
राजू-चेस-मछली करी-न्यूज़ीलैंड

05. None of these
इनमें से कोई नहीं

Q-12
eng hin Which of the following combinations of player-game-food is definitely correct?
निम्न खिलाड़ी-खेल-भोजन जोड़े में से कौन-सा निश्चित रूप से सत्य है?

01. Rahul-Carrom-Biryani-China
राहुल-कैरम-बिरयानी-चीन
03. Rahul-Boxing-Shahi Paneer-India
राहुल-बॉक्सिंग-शाही पनीर-इंडिया
05. None of these
इनमें से कोई नहीं
02. Rajni-Tennis-Shahi Paneer-America
रजनी-टेनिस-शाही पनीर-अमेरिका
04. Raju-Chess-Fish Curry-New Zealand
राजू-चेस-मछली करी-न्यूज़ीलैंड

Solution for Question 12

Ans Key: 4

eng/eng

Ramesh	England	Polo	Burger
Rakesh	Mexico	Tennis	Mattar Paneer
Raju	New Zealand	Chess	Fish Curry
Rahim	China/Sri Lanka	Boxing	Shahi Paneer
Rahul	India	Carrom	Biryani
Rajni	America	Cricket	Egg Curry
Rajan	China/Sri Lanka	Badminton	Pasta
Rajesh	Russia	Football	Pizza

रमेश	इंग्लैंड	पोलो	बर्गर
राकेश	मेक्सिको	टेनिस	मटर पनीर
राजू	न्यूज़ीलैंड	चेस	फिश करी
रहीम	चीन/श्रीलंका	बॉक्सिंग	शाही पनीर
राहुल	इंडिया	कैरम	बिरयानी
रजनी	अमेरिका	क्रिकेट	एग करी
राजन	चीन/श्रीलंका	बैडमिंटन	पास्ता
राजेश	रूस	फुटबाल	पिज्जा

eng hin

Ramesh	England	Polo	Burger
Rakesh	Mexico	Tennis	Mattar Paneer
Raju	New Zealand	Chess	Fish Curry
Rahim	China/Sri Lanka	Boxing	Shahi Paneer
Rahul	India	Carrom	Biryani
Rajni	America	Cricket	Egg Curry
Rajan	China/Sri Lanka	Badminton	Pasta
Rajesh	Russia	Football	Pizza

रमेश	इंग्लैंड	पोलो	बर्गर
राकेश	मेक्सिको	टेनिस	मटर पनीर
राजू	न्यूज़ीलैंड	चेस	फिश करी
रहीम	चीन/श्रीलंका	बॉक्सिंग	शाही पनीर
राहुल	इंडिया	कैरम	बिरयानी
रजनी	अमेरिका	क्रिकेट	एग करी
राजन	चीन/श्रीलंका	बैडमिंटन	पास्ता
राजेश	रूस	फुटबाल	पिज्जा

Q-13 The one who plays Badminton belongs to which country?

eng/eng

बैडमिंटन खेलने वाले का संबंध किस देश से है?

01. China
चीन
03. India
भारत
05. Either option 01 or 02
या तो विकल्प 01 या 02
02. Sri Lanka
श्रीलंका
04. Russia
रूस

Q-13 The one who plays Badminton belongs to which country?

eng hin

बैडमिंटन खेलने वाले का संबंध किस देश से है?

01. China
चीन
03. India
भारत
05. Either option 01 or 02
या तो विकल्प 01 या 02
02. Sri Lanka
श्रीलंका
04. Russia
रूस

Solution for Question 13

eng/eng

Ramesh	England	Polo	Burger
Rakesh	Mexico	Tennis	Mattar Paneer
Raju	New Zealand	Chess	Fish Curry
Rahim	China/Sri Lanka	Boxing	Shahi Paneer
Rahul	India	Carrom	Biryani
Rajni	America	Cricket	Egg Curry
Rajan	China/Sri Lanka	Badminton	Pasta
Rajesh	Russia	Football	Pizza

रमेश	इंग्लैंड	पोलो	बर्गर
राकेश	मेक्सिको	टैनिस	मटर पनीर
राजू	न्यू जीलैंड	चेस	फिश करी
रहीम	चीन/श्री लंका	बॉक्सिंग	शाही पनीर
राहुल	इंडिया	कैरम	बिरयानी
रजनी	अमेरिका	क्रिकेट	एग करी
राजन	चीन/श्री लंका	बैडमिंटन	पास्ता
राजेश	रूस	फुटबाल	पिज्जा

eng hin

Ramesh	England	Polo	Burger
Rakesh	Mexico	Tennis	Mattar Paneer
Raju	New Zealand	Chess	Fish Curry
Rahim	China/Sri Lanka	Boxing	Shahi Paneer
Rahul	India	Carrom	Biryani
Rajni	America	Cricket	Egg Curry
Rajan	China/Sri Lanka	Badminton	Pasta
Rajesh	Russia	Football	Pizza

रमेश	इंग्लैंड	पोलो	बर्गर
राकेश	मेक्सिको	टैनिस	मटर पनीर
राजू	न्यू जीलैंड	चेस	फिश करी
रहीम	चीन/श्री लंका	बॉक्सिंग	शाही पनीर
राहुल	इंडिया	कैरम	बिरयानी
रजनी	अमेरिका	क्रिकेट	एग करी
राजन	चीन/श्री लंका	बैडमिंटन	पास्ता
राजेश	रूस	फुटबाल	पिज्जा

Q-14 Who among the following likes Biryani?

eng/eng निम्न में से किसे बिरयानी पसंद है?

- | | |
|--|---------------------|
| 01. Rajni
रजनी | 02. Rakesh
राकेश |
| 03. Rajan
राजन | 04. Rahul
राहुल |
| 05. None of these
इनमें से कोई नहीं | |

Q-14 Who among the following likes Biryani?

eng hin निम्न में से किसे बिरयानी पसंद है?

- | | |
|--|---------------------|
| 01. Rajni
रजनी | 02. Rakesh
राकेश |
| 03. Rajan
राजन | 04. Rahul
राहुल |
| 05. None of these
इनमें से कोई नहीं | |

Solution for Question 14

Ans Key: 4

eng/eng

Ramesh	England	Polo	Burger
Rakesh	Mexico	Tennis	Mattar Paneer
Raju	New Zealand	Chess	Fish Curry
Rahim	China/Sri Lanka	Boxing	Shahi Paneer
Rahul	India	Carrom	Biryani
Rajni	America	Cricket	Egg Curry

Rajan	China/Sri Lanka	Badminton	Pasta
Rajesh	Russia	Football	Pizza

रमेश	इंग्लैंड	पोलो	बर्गर
राकेश	मेक्सिको	टेनिस	मटर पनीर
राजू	न्यूज़ीलैंड	चेस	फिश करी
रहीम	चीन/श्री लंका	बॉक्सिंग	शाही पनीर
राहुल	इंडिया	कैरम	बिरयानी
रजनी	अमेरिका	क्रिकेट	एग करी
राजन	चीन/श्री लंका	बैडमिंटन	पास्ता
राजेश	रूस	फूटबाल	पिज्जा

Ramesh	England	Polo	Burger
Rakesh	Mexico	Tennis	Mattar Paneer
Raju	New Zealand	Chess	Fish Curry
Rahim	China/Sri Lanka	Boxing	Shahi Paneer
Rahul	India	Carrom	Briyani
Rajni	America	Cricket	Egg Curry
Rajan	China/Sri Lanka	Badminton	Pasta
Rajesh	Russia	Football	Pizza

रमेश	इंग्लैंड	पोलो	बर्गर
राकेश	मेक्सिको	टेनिस	मटर पनीर
राजू	न्यूज़ीलैंड	चेस	फिश करी
रहीम	चीन/श्री लंका	बॉक्सिंग	शाही पनीर
राहुल	इंडिया	कैरम	बिरयानी
रजनी	अमेरिका	क्रिकेट	एग करी
राजन	चीन/श्री लंका	बैडमिंटन	पास्ता
राजेश	रूस	फूटबाल	पिज्जा

The one who likes Pizza is a player of-
वह एक खिलाड़ी कौन सा है जो पिज्जा पसंद करता है?

01. Cricket
क्रिकेट
02. Football
फुटबॉल
03. Tennis
टेनिस
04. Chess
चेस
05. None of these
इनमें से कोई नहीं

The one who likes Pizza is a player of-
वह एक खिलाड़ी कौन सा है जो पिज्जा पसंद करता है?

01. Cricket
क्रिकेट
02. Football
फुटबॉल
03. Tennis
टेनिस
04. Chess
चेस
05. None of these
इनमें से कोई नहीं

Solution for Question 15

Ans Key: 2

Ramesh	England	Polo	Burger
Rakesh	Mexico	Tennis	Mattar Paneer
Raju	New Zealand	Chess	Fish Curry
Rahim	China/Sri Lanka	Boxing	Shahi Paneer
Rahul	India	Carrom	Briyani
Rajni	America	Cricket	Egg Curry
Rajan	China/Sri Lanka	Badminton	Pasta
Rajesh	Russia	Football	Pizza

रमेश	इंग्लैंड	पोलो	बर्गर
राकेश	मेक्सिको	टेनिस	मटर पनीर
राजू	न्यूज़ीलैंड	चेस	फिश करी
रहीम	चीन/श्री लंका	बॉक्सिंग	शाही पनीर
राहुल	इंडिया	कैरम	बिरयानी

रजनी	अमेरिका	क्रिकेट	एग करी
राजन	चीन/श्री लंका	बैडमिंटन	पास्ता
राजेश	रूस	फूटबाल	पिज्जा

eng hin

Ramesh	England	Polo	Burger
Rakesh	Mexico	Tennis	Mattar Paneer
Raju	New Zealand	Chess	Fish Curry
Rahim	China/Sri Lanka	Boxing	Shahi Paneer
Rahul	India	Carrom	Briyani
Rajni	America	Cricket	Egg Curry
Rajan	China/Sri Lanka	Badminton	Pasta
Rajesh	Russia	Football	Pizza

रमेश	इंग्लैंड	पोलो	बर्गर
राकेश	मेक्सिको	टेनिस	मटर पनीर
राजू	न्यू ज़ीलैंड	चेस	फिश करी
रहीम	चीन/श्री लंका	बॉक्सिंग	शाही पनीर
राहुल	इंडिया	कैरम	बिरयानी
रजनी	अमेरिका	क्रिकेट	एग करी
राजन	चीन/श्री लंका	बैडमिंटन	पास्ता
राजेश	रूस	फूटबाल	पिज्जा

Passage for Question 16, 17, 18, 19, 20 (ST-RRBPOMAINSDemo(16-20R)2020)

eng/eng Passage

Study the following information carefully and answer the question given below:

Twelve people are sitting in two parallel rows containing six people each, in such a way that there is an equal distance between adjacent persons. In row-1 K, J, I, H, G and V are seated and all of them are facing south. In row-2 Z, Y, X, W, E and U are seated and all of them are facing north. Therefore, in the given seating arrangement each member seated in a row faces another member of the other row. Each of person belongs to Football, Cricket, Hockey, Polo, Golf, Badminton, Volleyball, Basketball, Chess, Tennis, Table Tennis and Handball, but not necessarily in the same order.

The person who belongs to Football is an immediate right of the one who belongs to Hockey. K sits third to the right of G who is an immediate right the person sitting opposite to the person belong to Badminton. Z sits second to the right of E and is not an immediate neighbour of the one who belongs to Handball. Neither Z nor E faces G or K. Z does not sits at any of the extreme end. The one who belong to Basketball is fourth to the left of the one who belongs to Polo and sitting opposite to W. I does not faces Z or E and I does not sits at any of the extreme end. The one who belong to Golf sits between U and X. Neither U nor X faces G. W belongs to Chess. H does not sits at any of the extreme end and belong to Volleyball. Only one person sit between V and the one who belongs to Cricket. X is sitting opposite to the person who belongs to Table Tennis.

निम्नलिखित जानकारी का ध्यानपूर्वक अध्ययन करे और नीचे दिए गए प्रश्न का उत्तर दीजिये:

बारह व्यक्ति दो समानांतर पंक्तियों में, प्रत्येक पंक्ति में छः व्यक्ति इस प्रकार बैठे हैं कि अगल-बगल बैठे व्यक्तियों में समान दूरी है। पंक्ति-1 में K, J, I, H, G और V बैठे हैं और सभी दक्षिण की ओर देख रहे हैं। पंक्ति-2 में Z, Y, X, W, E और U बैठे हैं और सभी उत्तर की ओर देख रहे हैं। इस प्रकार, बैठने की दी गई व्यवस्था में एक पंक्ति में बैठे प्रत्येक व्यक्ति का मुंह दूसरी पंक्ति में बैठे प्रत्येक व्यक्ति के सामने है। प्रत्येक व्यक्ति अलग-अलग खेल फुटबॉल, क्रिकेट, हॉकी, पोलो, गोल्फ, बैडमिंटन, वॉलीबॉल, बास्केटबॉल, शतरंज, टेनिस, टेबल टेनिस और हैंडबॉल से संबंधित है, लेकिन जरूरी नहीं कि इसी क्रम में हो। जो व्यक्ति फुटबॉल से संबंधित है, वह हॉकी से संबंधित व्यक्ति के तुरंत दायें बैठा है। K, G के दायें तीसरा बैठा है, उस व्यक्ति के तुरंत दायें बैठा है जो बैडमिंटन से संबंधित व्यक्ति के विपरीत बैठा है। Z, E के दाएं दूसरा बैठा है और जो हैंडबॉल से संबंधित व्यक्ति का तुरंत पड़ोसी नहीं है। न तो Z और E, G या K की ओर देख रहे हैं। Z पंक्ति के किसी भी अंतिम छोर पर नहीं बैठा है। जो व्यक्ति बास्केटबॉल से संबंधित है, वह पोलो से संबंधित व्यक्ति के बायें चौथा और W के विपरीत बैठा है। I, Z या E की ओर नहीं देख रहा है और I पंक्ति के किसी भी अंतिम छोर पर नहीं बैठा है। जो व्यक्ति गोल्फ से संबंधित है, वह U और X के बीच में बैठा है। न तो U और न ही X, G की ओर देख रहे हैं। W, शतरंज से संबंधित है। H पंक्ति के किसी भी अंतिम छोर पर नहीं बैठा है और वॉलीबॉल से संबंधित है। V और वह व्यक्ति जो क्रिकेट से संबंधित है के बीच में केवल एक व्यक्ति बैठा है। X उस व्यक्ति के विपरीत बैठा है जो टेबल टेनिस से संबंधित है।

eng hin Passage

Study the following information carefully and answer the question given below:

Twelve people are sitting in two parallel rows containing six people each, in such a way that there is an equal distance between adjacent persons. In row-1 K, J, I, H, G and V are seated and all of them are facing south. In row-2 Z, Y, X, W, E and U are seated and all of them are facing north. Therefore, in the given seating arrangement each member seated in a row faces another member of the other row. Each of person belongs to Football, Cricket, Hockey, Polo, Golf, Badminton, Volleyball, Basketball, Chess, Tennis, Table Tennis and Handball, but not necessarily in the same order.

The person who belongs to Football is an immediate right of the one who belongs to Hockey. K sits third to the right of G who is an immediate right the person sitting opposite to the person belong to Badminton. Z sits second to the right of E and is not an immediate neighbour of the one who belongs to Handball. Neither Z nor E faces G or K. Z does not sits at any of the extreme end. The one who belong to Basketball is fourth to the left of the one who belongs to Polo and sitting opposite to W. I does not faces Z or E and I does not sits at any of the extreme end. The one who belong to Golf sits between U and X. Neither U nor X faces G. W belongs to Chess. H does not sits at any of the extreme end and belong to Volleyball. Only one person sit between V and the one who belongs to Cricket. X is sitting opposite to the person who belongs to Table Tennis.

निम्नलिखित जानकारी का ध्यानपूर्वक अध्ययन करे और नीचे दिए गए प्रश्न का उत्तर दीजिये:

बारह व्यक्ति दो समानांतर पंक्तियों में, प्रत्येक पंक्ति में छः व्यक्ति इस प्रकार बैठे हैं कि अगल-बगल बैठे व्यक्तियों में समान दूरी है। पंक्ति-1 में K, J, I, H, G और V बैठे

हैं और सभी दक्षिण की ओर देख रहे हैं। पंक्ति-2 में Z, Y, X, W, E और U बैठे हैं और सभी उत्तर की ओर देख रहे हैं। इस प्रकार, बैठने की दी गई व्यवस्था में एक पंक्ति में बैठे प्रत्येक व्यक्ति का मुंह दूसरी पंक्ति में बैठे प्रत्येक व्यक्ति के सामने है। प्रत्येक व्यक्ति अलग-अलग खेल फुटबॉल, क्रिकेट, हॉकी, पोलो, गोल्फ, बैडमिंटन, वॉलीबॉल, बास्केटबॉल, शतरंज, टेनिस, टेबल टेनिस और हैडबॉल से संबंधित है, लेकिन जरूरी नहीं कि इसी क्रम में हो। जो व्यक्ति फुटबॉल से संबंधित है, वह हॉकी से संबंधित व्यक्ति के तुरंत दायें बैठा है। K, G के दायें तीसरा बैठा है, उस व्यक्ति के तुरंत दायें बैठा है जो बैडमिंटन से संबंधित व्यक्ति के विपरीत बैठा है। Z, E के दाएं दूसरा बैठा है और जो हैडबॉल से संबंधित व्यक्ति का तुरंत पड़ोसी नहीं है। न तो Z और E, G या K की ओर देख रहे हैं। Z पंक्ति के किसी भी अंतिम छोर पर नहीं बैठा है। जो व्यक्ति बास्केटबॉल से संबंधित है, वह पोलो से संबंधित व्यक्ति के बायें चौथा और W के विपरीत बैठा है। I, Z या E की ओर नहीं देख रहा है और I पंक्ति के किसी भी अंतिम छोर पर नहीं बैठा है। जो व्यक्ति गोल्फ से संबंधित है, वह U और X के बीच में बैठा है। न तो U और न ही X, G की ओर देख रहे हैं। W, शतरंज से संबंधित है। H पंक्ति के किसी भी अंतिम छोर पर नहीं बैठा है और वॉलीबॉल से संबंधित है। V और वह व्यक्ति जो क्रिकेट से संबंधित है के बीच में केवल एक व्यक्ति बैठा है। X उस व्यक्ति के विपरीत बैठा है जो टेबल टेनिस से संबंधित है।

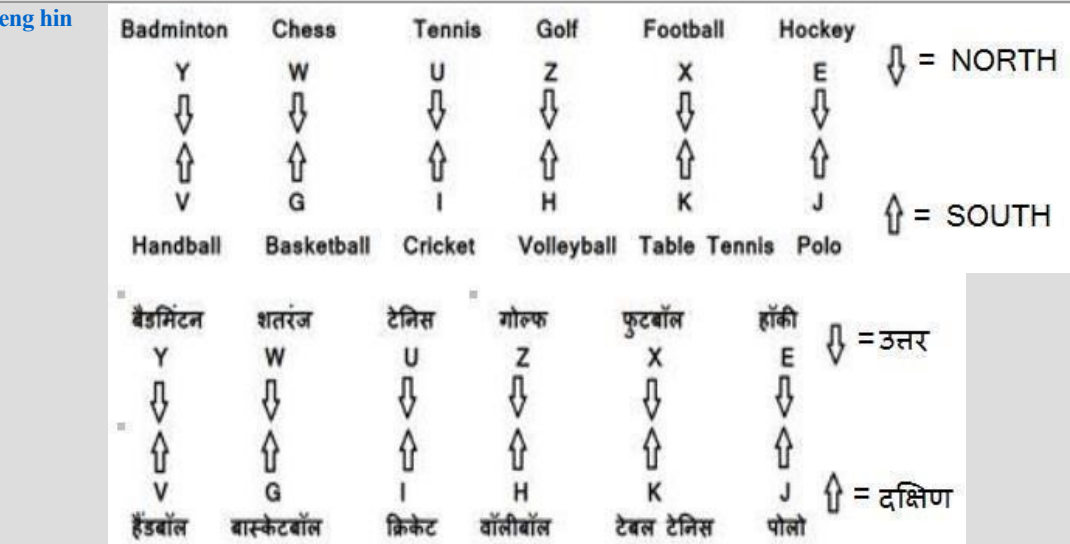
Q-16 How many persons are seated between Y and the one who belongs to Tennis?
eng/eng Y और जो व्यक्ति टेनिस से संबंधित है के बीच में कितने व्यक्ति बैठे हैं?

01. One
एक
02. Two
दो
03. Three
तीन
04. Four
चार
05. None
कोई नहीं

Q-16 How many persons are seated between Y and the one who belongs to Tennis?
eng hin Y और जो व्यक्ति टेनिस से संबंधित है के बीच में कितने व्यक्ति बैठे हैं?

01. One
एक
02. Two
दो
03. Three
तीन
04. Four
चार
05. None
कोई नहीं

Solution for Question 16 Ans Key: 1



Q-17 U is related to Handball in the same way as I is related to Football. In the same pattern which of the following is related to X?C
eng/eng U का हैंडबाल से वही संबंध है जो I का फूटबाल से है। इसी पैटर्न के अनुसार X का संबंध निम्न में से किसके साथ है?

01. Basketball
बास्केटबॉल

02. Chess
शतरंज

03. Cricket
क्रिकेट

04. Golf
गोल्फ

05. None of these
इनमें से कोई नहीं

Q-17 U is related to Handball in the same way as I is related to Football. In the same pattern which of the following is related to X?C
eng hin U का हैंडबाल से वही संबंध है जो I का फूटबाल से है। इसी पैटर्न के अनुसार X का संबंध निम्न में से किसके साथ है?

01. Basketball
बास्केटबॉल

02. Chess
शतरंज

03. Cricket
क्रिकेट

04. Golf
गोल्फ

05. None of these
इनमें से कोई नहीं

Solution for Question 17 Ans Key: 3

eng/eng	<div>Badminton Y ↓ ↑ V Handball बैडमिंटन Y ↓ ↑ V हैंडबॉल</div>	<div>Chess W ↓ ↑ G Basketball शतरंज W ↓ ↑ G बास्केटबॉल</div>	<div>Tennis U ↓ ↑ I Cricket टेनिस U ↓ ↑ I क्रिकेट</div>	<div>Golf Z ↓ ↑ H Volleyball गोल्फ Z ↓ ↑ H वॉलीबॉल</div>	<div>Football X ↓ ↑ K Table Tennis फुटबॉल X ↓ ↑ K टेबल टेनिस</div>	<div>Hockey E ↓ ↑ J Polo हॉकी E ↓ ↑ J पोलो</div>
eng hin	<div>Badminton Y ↓ ↑ V Handball बैडमिंटन Y ↓ ↑ V हैंडबॉल</div>	<div>Chess W ↓ ↑ G Basketball शतरंज W ↓ ↑ G बास्केटबॉल</div>	<div>Tennis U ↓ ↑ I Cricket टेनिस U ↓ ↑ I क्रिकेट</div>	<div>Golf Z ↓ ↑ H Volleyball गोल्फ Z ↓ ↑ H वॉलीबॉल</div>	<div>Football X ↓ ↑ K Table Tennis फुटबॉल X ↓ ↑ K टेबल टेनिस</div>	<div>Hockey E ↓ ↑ J Polo हॉकी E ↓ ↑ J पोलो</div>

Q-18 Which of the following is true regarding V?
eng/eng V के संबंध में निम्न में से कौन सा सत्य है?

01. V faces Z
V, Z के सामने है

02. G is an immediate neighbour of V
G, V का निकटतम पड़ोसी है

03. X faces the one who is second to left of V
X, उसके सामने है जो V के बाएं को दूसरा है

04. V sits at the extreme right ends of the line
V पंक्ति के दायें अंतिम छोर पर बैठा है

05. I sits third to the left of V
I, V के बाएं को तीसरे स्थान पर बैठा है

Q-18 Which of the following is true regarding V?
eng hin V के संबंध में निम्न में से कौन सा सत्य है?

01. V faces Z
V, Z के सामने है

02. G is an immediate neighbour of V
G, V का निकटतम पड़ोसी है

03. X faces the one who is second to left of V
X, उसके सामने है जो V के बाएं को दूसरा है

04. V sits at the extreme right ends of the line
V पंक्ति के दायें अंतिम छोर पर बैठा है

05. I sits third to the left of V
I, V के बाएं को तीसरे स्थान पर बैठा है

Solution for Question 18 Ans Key: 2

eng/eng	<div>Badminton Y ↓ ↑ V Handball बैडमिंटन Y ↓ ↑ V हैंडबॉल</div>	<div>Chess W ↓ ↑ G Basketball शतरंज W ↓ ↑ G बास्केटबॉल</div>	<div>Tennis U ↓ ↑ I Cricket टेनिस U ↓ ↑ I क्रिकेट</div>	<div>Golf Z ↓ ↑ H Volleyball गोल्फ Z ↓ ↑ H वॉलीबॉल</div>	<div>Football X ↓ ↑ K Table Tennis फुटबॉल X ↓ ↑ K टेबल टेनिस</div>	<div>Hockey E ↓ ↑ J Polo हॉकी E ↓ ↑ J पोलो</div>
----------------	--	--	---	--	--	--

Y ↓ ↑ V	W ↓ ↑ G	U ↓ ↑ I	Z ↓ ↑ H	X ↓ ↑ K	E ↓ ↑ J
Handball बैडमिंटन	Basketball शतरंज	Cricket टेनिस	Volleyball गोल्फ	Table Tennis फुटबॉल	Polo हॉकी
Y ↓ ↑ V	W ↓ ↑ G	U ↓ ↑ I	Z ↓ ↑ H	X ↓ ↑ K	E ↓ ↑ J
हैंडबॉल	बास्केटबॉल	क्रिकेट	वॉलीबॉल	टेबल टेनिस	पोलो

Badminton	Chess	Tennis	Golf	Football	Hockey
Y ↓ ↑ V	W ↓ ↑ G	U ↓ ↑ I	Z ↓ ↑ H	X ↓ ↑ K	E ↓ ↑ J
Handball	Basketball	Cricket	Volleyball	Table Tennis	Polo
बैडमिंटन	शतरंज	टेनिस	गोल्फ	फुटबॉल	हॉकी
Y ↓ ↑ V	W ↓ ↑ G	U ↓ ↑ I	Z ↓ ↑ H	X ↓ ↑ K	E ↓ ↑ J
हैंडबॉल	बास्केटबॉल	क्रिकेट	वॉलीबॉल	टेबल टेनिस	पोलो

Q-19 Who amongst the following sit at extreme ends of the rows?
eng/hin निम्न में से कौन पंक्ति के अंतिम छोरों पर बैठे हैं?

01. W, U
02. V, H
03. J, H
04. Y, W
05. None of these
इनमें से कोई नहीं

Q-19 Who amongst the following sit at extreme ends of the rows?
eng/hin निम्न में से कौन पंक्ति के अंतिम छोरों पर बैठे हैं?

01. W, U
02. V, H
03. J, H
04. Y, W
05. None of these
इनमें से कोई नहीं

Solution for Question 19 Ans Key: 5

Badminton	Chess	Tennis	Golf	Football	Hockey
Y ↓ ↑ V	W ↓ ↑ G	U ↓ ↑ I	Z ↓ ↑ H	X ↓ ↑ K	E ↓ ↑ J
Handball	Basketball	Cricket	Volleyball	Table Tennis	Polo
बैडमिंटन	शतरंज	टेनिस	गोल्फ	फुटबॉल	हॉकी
Y ↓ ↑ V	W ↓ ↑ G	U ↓ ↑ I	Z ↓ ↑ H	X ↓ ↑ K	E ↓ ↑ J
हैंडबॉल	बास्केटबॉल	क्रिकेट	वॉलीबॉल	टेबल टेनिस	पोलो

Badminton	Chess	Tennis	Golf	Football	Hockey
Y ↓ ↑ V	W ↓ ↑ G	U ↓ ↑ I	Z ↓ ↑ H	X ↓ ↑ K	E ↓ ↑ J
Handball	Basketball	Cricket	Volleyball	Table Tennis	Polo
बैडमिंटन	शतरंज	टेनिस	गोल्फ	फुटबॉल	हॉकी
Y ↓ ↑ V	W ↓ ↑ G	U ↓ ↑ I	Z ↓ ↑ H	X ↓ ↑ K	E ↓ ↑ J
हैंडबॉल	बास्केटबॉल	क्रिकेट	वॉलीबॉल	टेबल टेनिस	पोलो

Q-20 Who amongst the following faces Z?
eng/hin निम्न में से Z के सामने कौन है?

01. V
02. H
03. J
04. I
05. G

Q-20 Who amongst the following faces Z?
निम्न में से Z के सामने कौन है?

eng hin

01. V
02. H
03. J
04. I
05. G

Solution for Question 20

Ans Key: 2

eng/eng

Badminton	Chess	Tennis	Golf	Football	Hockey
Y	W	U	Z	X	E
↓	↓	↓	↓	↓	↓
↑	↑	↑	↑	↑	↑
V	G	I	H	K	J
Handball	Basketball	Cricket	Volleyball	Table Tennis	Polo
बैडमिंटन	शतरंज	टेनिस	गोल्फ	फुटबॉल	हॉकी
Y	W	U	Z	X	E
↓	↓	↓	↓	↓	↓
↑	↑	↑	↑	↑	↑
V	G	I	H	K	J
हैंडबॉल	बास्केटबॉल	क्रिकेट	वॉलीबॉल	टेबल टेनिस	पोलो

eng hin

Badminton	Chess	Tennis	Golf	Football	Hockey
Y	W	U	Z	X	E
↓	↓	↓	↓	↓	↓
↑	↑	↑	↑	↑	↑
V	G	I	H	K	J
Handball	Basketball	Cricket	Volleyball	Table Tennis	Polo
बैडमिंटन	शतरंज	टेनिस	गोल्फ	फुटबॉल	हॉकी
Y	W	U	Z	X	E
↓	↓	↓	↓	↓	↓
↑	↑	↑	↑	↑	↑
V	G	I	H	K	J
हैंडबॉल	बास्केटबॉल	क्रिकेट	वॉलीबॉल	टेबल टेनिस	पोलो

Passage for Question 21, 22, 23, 24, 25 (ST-RRBPOMAINSDEMO(21-25R)2020)

eng/eng Passage

In the questions given below, certain symbols are used with the following meaning:

'P@Q' means 'P is 10 m north of Q'.

'P\$Q' means 'P is 15 m south of Q'.

'P%Q' means 'Q is 20 m east of P'.

'P&Q' means 'Q is 5 m west of P'.

'P#Q' means 'Q is 8 m north of P'.

'P*Q' means 'Q is 20 m south of P'.

'P!Q' means 'P is 15 m east of Q'.

'P©Q' means 'P is 17 m west of Q'.

If two symbols come together,

P%# or #%Q means Q is 20+8 m north-east of P.

Q\$© or ©\$P means P is 15+17 m south-west of Q.

and same....

Route I: O \$ N & M # T % R # % S

Route II: P © K @ W % V \$ U ! N

Route III: K * A & B # C # D \$ © E

नीचे दिए गए प्रश्नों में कुछ चिन्ह प्रयोग किए गए हैं जिनके अर्थ निम्नलिखित हैं -

'P@Q' का अर्थ है 'P, Q के उत्तर में 10 मी पर है।'

'P\$Q' का अर्थ है 'P, Q के दक्षिण में 15 मी पर है।'

'P%Q' का अर्थ है 'Q, P के पूर्व में 20 मी पर है।'

'P&Q' का अर्थ है 'Q, P के पश्चिम में 5 मी पर है।'

'P#Q' का अर्थ है 'Q, P के उत्तर में 8 मी पर है।'

'P*Q' का अर्थ है 'Q, P के दक्षिण में 20 मी पर है।'

'P!Q' का अर्थ है 'P, Q के पूर्व में 15 मी पर है।'

'P©Q' का अर्थ है 'P, Q के पश्चिम में 17 मी पर है।'

यदि दो चिन्ह एक साथ आयेगे,

P%# या #%Q का अर्थ है 'Q, P के उत्तर-पूर्व में 20+8 मी पर है।'

Q\$© या ©\$P का अर्थ है 'P, Q के दक्षिण-पश्चिम में 15+17 मी की दूरी पर है।'

और इसी प्रकार से....

रूट I: O \$ N & M # T % R # % S

रूट II: P © K @ W % V \$ U ! N

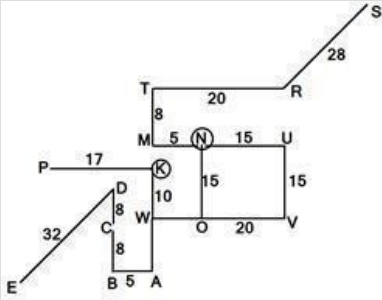
रूट III: K * A & B # C # D \$ © E

05. North-west
उत्तर-पश्चिम

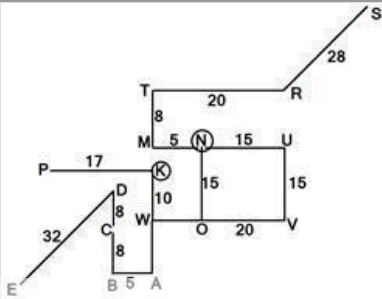
Ans Key: 4

Solution for Question 23

eng/eng



eng hin



Q-24 What is distance between P and A?
P और A की बीच की दूरी क्या है?

eng/eng

- | | |
|----------------|----------------|
| 01. 26.24 m/मी | 02. 27.54 m/मी |
| 03. 25.00 m/मी | 04. 38.24 m/मी |
| 05. 28.12 m/मी | |

Q-24 What is distance between P and A?
P और A की बीच की दूरी क्या है?

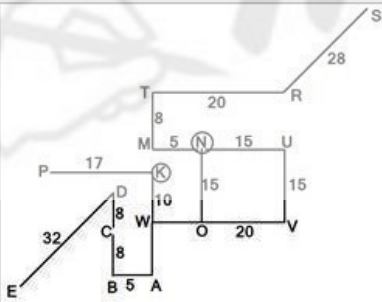
eng hin

- | | |
|----------------|----------------|
| 01. 26.24 m/मी | 02. 27.54 m/मी |
| 03. 25.00 m/मी | 04. 38.24 m/मी |
| 05. 28.12 m/मी | |

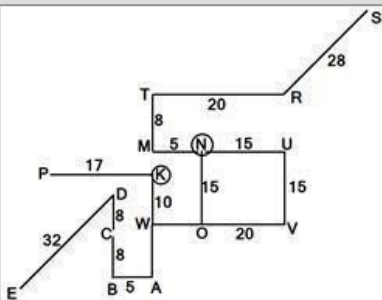
Solution for Question 24

Ans Key: 1

eng/eng



eng hin



Q-25 If a man start from S to go E taking minimum point following given path, then what is total distance travels by him?
यदि कोई व्यक्ति S से E तक कम से कम बिंदु पर दिये गए पाथ पर चलता है, तो कुल कितनी दूरी वह चलता है?

eng/eng

- | | |
|--------------|--------------|
| 01. 135 m/मी | 02. 144 m/मी |
| 03. 149 m/मी | 04. 124 m/मी |
| 05. 134 m/मी | |

If a man start from S to go E taking minimum point following given path, then what is total distance travels by him?
यदि कोई व्यक्ति S से E तक कम से कम बिंदु पर दिये गए पाथ पर चलता है, तो कुल कितनी दूरी वह चलता है?

- [illegible]

Ans Key: 2

[illegible]

Below in each question are given two statements (A) and (B). These statements may be either independent causes or may be effects of independent causes or a common cause. One of these statements may be the effect of the other statement. Read both the statements and decide which of the following answer choice correctly depicts the relationship between these two statements.

निम्नलिखित में से एक कथन दूसरे कथन का परिणाम हो सकता है। दोनों कथनों को पढ़िए और तय कीजिए कि निम्नलिखित में से किस उत्तर का चुनाव इन दोनों कथनों के बीच सही संबंध बताता है।

- (A) Government has increased number of Trains plying between New Delhi and Varanasi.
(B) The government has allowed the private owners to operate New Delhi and Varanasi Railway Stations.
(A) सरकार ने नई दिल्ली और वाराणसी के बीच चलने वाली ट्रेनों की संख्या बढ़ा दी है।
(B) सरकार ने निजी मालिकों को नई दिल्ली और वाराणसी रेलवे स्टेशनों को संचालित करने की अनुमति दी है।

01. If statement (A) is the cause and statement (B) is its effect.
दीजिए यदि कथन (A) कारण और कथन (B) इसका परिणाम है।
02. If statement (B) is the cause and statement (A) is its effect.
दीजिए यदि कथन (B) कारण है और कथन (A) इसका परिणाम है।
03. If both the statements (A) and (B) are independent causes.
दीजिए यदि दोनों कथन (A) और (B) स्वतंत्र कारण हैं।
04. If both the statements (A) and (B) are effects of independent causes.
दीजिए यदि दोनों कथन (A) और (B) स्वतंत्र कारणों के परिणाम हैं।
05. If both the statements (A) and (B) are effects of some common cause.
दीजिए यदि दोनों कथन (A) और (B) किसी सामान्य कारण के परिणाम हैं।

Below in each question are given two statements (A) and (B). These statements may be either independent causes or may be effects of independent causes or a common cause. One of these statements may be the effect of the other statement. Read both the statements and decide which of the following answer choice correctly depicts the relationship between these two statements.

नीचे प्रत्येक प्रश्न में (A) और (B) दो कथन दिए गए हैं। ये कथन या तो स्वतंत्र कारण हो सकते हैं या स्वतंत्र कारणों या सामान्य कारण के परिणाम हो सकते हैं। इनमें से एक कथन दूसरे कथन का परिणाम हो सकता है। दोनों कथनों को पढ़िए और तय कीजिए कि निम्नलिखित में से किस उत्तर का चुनाव इन दोनों कथनों के बीच सही संबंध बताता है।

- (A) Government has increased number of Trains plying between New Delhi and Varanasi.
(B) The government has allowed the private owners to operate New Delhi and Varanasi Railway Stations.
(A) सरकार ने नई दिल्ली और वाराणसी के बीच चलने वाली ट्रेनों की संख्या बढ़ा दी है।
(B) सरकार ने निजी मालिकों को नई दिल्ली और वाराणसी रेलवे स्टेशनों को संचालित करने की अनुमति दी है।

01. If statement (A) is the cause and statement (B) is its effect.
02. If statement (B) is the cause and statement (A) is its effect.
दीजिए यदि कथन (B) कारण है और कथन (A) इसका परिणाम है।

दीजिए यदि कथन (A) कारण और कथन (B) इसका परिणाम है।

03. If both the statements (A) and (B) are independent causes.
दीजिए यदि दोनों कथन (A) और (B) स्वतंत्र कारण हैं।
05. If both the statements (A) and (B) are effects of some common cause.
दीजिए यदि दोनों कथन (A) और (B) किसी सामान्य कारण के परिणाम हैं।

04. If both the statements (A) and (B) are effects of independent causes.
दीजिए यदि दोनों कथन (A) और (B) स्वतंत्र कारणों के परिणाम हैं।

Q-27
eng/eng

Below in each question are given two statements (A) and (B). These statements may be either independent causes or may be effects of independent causes or a common cause. One of these statements may be the effect of the other statement. Read both the statements and decide which of the following answer choice correctly depicts the relationship between these two statements.

नीचे प्रत्येक प्रश्न में (A) और (B) दो कथन दिए गए हैं। ये कथन या तो स्वतंत्र कारण हो सकते हैं या स्वतंत्र कारणों या सामान्य कारण के परिणाम हो सकते हैं। इनमें से एक कथन दूसरे कथन का परिणाम हो सकता है। दोनों कथनों को पढ़िए और तय कीजिए कि निम्नलिखित में से किस उत्तर का चुनाव इन दोनों कथनों के बीच सही संबंध बताता है।

(A) The Government have decided to conduct a combined examination for all Government jobs this year.

(B) As the dates for an exam for many Government jobs clashed last year, many candidates complained that they could not appear for a number of Government exam.

(A) सरकार ने इस साल सभी सरकारी नौकरियों के लिए एक संयुक्त परीक्षा आयोजित करने का निर्णय लिया है।

(B) क्योंकि पिछले वर्ष कई सरकारी नौकरी की परीक्षाओं की तारीखें एक साथ पड़ी, इसलिए कई उम्मीदवारों ने शिकायत की कि वे कई सरकारी परीक्षाओं में उपस्थित नहीं हो सके।

01. If statement (A) is the cause and statement (B) is its effect.
दीजिए यदि कथन (A) कारण और कथन (B) इसका परिणाम है।

02. If statement (B) is the cause and statement (A) is its effect.
दीजिए यदि कथन (B) कारण है और कथन (A) इसका परिणाम है।

03. If both the statements (A) and (B) are independent causes
दीजिए यदि दोनों कथन (A) और (B) स्वतंत्र कारण हैं।

04. If both the statements (A) and (B) are effects of independent causes.
दीजिए यदि दोनों कथन (A) और (B) स्वतंत्र कारणों के परिणाम हैं।

05. If both the statements (A) and (B) are effects of some common cause.
दीजिए यदि दोनों कथन (A) और (B) किसी सामान्य कारण के परिणाम हैं।

Q-27
eng/hin

Below in each question are given two statements (A) and (B). These statements may be either independent causes or may be effects of independent causes or a common cause. One of these statements may be the effect of the other statement. Read both the statements and decide which of the following answer choice correctly depicts the relationship between these two statements.

नीचे प्रत्येक प्रश्न में (A) और (B) दो कथन दिए गए हैं। ये कथन या तो स्वतंत्र कारण हो सकते हैं या स्वतंत्र कारणों या सामान्य कारण के परिणाम हो सकते हैं। इनमें से एक कथन दूसरे कथन का परिणाम हो सकता है। दोनों कथनों को पढ़िए और तय कीजिए कि निम्नलिखित में से किस उत्तर का चुनाव इन दोनों कथनों के बीच सही संबंध बताता है।

(A) The Government have decided to conduct a combined examination for all Government jobs this year.

(B) As the dates for an exam for many Government jobs clashed last year, many candidates complained that they could not appear for a number of Government exam.

(A) सरकार ने इस साल सभी सरकारी नौकरियों के लिए एक संयुक्त परीक्षा आयोजित करने का निर्णय लिया है।

(B) क्योंकि पिछले वर्ष कई सरकारी नौकरी की परीक्षाओं की तारीखें एक साथ पड़ी, इसलिए कई उम्मीदवारों ने शिकायत की कि वे कई सरकारी परीक्षाओं में उपस्थित नहीं हो सके।

01. If statement (A) is the cause and statement (B) is its effect.
दीजिए यदि कथन (A) कारण और कथन (B) इसका परिणाम है।

02. If statement (B) is the cause and statement (A) is its effect.
दीजिए यदि कथन (B) कारण है और कथन (A) इसका परिणाम है।

03. If both the statements (A) and (B) are independent causes
दीजिए यदि दोनों कथन (A) और (B) स्वतंत्र कारण हैं।

04. If both the statements (A) and (B) are effects of independent causes.
दीजिए यदि दोनों कथन (A) और (B) स्वतंत्र कारणों के परिणाम हैं।

05. If both the statements (A) and (B) are effects of some common cause.
दीजिए यदि दोनों कथन (A) और (B) किसी सामान्य कारण के परिणाम हैं।

Q-28
eng/eng

In each question below is given a statement followed by two assumptions numbered I and II. You have to consider the statement and the following assumptions and decide which of the assumptions is implicit in the statement.

नीचे दिए गए प्रत्येक प्रश्न में एक कथन दिया गया है जिसके बाद I और II दो पूर्वधारणा दी गयी हैं। आपको कथन और निम्नलिखित पूर्वधारणाओं पर विचार करना होगा और यह तय करना होगा कि कथन में कौन सी पूर्वधारणा अन्तर्निहित है।

Statement: The government airline has been making huge losses even as private airlines continue to prosper and make a substantial profit.
कथन: सरकारी एयर लाइन को भारी घाटा हो रहा है, जबकि निजी एयर लाइनें समृद्ध हो रही हैं और काफी फायदा कमा रही हैं।

Assumptions:

I. The number of private airlines operating in the country is increasing day by day.

II. Government airline has significantly increased passenger fares compared to private airline and their facilities are also not good.

पूर्वधारणाएं :

I. देश में संचालित होने वाली निजी एयरलाइनों की संख्या दिन-प्रतिदिन बढ़ रही है।

II. सरकारी एयरलाइन में निजी एयरलाइन की तुलना में यात्री किराए में काफी वृद्धि हुई है और उनकी सुविधाएं भी अच्छी नहीं हैं।

01. If only assumption I is implicit.
यदि केवल पूर्वधारणा I अन्तर्निहित है।

02. If only assumption II is implicit.
यदि केवल पूर्वधारणा II अन्तर्निहित है।

03. If either I or II is implicit.
यदि या तो I या II अन्तर्निहित है।

04. If neither I nor II is implicit.
यदि न तो I और न ही II अन्तर्निहित है।

05. If both I and II are implicit.
यदि I और II दोनों अन्तर्निहित हैं।

Q-28
eng/hin

In each question below is given a statement followed by two assumptions numbered I and II. You have to consider the statement and the following assumptions and decide which of the assumptions is implicit in the statement.

नीचे दिए गए प्रत्येक प्रश्न में एक कथन दिया गया है जिसके बाद I और II दो पूर्वधारणा दी गयी हैं। आपको कथन और निम्नलिखित पूर्वधारणाओं पर विचार करना होगा और यह तय करना होगा कि कथन में कौन सी पूर्वधारणा अन्तर्निहित है।

Statement: The government airline has been making huge losses even as private airlines continue to prosper and make a substantial profit.
कथन: सरकारी एयर लाइन को भारी घाटा हो रहा है, जबकि निजी एयर लाइनें समृद्ध हो रही हैं और काफी फायदा कमा रही हैं।

Assumptions:

I. The number of private airlines operating in the country is increasing day by day.

II. Government airline has significantly increased passenger fares compared to private airline and their facilities are also not good.

पूर्वधारणाएं :

I. देश में संचालित होने वाली निजी एयरलाइनों की संख्या दिन-प्रतिदिन बढ़ रही है।

II. सरकारी एयरलाइन में निजी एयरलाइन की तुलना में यात्री किराए में काफी वृद्धि हुई है और उनकी सुविधाएं भी अच्छी नहीं हैं।

01. If only assumption I is implicit.
यदि केवल पूर्वधारणा I अन्तर्निहित है।

02. If only assumption II is implicit.
यदि केवल पूर्वधारणा II अन्तर्निहित है।

03. If either I or II is implicit.
यदि या तो I या II अन्तर्निहित है।

04. If neither I nor II is implicit.
यदि न तो I और न ही II अन्तर्निहित है।

05. If both I and II are implicit.
यदि I और II दोनों अन्तर्निहित हैं।

Q-29
eng/eng

In each of the following questions a statement is given followed by two courses of Action. A course of action is taken for improvement, follow up etc. Read the statement carefully and give answer -

नीचे दिए गए प्रत्येक प्रश्न में एक कथन व दो कार्यवाहियां हैं। कोई भी कार्यवाही किसी सुधार या आगे की क्रिया आदि होती है। कथन का ध्यानपूर्वक अध्ययन कीजिये और उत्तर दीजिए -

Statement: Nearly 50 percent of all engineering graduates have been left unemployed owing to severe recession worldwide.
कथन: विश्वव्यापी अत्यधिक मंदी के कारण सभी इंजीनियरिंग ग्रेजुएटों के लगभग 50 प्रतिशत बेरोजगार रह गए हैं।

Courses of Action:

I. All unemployed students should be advised to take up jobs in foreign countries.

II. The unemployed students should be advised to take up jobs only after the recession is over.

कार्यवाहियां:

I. सभी बेरोजगार छात्रों को विदेशों में नौकरी करने की सलाह दी जानी चाहिए।

II. बेरोजगार छात्रों को मंदी खत्म होने के बाद ही नौकरी करने की सलाह दी जानी चाहिए।

01. If only course of action I follows.
यदि केवल कार्यवाही I अनुसरण करती है।

02. If only course of action II follows.
यदि केवल कार्यवाही II अनुसरण करती है।

03. If either course of action I or II follow.
यदि या तो कार्यवाही I या II अनुसरण करती है।

04. If neither course of action I nor II follows.
यदि न तो कार्यवाही I न ही II अनुसरण करती है।

05. If neither course of action I nor II follows.
यदि दोनों कार्यवाहियां I व II अनुसरण करती हैं।

Q-29
eng/hin

In each of the following questions a statement is given followed by two courses of Action. A course of action is taken for improvement, follow up etc. Read the statement carefully and give answer -

नीचे दिए गए प्रत्येक प्रश्न में एक कथन व दो कार्यवाहियां हैं। कोई भी कार्यवाही किसी सुधार या आगे की क्रिया आदि होती है। कथन का ध्यानपूर्वक अध्ययन कीजिये और उत्तर दीजिए -

Statement: Nearly 50 percent of all engineering graduates have been left unemployed owing to severe recession worldwide.
कथन: विश्वव्यापी अत्यधिक मंदी के कारण सभी इंजीनियरिंग ग्रेजुएटों के लगभग 50 प्रतिशत बेरोजगार रह गए हैं।

Courses of Action:

- I. All unemployed students should be advised to take up jobs in foreign countries.
 II. The unemployed students should be advised to take up jobs only after the recession is over.

कार्यवाहियां:

- I. सभी बेरोजगार छात्रों को विदेशों में नौकरी करने की सलाह दी जानी चाहिए।
 II. बेरोजगार छात्रों को मंदी खत्म होने के बाद ही नौकरी करने की सलाह दी जानी चाहिए।

01. If only course of action I follows.
यदि केवल कार्यवाही I अनुसरण करती है।
02. If only course of action II follows.
यदि केवल कार्यवाही II अनुसरण करती है।
03. If either course of action I or II follow.
यदि या तो कार्यवाही I या II अनुसरण करती है।
04. If neither course of action I nor II follows.
यदि न तो कार्यवाही I न ही II अनुसरण करती है।
05. If neither course of action I nor II follows.
यदि दोनों कार्यवाहियां I व II अनुसरण करती है।

Q-30
eng/eng

Study the following information carefully and answer the questions given below.
निम्नलिखित जानकारी का ध्यानपूर्वक अध्ययन कीजिये और नीचे दिए गए प्रश्नों के उत्तर दीजिये।

In the years since the city of London imposed strict air-pollution regulations on local industry, the number of bird species seen in and around London has increased dramatically. Similar air-pollution rules should be imposed in other major cities.

उन वर्षों से जब से लंदन शहर ने स्थानीय उद्योग पर सख्त वायु प्रदूषण नियम लगा दिये हैं, लंदन में और इसके आस-पास देखी गयी पक्षी प्रजातियों की संख्या में नाटकीय रूप से वृद्धि हुई है। इसी तरह के वायु प्रदूषण नियम अन्य प्रमुख शहरों में भी लगाये जाने चाहिए।

Each of the following is an assumption made in the argument above EXCEPT:
 निम्न में से किसके सिवाय, प्रत्येक उपरोक्त तर्क की एक पूर्वधारणा हो सकती है:

01. In most major cities, air-pollution problems are caused almost entirely by local industry.
अधिकांश प्रमुख शहरों में, वायु प्रदूषण की समस्याएँ लगभग पूरी तरह से स्थानीय उद्योगों के कारण होती हैं।
02. In most major cities, air-pollution problems are caused almost entirely by local industry.
उद्योग पर वायु प्रदूषण के नियमों का हवा की गुणवत्ता पर महत्वपूर्ण प्रभाव पड़ता है।
03. In most major cities, air-pollution problems are caused almost entirely by local industry.
अन्य प्रमुख शहरों की वायु प्रदूषण की समस्याएँ मुख्यतः उसके समान हैं जिनका लंदन ने सामना किया है।
04. An increase in the number of bird species in and around a city is desirable.
शहर के आस-पास पक्षी प्रजातियों की संख्या में वृद्धि किया जाना वांछनीय है।
05. The increased sightings of bird species in and around London reflect an actual increase in the number of species in the area.
लंदन में और उसके आसपास पक्षी प्रजातियों की द्रष्टव्य वृद्धि, क्षेत्र में प्रजातियों की संख्या में वास्तविक वृद्धि दर्शाता है।

Q-30
eng hin

Study the following information carefully and answer the questions given below.
निम्नलिखित जानकारी का ध्यानपूर्वक अध्ययन कीजिये और नीचे दिए गए प्रश्नों के उत्तर दीजिये।

In the years since the city of London imposed strict air-pollution regulations on local industry, the number of bird species seen in and around London has increased dramatically. Similar air-pollution rules should be imposed in other major cities.

उन वर्षों से जब से लंदन शहर ने स्थानीय उद्योग पर सख्त वायु प्रदूषण नियम लगा दिये हैं, लंदन में और इसके आस-पास देखी गयी पक्षी प्रजातियों की संख्या में नाटकीय रूप से वृद्धि हुई है। इसी तरह के वायु प्रदूषण नियम अन्य प्रमुख शहरों में भी लगाये जाने चाहिए।

Each of the following is an assumption made in the argument above EXCEPT:
 निम्न में से किसके सिवाय, प्रत्येक उपरोक्त तर्क की एक पूर्वधारणा हो सकती है:

01. In most major cities, air-pollution problems are caused almost entirely by local industry.
अधिकांश प्रमुख शहरों में, वायु प्रदूषण की समस्याएँ लगभग पूरी तरह से स्थानीय उद्योगों के कारण होती हैं।
02. In most major cities, air-pollution problems are caused almost entirely by local industry.
उद्योग पर वायु प्रदूषण के नियमों का हवा की गुणवत्ता पर महत्वपूर्ण प्रभाव पड़ता है।
03. In most major cities, air-pollution problems are caused almost entirely by local industry.
अन्य प्रमुख शहरों की वायु प्रदूषण की समस्याएँ मुख्यतः उसके समान हैं जिनका लंदन ने सामना किया है।
04. An increase in the number of bird species in and around a city is desirable.
शहर के आस-पास पक्षी प्रजातियों की संख्या में वृद्धि किया जाना वांछनीय है।
05. The increased sightings of bird species in and around London reflect an actual increase in the number of species in the area.

increase in the number of species in the area.

लंदन में और उसके आसपास पक्षी प्रजातियों की द्रष्टव्य वृद्धि, क्षेत्र में प्रजातियों की संख्या में वास्तविक वृद्धि दर्शाता है।

Q-31 In each of the following questions a statement is given followed by two courses of Action. A course of action is taken for improvement, follow up etc. Read the statement carefully and give answer -
eng/eng नीचे दिए प्रत्येक प्रश्न में एक कथन व दो कार्यवाहियां हैं। कोई भी कार्यवाही किसी सुधार या आगे की क्रिया आदि होती है। कथन का ध्यानपूर्वक अध्ययन कीजिये और उत्तर दीजिए -

Statement: The sales of wire earphone manufactured by company XYZ have gone down considerably ever since the same company introduced a wireless earphone in the market.

कथन : कम्पनी XYZ ने जब से बाजार में वायरलेस ईयरफोन उतारा तब से उसके द्वारा बनाये गए वायर ईयरफोन की बिक्री काफी कम हो गई है।

Courses of Action:

I. Wire earphone should not be manufactured by XYZ any more.

II. XYZ should immediately withdraw all wireless earphone from the market so as to force people to buy all wired earphone.

कार्यवाहियां :

I. XYZ को अब वायर ईयरफोन नहीं बनाने चाहिए।

II. XYZ को बाजार से सारे वायरलेस ईयरफोन उठा लेने चाहिए ताकि लोगों को वायर ईयरफोन खरीदने के लिए बाध्य किया जा सके।

01. If only course of action I follows.
यदि केवल कार्यवाही I अनुसरण करती है।

02. If only course of action II follows.
यदि केवल कार्यवाही II अनुसरण करती है।

03. If either course of action I or II follow.
यदि या तो कार्यवाही I या II अनुसरण करती है।

04. If neither course of action I nor II follows.
यदि न तो कार्यवाही I न ही II अनुसरण करती है।

05. If both courses of action I and II follow.
यदि न तो कार्यवाही I न ही II अनुसरण करती है।

Q-31 In each of the following questions a statement is given followed by two courses of Action. A course of action is taken for improvement, follow up etc. Read the statement carefully and give answer -
eng/eng नीचे दिए प्रत्येक प्रश्न में एक कथन व दो कार्यवाहियां हैं। कोई भी कार्यवाही किसी सुधार या आगे की क्रिया आदि होती है। कथन का ध्यानपूर्वक अध्ययन कीजिये और उत्तर दीजिए -

Statement: The sales of wire earphone manufactured by company XYZ have gone down considerably ever since the same company introduced a wireless earphone in the market.

कथन : कम्पनी XYZ ने जब से बाजार में वायरलेस ईयरफोन उतारा तब से उसके द्वारा बनाये गए वायर ईयरफोन की बिक्री काफी कम हो गई है।

Courses of Action:

I. Wire earphone should not be manufactured by XYZ any more.

II. XYZ should immediately withdraw all wireless earphone from the market so as to force people to buy all wired earphone.

कार्यवाहियां :

I. XYZ को अब वायर ईयरफोन नहीं बनाने चाहिए।

II. XYZ को बाजार से सारे वायरलेस ईयरफोन उठा लेने चाहिए ताकि लोगों को वायर ईयरफोन खरीदने के लिए बाध्य किया जा सके।

01. If only course of action I follows.
यदि केवल कार्यवाही I अनुसरण करती है।

02. If only course of action II follows.
यदि केवल कार्यवाही II अनुसरण करती है।

03. If either course of action I or II follow.
यदि या तो कार्यवाही I या II अनुसरण करती है।

04. If neither course of action I nor II follows.
यदि न तो कार्यवाही I न ही II अनुसरण करती है।

05. If both courses of action I and II follow.
यदि न तो कार्यवाही I न ही II अनुसरण करती है।

Q-32 Study the following information carefully and answer the questions given below.
eng/eng निम्नलिखित जानकारी का ध्यानपूर्वक अध्ययन कीजिये और नीचे दिए गए प्रश्नों के उत्तर दीजिये।

The earth's resources are being depleted much too fast. To correct this, the United States must keep its resource consumption at present levels for many years to come.

Which of the following, if true, would most strengthen the argument above?

पृथ्वी के संसाधन काफी तेजी से समाप्त हो रहे हैं। इसे सही करने के लिए, संयुक्त राज्य अमेरिका को आने वाले कई वर्षों के लिए अपने संसाधनों की खपत को वर्तमान स्तर पर बनाये रखना चाहिए।

निम्न में से कौन सा, सही होने पर, उपरोक्त तर्क को सशक्त करेगा?

01. New resource deposits are constantly being discovered.
नये संसाधन भंडार लगातार खोजे जा रहे हैं।

02. The United States consumes one-third of all resources used in the world.
संयुक्त राज्य अमेरिका दुनिया में इस्तेमाल किये जाने वाले कुल संसाधनों का एक तिहाई खपत करता है।

03. Other countries need economic development more than the United States does.
अन्य देशों को संयुक्त राज्य अमेरिका की तुलना में अधिक आर्थिक विकास की जरूरत है।
04. Other countries have agreed to hold their resource consumption at present levels.
अन्य देश अपने संसाधनों की खपत को वर्तमान स्तर पर रखने के लिये सहमत हो गए हैं।
05. The United States has been conserving resources for several years.
संयुक्त राज्य अमेरिका कई वर्षों से संसाधनों का संरक्षण कर रहा है।

Q-32
eng/hin

Study the following information carefully and answer the questions given below.
निम्नलिखित जानकारी का ध्यानपूर्वक अध्ययन कीजिये और नीचे दिए गए प्रश्नों के उत्तर दीजिये।

The earth's resources are being depleted much too fast. To correct this, the United States must keep its resource consumption at present levels for many years to come.

Which of the following, if true, would most strengthen the argument above?

पृथ्वी के संसाधन काफी तेजी से समाप्त हो रहे हैं। इसे सही करने के लिए, संयुक्त राज्य अमेरिका को आने वाले कई वर्षों के लिए अपने संसाधनों की खपत को वर्तमान स्तर पर बनाये रखना चाहिए।
निम्न में से कौन सा, सही होने पर, उपरोक्त तर्क को सशक्त करेगा?

01. New resource deposits are constantly being discovered.
नये संसाधन भंडार लगातार खोजे जा रहे हैं।
02. The United States consumes one-third of all resources used in the world.
संयुक्त राज्य अमेरिका दुनिया में इस्तेमाल किये जाने वाले कुल संसाधनों का एक तिहाई खपत करता है।
03. Other countries need economic development more than the United States does.
अन्य देशों को संयुक्त राज्य अमेरिका की तुलना में अधिक आर्थिक विकास की जरूरत है।
04. Other countries have agreed to hold their resource consumption at present levels.
अन्य देश अपने संसाधनों की खपत को वर्तमान स्तर पर रखने के लिये सहमत हो गए हैं।
05. The United States has been conserving resources for several years.
संयुक्त राज्य अमेरिका कई वर्षों से संसाधनों का संरक्षण कर रहा है।

Q-33
eng/eng

Study the following information carefully and answer the questions given below:
निम्नलिखित जानकारी का ध्यानपूर्वक अध्ययन कर नीचे दिए गए प्रश्नों के उत्तर दीजिये।

Although no conclusive scientific evidence proves that angels exist, many highly intelligent and respectable people believe they exist and have even claimed to have spoken with angels. It is therefore reasonable to assume that angels do exist, but we just don't have the means to prove their existence.

यद्यपि कोई निर्णायक वैज्ञानिक स्वर्गदूतों के अस्तित्व को प्रमाणित नहीं करता है हालांकि, कई बेहद बुद्धिमान और सम्मानजनक लोग मानते हैं कि वे मौजूद हैं और यहां तक कि उन्होंने स्वर्गदूतों के साथ बात करने का दावा किया है। अतः यह मानना तर्कसंगत है कि स्वर्गदूतों का अस्तित्व है, लेकिन हमारे पास उनके अस्तित्व मात्र को प्रमाणित करने के लिए साधन नहीं है।

All of the following, if true, are valid objections to this argument EXCEPT
निम्न में से एक के अतिरिक्त सभी, सही होने पर, इस तर्क के लिये एक वैध आपत्ति होंगे-

01. even people who are usually honest lie on occasion.
यहां तक कि जो लोग आमतौर पर ईमानदार होते हैं, कभी-कभी झूठ बोलते हैं।
02. well-respected people often have deep religious beliefs, so they are likely to believe in angels, even if evidence suggests angels do not exist.
अच्छी तरह से सम्मानित लोगों में अक्सर गहरे धार्मिक विश्वास होते हैं, इसलिए वे स्वर्गदूतों पर विश्वास करने की संभावना रखते हैं, भले ही साक्ष्य यह बताते हैं कि स्वर्गदूत मौजूद नहीं हैं।
03. respectable people often want to be seen as highly moral people, and contact with angels would make them seem "chosen."
सम्मानजनक लोग अक्सर अत्यधिक नैतिक लोगों के रूप में पहचान चाहते हैं, और स्वर्गदूतों के साथ संपर्क से वे "चुना" हुआ प्रतीत होंगे।
04. many people believe that angels are messengers of God, and a belief in angels therefore provides evidence of their belief in God.
कई लोग विश्वास करते हैं कि, स्वर्गदूत भगवान के दूत हैं और स्वर्गदूतों में विश्वास इसलिए भगवान में उनके विश्वास का साक्ष्य उपलब्ध कराता है।
05. people who claim to see angels provide very similar descriptions of the angels.
जो लोग स्वर्गदूतों को देखने का दावा करते हैं वे स्वर्गदूतों के बारे में काफी हद तक समान विवरण प्रदान करते हैं।

Q-33
eng/hin

Study the following information carefully and answer the questions given below:
निम्नलिखित जानकारी का ध्यानपूर्वक अध्ययन कर नीचे दिए गए प्रश्नों के उत्तर दीजिये।

Although no conclusive scientific evidence proves that angels exist, many highly intelligent and respectable people believe they exist and have even claimed to have spoken with angels. It is therefore reasonable to assume that angels do exist, but we just don't have the means to prove their existence.

यद्यपि कोई निर्णायक वैज्ञानिक स्वर्गदूतों के अस्तित्व को प्रमाणित नहीं करता है हालांकि, कई बेहद बुद्धिमान और सम्मानजनक लोग मानते हैं कि वे मौजूद हैं

और यहां तक कि उन्होंने स्वर्गदूतों के साथ बात करने का दावा किया है। अतः यह मानना तर्कसंगत है कि स्वर्गदूतों का अस्तित्व है, लेकिन हमारे पास उनके अस्तित्व मात्र को प्रमाणित करने के लिए साधन नहीं है।

All of the following, if true, are valid objections to this argument EXCEPT
निम्न में से एक के अतिरिक्त सभी, सही होने पर, इस तर्क के लिये एक वैध आपत्ति होंगे-

- | | |
|--|---|
| <p>01. even people who are usually honest lie on occasion.
यहां तक कि जो लोग आमतौर पर ईमानदार होते हैं, कभी-कभी झूठ बोलते हैं।</p> <p>03. respectable people often want to be seen as highly moral people, and contact with angels would make them seem “chosen.”
सम्मानजनक लोग अक्सर अत्यधिक नैतिक लोगों के रूप में पहचान चाहते हैं, और स्वर्गदूतों के साथ संपर्क से वे “चुना” हुआ प्रतीत होंगे।</p> <p>05. people who claim to see angels provide very similar descriptions of the angels.
जो लोग स्वर्गदूतों को देखने का दावा करते हैं वे स्वर्गदूतों के बारे में काफी हद तक समान विवरण प्रदान करते हैं।</p> | <p>02. well-respected people often have deep religious beliefs, so they are likely to believe in angels, even if evidence suggests angels do not exist.
अच्छी तरह से सम्मानित लोगों में अक्सर गहरे धार्मिक विश्वास होते हैं, इसलिए वे स्वर्गदूतों पर विश्वास करने की संभावना रखते हैं, भले ही साक्ष्य यह बताते हैं कि स्वर्गदूत मौजूद नहीं हैं।</p> <p>04. many people believe that angels are messengers of God, and a belief in angels therefore provides evidence of their belief in God.
कई लोग विश्वास करते हैं कि, स्वर्गदूत भगवान के दूत हैं और स्वर्गदूतों में विश्वास इसलिए भगवान में उनके विश्वास का साक्ष्य उपलब्ध कराता है।</p> |
|--|---|

Solution for Question 33

Ans Key: 5

eng/eng This statement would actually support the argument that angels exist. All of the other choices, however, offer valid objections to the argument.
यह कथन वास्तव में इस तर्क का समर्थन करता है कि स्वर्गदूत मौजूद है। हालांकि, अन्य सभी विकल्प, इस तर्क के लिए वैध आपत्ति प्रदान करते हैं।

eng hin This statement would actually support the argument that angels exist. All of the other choices, however, offer valid objections to the argument.
यह कथन वास्तव में इस तर्क का समर्थन करता है कि स्वर्गदूत मौजूद है। हालांकि, अन्य सभी विकल्प, इस तर्क के लिए वैध आपत्ति प्रदान करते हैं।

Q-34 Study the following information carefully and answer the questions given below.

eng/eng निम्नलिखित जानकारी का ध्यानपूर्वक अध्ययन कीजिये और नीचे दिए गए प्रश्नों के उत्तर दीजिये।

The earth's resources are being depleted much too fast. To correct this, the United States must keep its resource consumption at present levels for many years to come.

पृथ्वी के संसाधन काफी तेजी से समाप्त हो रहे हैं। इसे सही करने के लिए, संयुक्त राज्य अमेरिका को आने वाले कई वर्षों के लिए अपने संसाधनों की खपत को वर्तमान स्तर पर बनाये रखना चाहिए।

The argument above depends on which of the following assumptions?

उपरोक्त तर्क निम्नलिखित में से किस पूर्वधारणा पर निर्भर करता है?

- | | |
|--|---|
| <p>01. Per capita resource consumption in the United States is at an all-time high.
उपरोक्त तर्क निम्नलिखित में से किस पूर्वधारणा पर निर्भर करता है?</p> <p>03. The United States uses more resources than any other country.
संयुक्त राज्य अमेरिका किसी भी अन्य देश की तुलना में अधिक संसाधनों की खपत करता है।</p> <p>05. Curbing U.S. resource consumption will significantly retard world resource depletion.
अमेरिका द्वारा संसाधनों की खपत में कमी विश्व में संसाधनों की गिरावट को पर्याप्त रूप से कम करेगा।</p> | <p>02. The United States wastes resources.
संयुक्त राज्य अमेरिका संसाधन बर्बाद करता है।</p> <p>04. The United States imports most of the resources it uses.
संयुक्त राज्य अमेरिका किसी भी अन्य देश की तुलना में अधिक संसाधनों की खपत करता है।</p> |
|--|---|

Q-34 Study the following information carefully and answer the questions given below.

eng hin निम्नलिखित जानकारी का ध्यानपूर्वक अध्ययन कीजिये और नीचे दिए गए प्रश्नों के उत्तर दीजिये।

The earth's resources are being depleted much too fast. To correct this, the United States must keep its resource consumption at present levels for many years to come.

पृथ्वी के संसाधन काफी तेजी से समाप्त हो रहे हैं। इसे सही करने के लिए, संयुक्त राज्य अमेरिका को आने वाले कई वर्षों के लिए अपने संसाधनों की खपत को वर्तमान स्तर पर बनाये रखना चाहिए।

The argument above depends on which of the following assumptions?

उपरोक्त तर्क निम्नलिखित में से किस पूर्वधारणा पर निर्भर करता है?

- | | |
|--|--|
| <p>01. Per capita resource consumption in the United States is at an all-time high.</p> | <p>02. The United States wastes resources.
संयुक्त राज्य अमेरिका संसाधन बर्बाद करता है।</p> |
|--|--|

उपरोक्त तर्क निम्नलिखित में से किस पूर्वधारणा पर निर्भर करता है?

03. The United States uses more resources than any other country.
संयुक्त राज्य अमेरिका किसी भी अन्य देश की तुलना में अधिक संसाधनों की खपत करता है।
04. The United States imports most of the resources it uses.
संयुक्त राज्य अमेरिका किसी भी अन्य देश की तुलना में अधिक संसाधनों की खपत करता है।
05. Curbing U.S. resource consumption will significantly retard world resource depletion.
अमेरिका द्वारा संसाधनों की खपत में कमी विश्व में संसाधनों की गिरावट को पर्याप्त रूप से कम करेगा।

Q-35 A statement is given followed by two courses of Action. A course of action is taken for improvement, follow up etc. Read the statement carefully and give the answer -
eng/eng एक कथन व दो कार्यवाहियाँ हैं। कोई भी कार्यवाही किसी सुधार या आगे की क्रिया आदि होती है। कथन का ध्यानपूर्वक अध्ययन कीजिये और उत्तर दीजिए-

Statement:

Very large numbers of people from the southern part of the city are suffering from infectious diseases.

कथन:

शहर के दक्षिणी भाग से एक बहुत बड़ी संख्या में लोग संक्रमण रोगों से पीड़ित हैं।

Courses of action:

I. The municipal authority should advise people living in the area not to use water supplied through the pipeline for drinking purpose.

II. The local hospitals should be put on high alert to tackle the emerging crisis situation.

कार्यवाही:

I. नगर-निगम के अधिकारियों को उस क्षेत्र में रहने वाले लोगों को पाइप लाइन के माध्यम से पीने के लिए आपूर्ति किये जाने वाले पानी का उपयोग न करने की सलाह देनी चाहिए।

II. उभरते संकट की स्थिति से निपटने के लिए स्थानीय अस्पतालों को हाई अलर्ट पर रखा जाना चाहिए।

01. If only course of action I follows.
यदि केवल कार्यवाही I अनुसरण करती है।
02. If only course of action II follows.
यदि केवल कार्यवाही II अनुसरण करती है।
03. If either course of action I or II follows.
यदि या तो कार्यवाही I या II अनुसरण करती है।
04. If neither course of action I nor II follows.
यदि न तो कार्यवाही I न ही II अनुसरण करती है।
05. If both courses of action I and II follow.
यदि दोनों कार्यवाहियाँ I व II अनुसरण करती है।

Q-35 A statement is given followed by two courses of Action. A course of action is taken for improvement, follow up etc. Read the statement carefully and give the answer -
eng hin एक कथन व दो कार्यवाहियाँ हैं। कोई भी कार्यवाही किसी सुधार या आगे की क्रिया आदि होती है। कथन का ध्यानपूर्वक अध्ययन कीजिये और उत्तर दीजिए-

Statement:

Very large numbers of people from the southern part of the city are suffering from infectious diseases.

कथन:

शहर के दक्षिणी भाग से एक बहुत बड़ी संख्या में लोग संक्रमण रोगों से पीड़ित हैं।

Courses of action:

I. The municipal authority should advise people living in the area not to use water supplied through the pipeline for drinking purpose.

II. The local hospitals should be put on high alert to tackle the emerging crisis situation.

कार्यवाही:

I. नगर-निगम के अधिकारियों को उस क्षेत्र में रहने वाले लोगों को पाइप लाइन के माध्यम से पीने के लिए आपूर्ति किये जाने वाले पानी का उपयोग न करने की सलाह देनी चाहिए।

II. उभरते संकट की स्थिति से निपटने के लिए स्थानीय अस्पतालों को हाई अलर्ट पर रखा जाना चाहिए।

01. If only course of action I follows.
यदि केवल कार्यवाही I अनुसरण करती है।
02. If only course of action II follows.
यदि केवल कार्यवाही II अनुसरण करती है।
03. If either course of action I or II follows.
यदि या तो कार्यवाही I या II अनुसरण करती है।
04. If neither course of action I nor II follows.
यदि न तो कार्यवाही I न ही II अनुसरण करती है।
05. If both courses of action I and II follow.
यदि दोनों कार्यवाहियाँ I व II अनुसरण करती है।

Q-36 The questions given below contain two statements giving certain data. You have to decide whether the data given in the statements are

sufficient for answering the question?

नीचे दिए गए प्रश्नों में दो कथनों के माध्यम से कुछ जानकारी दी गई है आपको यह निर्णय करना है कि क्या कथनों में दी गई जानकारी उत्तर देने के लिए पर्याप्त है।

H's rank is 14th to the left of T who is 12th in the row then how many persons are in the row?

H की रैंक T के बायें से 14वीं है जो पंक्ति में 12वाँ है तो पंक्ति में कितने व्यक्ति हैं?

I. T is second to the left of J who is 6th in the row.

II. R who is 5th from the right of the row and T is second to the left of R.

I. T, J के बायें दूसरा है जो पंक्ति में 6वाँ है।

II. R जो पंक्ति के दायें से 5वाँ है और T, R के बायें दूसरा है।

01. If statement I alone is sufficient but statement II alone is not sufficient.

यदि केवल कथन I ही पर्याप्त है लेकिन केवल कथन II पर्याप्त नहीं है

02. If statement II alone is sufficient but statement I alone is not sufficient.

यदि केवल कथन II ही पर्याप्त है लेकिन केवल कथन I पर्याप्त नहीं है

03. If each statement alone (either I or II) is sufficient.

यदि या केवल कथन I या केवल II पर्याप्त हैं

04. If statement I and II both are not sufficient.

यदि कथन I व II दोनों अपर्याप्त हैं

05. If both statements I and II together are sufficient, but neither statement alone is sufficient.

यदि दोनों कथन I व II एक साथ पर्याप्त हैं लेकिन अलग-अलग पर्याप्त नहीं हैं

Q-36
eng hin

The questions given below contain two statements giving certain data. You have to decide whether the data given in the statements are sufficient for answering the question?

नीचे दिए गए प्रश्नों में दो कथनों के माध्यम से कुछ जानकारी दी गई है आपको यह निर्णय करना है कि क्या कथनों में दी गई जानकारी उत्तर देने के लिए पर्याप्त है।

H's rank is 14th to the left of T who is 12th in the row then how many persons are in the row?

H की रैंक T के बायें से 14वीं है जो पंक्ति में 12वाँ है तो पंक्ति में कितने व्यक्ति हैं?

I. T is second to the left of J who is 6th in the row.

II. R who is 5th from the right of the row and T is second to the left of R.

I. T, J के बायें दूसरा है जो पंक्ति में 6वाँ है।

II. R जो पंक्ति के दायें से 5वाँ है और T, R के बायें दूसरा है।

01. If statement I alone is sufficient but statement II alone is not sufficient.

यदि केवल कथन I ही पर्याप्त है लेकिन केवल कथन II पर्याप्त नहीं है

02. If statement II alone is sufficient but statement I alone is not sufficient.

यदि केवल कथन II ही पर्याप्त है लेकिन केवल कथन I पर्याप्त नहीं है

03. If each statement alone (either I or II) is sufficient.

यदि या केवल कथन I या केवल II पर्याप्त हैं

04. If statement I and II both are not sufficient.

यदि कथन I व II दोनों अपर्याप्त हैं

05. If both statements I and II together are sufficient, but neither statement alone is sufficient.

यदि दोनों कथन I व II एक साथ पर्याप्त हैं लेकिन अलग-अलग पर्याप्त नहीं हैं

Q-37
eng/eng

The questions given below contain two statements giving certain data. You have to decide whether the data given in the statements are sufficient for answering the question?

नीचे दिए गए प्रश्नों में दो कथनों के माध्यम से कुछ जानकारी दी गई है आपको यह निर्णय करना है कि क्या कथनों में दी गई जानकारी उत्तर देने के लिए पर्याप्त है।

Is Furkan is the grandfather of Misba?

क्या फुरकान, मिसबा का दादा/नाना है?

I. Misba is the daughter of Moni. Moni is the sister of Tujuf. Tujuf is the daughter of Roma .

II. Hina is the niece of Roma who is wife of Furkan.

I. मिसबा, मोनी की पुत्री है। मोनी, तुजुफ की बहन है। तुजुफ, रोमा की पुत्री है।

II. हिना, रोमा की नीस है जो फुरकान की पत्नी है।

01. If statement I alone is sufficient but statement II alone is not sufficient.

यदि केवल कथन I ही पर्याप्त है लेकिन केवल कथन II पर्याप्त नहीं है

02. If statement II alone is sufficient but statement I alone is not sufficient.

यदि केवल कथन II ही पर्याप्त है लेकिन केवल कथन I पर्याप्त नहीं है

03. If each statement alone (either I or II) is sufficient.
यदि या केवल कथन I या केवल II पर्याप्त है
04. If statement I and II both are not sufficient.
यदि कथन I व II दोनों अपर्याप्त हैं

05. If both statements I and II together are sufficient, but neither statement alone is sufficient.
यदि दोनों कथन I व II एक साथ पर्याप्त हैं
लेकिन अलग-अलग पर्याप्त नहीं हैं

Q-37
eng hin

The questions given below contain two statements giving certain data. You have to decide whether the data given in the statements are sufficient for answering the question?

नीचे दिए गए प्रश्नों में दो कथनों के माध्यम से कुछ जानकारियां दी गई हैं आपको यह निर्णय करना है कि क्या कथनों में दी गई जानकारी उत्तर देने के लिए पर्याप्त है।

Is Furkan is the grandfather of Misba?
क्या फुरकान, मिसबा का दादा/नाना है?

I. Misba is the daughter of Moni. Moni is the sister of Tujuf. Tujuf is the daughter of Roma .

II. Hina is the niece of Roma who is wife of Furkan.

I. मिसबा, मोनी की पुत्री है। मोनी, तुजुफ की बहन है। तुजुफ, रोमा की पुत्री है।

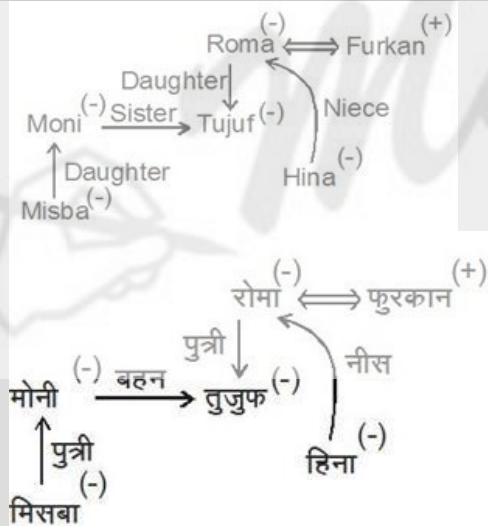
II. हिना, रोमा की नीस है जो फुरकान की पत्नी है।

01. If statement I alone is sufficient but statement II alone is not sufficient.
यदि केवल कथन I ही पर्याप्त है लेकिन केवल कथन II पर्याप्त नहीं है
02. If statement II alone is sufficient but statement I alone is not sufficient.
यदि केवल कथन II ही पर्याप्त है लेकिन केवल कथन I पर्याप्त नहीं है
03. If each statement alone (either I or II) is sufficient.
यदि या केवल कथन I या केवल II पर्याप्त है
04. If statement I and II both are not sufficient.
यदि कथन I व II दोनों अपर्याप्त हैं
05. If both statements I and II together are sufficient, but neither statement alone is sufficient.
यदि दोनों कथन I व II एक साथ पर्याप्त हैं
लेकिन अलग-अलग पर्याप्त नहीं हैं

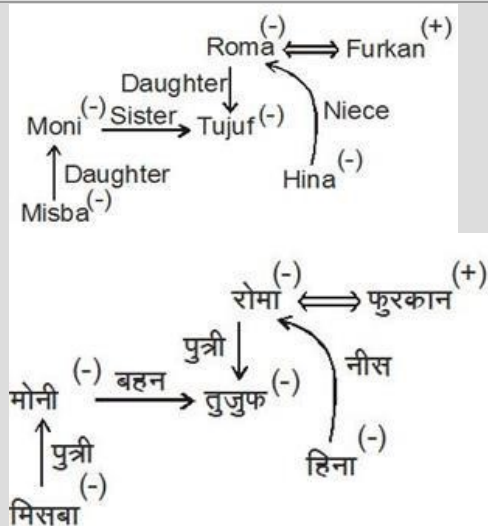
Solution for Question 37

Ans Key: 5

eng/eng



eng hin



Q-38 The questions given below contain two statements giving certain data. You have to decide whether the data given in the statements are sufficient for answering the question?
eng/eng नीचे दिए गए प्रश्नों में दो कथनों के माध्यम से कुछ जानकारी दी गई है आपको यह निर्णय करना है कि क्या कथनों में दी गई जानकारी उत्तर देने के लिए पर्याप्त है।

Which purse amongst 16, 17, 18, 19 and 20 is the heaviest?
पर्स 16, 17, 18, 19 और 20 में से कौन-सा भारी है?

- I. Purse 17 is heavier than 18 and 19. Purse 20 is heavier only than purse 16.
II. Only three purses are lighter than 18. The weight of purse 17 is 40 kg which is 5 kg more than purse 18.
I. पर्स 17, 18 और 19 से अधिक भारी है। पर्स 20 केवल पर्स 16 से भारी है।
II. 18 से केवल तीन पर्स हल्के हैं। पर्स 17 का वजन 40 किलो है जो पर्स 18 से 5 किलो अधिक है।

01. If statement I alone is sufficient but statement II alone is not sufficient.
यदि केवल कथन I ही पर्याप्त है लेकिन केवल कथन II पर्याप्त नहीं है
02. If statement II alone is sufficient but statement I alone is not sufficient.
यदि केवल कथन II ही पर्याप्त है लेकिन केवल कथन I पर्याप्त नहीं है
03. If each statement alone (either I or II) is sufficient.
यदि या केवल कथन I या केवल II पर्याप्त हैं
04. If statement I and II both are not sufficient.
यदि कथन I व II दोनों अपर्याप्त हैं
05. If both statements I and II together are sufficient, but neither statement alone is sufficient.
यदि दोनों कथन I व II एक साथ पर्याप्त हैं लेकिन अलग-अलग पर्याप्त नहीं हैं

Q-38 The questions given below contain two statements giving certain data. You have to decide whether the data given in the statements are sufficient for answering the question?
eng hin नीचे दिए गए प्रश्नों में दो कथनों के माध्यम से कुछ जानकारी दी गई है आपको यह निर्णय करना है कि क्या कथनों में दी गई जानकारी उत्तर देने के लिए पर्याप्त है।

Which purse amongst 16, 17, 18, 19 and 20 is the heaviest?
पर्स 16, 17, 18, 19 और 20 में से कौन-सा भारी है?

- I. Purse 17 is heavier than 18 and 19. Purse 20 is heavier only than purse 16.
II. Only three purses are lighter than 18. The weight of purse 17 is 40 kg which is 5 kg more than purse 18.
I. पर्स 17, 18 और 19 से अधिक भारी है। पर्स 20 केवल पर्स 16 से भारी है।
II. 18 से केवल तीन पर्स हल्के हैं। पर्स 17 का वजन 40 किलो है जो पर्स 18 से 5 किलो अधिक है।

01. If statement I alone is sufficient but statement II alone is not sufficient.
यदि केवल कथन I ही पर्याप्त है लेकिन केवल कथन II पर्याप्त नहीं है
02. If statement II alone is sufficient but statement I alone is not sufficient.
यदि केवल कथन II ही पर्याप्त है लेकिन केवल कथन I पर्याप्त नहीं है
03. If each statement alone (either I or II) is sufficient.
यदि या केवल कथन I या केवल II पर्याप्त हैं
04. If statement I and II both are not sufficient.
यदि कथन I व II दोनों अपर्याप्त हैं
05. If both statements I and II together are sufficient, but neither statement alone is sufficient.
यदि दोनों कथन I व II एक साथ पर्याप्त हैं लेकिन अलग-अलग पर्याप्त नहीं हैं

Solution for Question 38		Ans Key: 3
eng/eng	I. $17 > 19/18 > 20 > 16$ II. $17 > 18 > 19/20/16$	
eng hin	I. $17 > 19/18 > 20 > 16$ II. $17 > 18 > 19/20/16$	

Q-39 The questions given below contain two statements giving certain data. You have to decide whether the data given in the statements are sufficient for answering the question?
eng/eng नीचे दिए गए प्रश्नों में दो कथनों के माध्यम से कुछ जानकारी दी गई है आपको यह निर्णय करना है कि क्या कथनों में दी गई जानकारी उत्तर देने के लिए पर्याप्त है।

Are all the five girls viz. Aliya, Bebo, Charu, Diya and Ezi who are seated around a circular table facing the centre?
क्या सभी पांच लड़कियाँ आलिया, बेबो, चारू, दीया और इजी जो गोलाकार मेज के चारों ओर बैठी हैं केंद्र की ओर देख रही हैं?

- I. Aliya sits third to the left of Bebo. Bebo faces outside from the centre. Diya and Ezi are immediate neighbours of each other. Charu sits third to right of Ezi.

II. Diya sits second to right of Charu. Charu faces outside from the centre. Both Ezi and Aliya are immediate neighbours of Diya. Bebo sits second to right of Aliya.

I. आलिया, बेबो के बायें तीसरी बैठी है। बेबो केन्द्र से बाहर देखती है। दीया और इजी एक दूसरे के निकटतम् पड़ोसी हैं। चारू, इजी के दायें तीसरी बैठी है।
II. दीया, चारू के दायें दूसरी बैठी है। चारू, केन्द्र से बाहर देखती है। इजी और आलिया दोनों दीया के निकटतम् पड़ोसी हैं। बेबो, आलिया के दायें दूसरी बैठी है।

- | | |
|---|--|
| <p>01. If statement I alone is sufficient but statement II alone is not sufficient.
यदि केवल कथन I ही पर्याप्त है लेकिन केवल कथन II पर्याप्त नहीं है</p> | <p>02. If statement II alone is sufficient but statement I alone is not sufficient.
यदि केवल कथन II ही पर्याप्त है लेकिन केवल कथन I पर्याप्त नहीं है</p> |
| <p>03. If each statement alone (either I or II) is sufficient.
यदि या केवल कथन I या केवल II पर्याप्त हैं</p> | <p>04. If statement I and II both are not sufficient.
यदि कथन I व II दोनों अपर्याप्त हैं</p> |
| <p>05. If both statements I and II together are sufficient, but neither statement alone is sufficient.
यदि दोनों कथन I व II एक साथ पर्याप्त हैं लेकिन अलग-अलग पर्याप्त नहीं हैं</p> | |

Q-39
eng hin

The questions given below contain two statements giving certain data. You have to decide whether the data given in the statements are sufficient for answering the question?

नीचे दिए गए प्रश्नों में दो कथनों के माध्यम से कुछ जानकारियां दी गई हैं आपको यह निर्णय करना है कि क्या कथनों में दी गई जानकारी उत्तर देने के लिए पर्याप्त है।

Are all the five girls viz. Aliya, Bebo, Charu, Diya and Ezi who are seated around a circular table facing the centre?
क्या सभी पांच लड़कियाँ आलिया, बेबो, चारू, दीया और इजी जो गोलाकार मेज के चारों ओर बैठी हैं केंद्र की ओर देख रही हैं?

I. Aliya sits third to the left of Bebo. Bebo faces outside from the centre. Diya and Ezi are immediate neighbours of each other. Charu sits third to right of Ezi.
II. Diya sits second to right of Charu. Charu faces outside from the centre. Both Ezi and Aliya are immediate neighbours of Diya. Bebo sits second to right of Aliya.

I. आलिया, बेबो के बायें तीसरी बैठी है। बेबो केन्द्र से बाहर देखती है। दीया और इजी एक दूसरे के निकटतम् पड़ोसी हैं। चारू, इजी के दायें तीसरी बैठी है।
II. दीया, चारू के दायें दूसरी बैठी है। चारू, केन्द्र से बाहर देखती है। इजी और आलिया दोनों दीया के निकटतम् पड़ोसी हैं। बेबो, आलिया के दायें दूसरी बैठी है।

- | | |
|---|--|
| <p>01. If statement I alone is sufficient but statement II alone is not sufficient.
यदि केवल कथन I ही पर्याप्त है लेकिन केवल कथन II पर्याप्त नहीं है</p> | <p>02. If statement II alone is sufficient but statement I alone is not sufficient.
यदि केवल कथन II ही पर्याप्त है लेकिन केवल कथन I पर्याप्त नहीं है</p> |
| <p>03. If each statement alone (either I or II) is sufficient.
यदि या केवल कथन I या केवल II पर्याप्त हैं</p> | <p>04. If statement I and II both are not sufficient.
यदि कथन I व II दोनों अपर्याप्त हैं</p> |
| <p>05. If both statements I and II together are sufficient, but neither statement alone is sufficient.
यदि दोनों कथन I व II एक साथ पर्याप्त हैं लेकिन अलग-अलग पर्याप्त नहीं हैं</p> | |

Q-40
eng/eng

The questions given below contain two statements giving certain data. You have to decide whether the data given in the statements are sufficient for answering the question?

नीचे दिए गए प्रश्नों में दो कथनों के माध्यम से कुछ जानकारियां दी गई हैं आपको यह निर्णय करना है कि क्या कथनों में दी गई जानकारी उत्तर देने के लिए पर्याप्त है।

How many daughters does William have?
विलियम की कितनी बेटियाँ हैं?

I. Mikki's father Tilak is the husband of William.
II. Boni and Dear are sisters of Mikki.
I. मिक्की के पिता तिलक, विलियम का पति है।
II. बोनी और डियर, मिक्की की बहनें हैं।

- | | |
|--|--|
| <p>01. If statement I alone is sufficient but statement II alone is not sufficient.
यदि केवल कथन I ही पर्याप्त है लेकिन केवल कथन II पर्याप्त नहीं है</p> | <p>02. If statement II alone is sufficient but statement I alone is not sufficient.
यदि केवल कथन II ही पर्याप्त है लेकिन केवल कथन I पर्याप्त नहीं है</p> |
| <p>03. If statement II alone is sufficient but statement I alone is not sufficient.
यदि या केवल कथन I या केवल II पर्याप्त हैं</p> | <p>04. If statement I and II both are not sufficient.
यदि कथन I व II दोनों अपर्याप्त हैं</p> |

05. If both statements I and II together are sufficient, but neither statement alone is sufficient.
यदि दोनों कथन I व II एक साथ पर्याप्त हैं लेकिन अलग-अलग पर्याप्त नहीं हैं

Q-40
eng hin

The questions given below contain two statements giving certain data. You have to decide whether the data given in the statements are sufficient for answering the question?

नीचे दिए गए प्रश्नों में दो कथनों के माध्यम से कुछ जानकारियां दी गई हैं आपको यह निर्णय करना है कि क्या कथनों में दी गई जानकारी उत्तर देने के लिए पर्याप्त है।

How many daughters does William have?
विलियम की कितनी बेटियाँ है?


- I. Mikki's father Tilak is the husband of William.
II. Boni and Dear are sisters of Mikki.
I. मिक्की के पिता तिलक, विलियम का पति है।
II. बोनी और डियर, मिक्की की बहनें हैं।

01. If statement I alone is sufficient but statement II alone is not sufficient.
यदि केवल कथन I ही पर्याप्त है लेकिन केवल कथन II पर्याप्त नहीं है
02. If statement II alone is sufficient but statement I alone is not sufficient.
यदि केवल कथन II ही पर्याप्त है लेकिन केवल कथन I पर्याप्त नहीं है
03. If statement II alone is sufficient but statement I alone is not sufficient.
यदि या केवल कथन I या केवल II पर्याप्त हैं
04. If statement I and II both are not sufficient.
यदि कथन I व II दोनों अपर्याप्त हैं
05. If both statements I and II together are sufficient, but neither statement alone is sufficient.
यदि दोनों कथन I व II एक साथ पर्याप्त हैं लेकिन अलग-अलग पर्याप्त नहीं हैं

Solution for Question 40

Ans Key: 4

eng/eng



eng hin



Passage for Question 41, 42, 43, 44 (RRBPOMAINSDemo(1-5M)2020)

eng/eng Passage

Study the following table and bar graph carefully to answer the following questions.

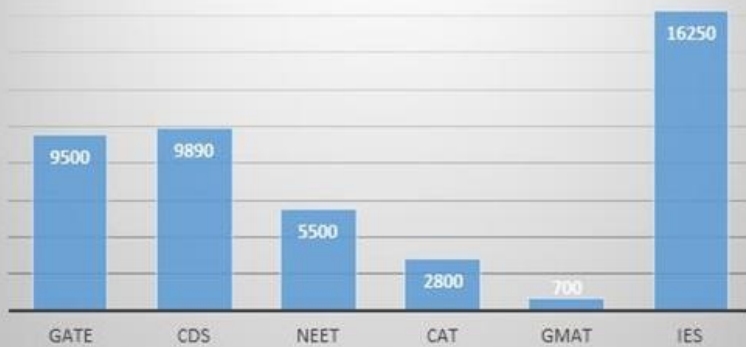
निम्नलिखित प्रश्नों का उत्तर देने के लिए निम्नलिखित लाइन ग्राफ और बार ग्राफ का ध्यानपूर्वक अध्ययन करें।

The table shows the percentage distribution of entrants who have applied for various exams. The bar graph shows the vacancy in these exams.

Total number of entrants = 93 lakhs	
Exams	Percentage distribution of entrants
GATE	28%

CDS	24%
NEET	14%
CAT	10%
GMAT	6%
IES	18%

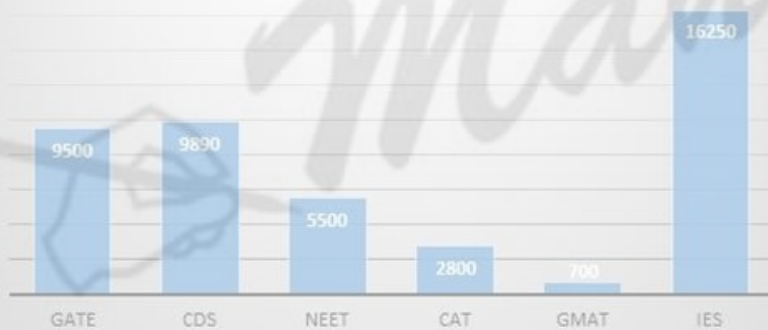
Number of vacancies



लाइन ग्राफ में विभिन्न परीक्षाओं के लिए आवेदन करने वाले अभ्यर्थी के प्रतिशत वितरण को दर्शाता है, और बार ग्राफ इन परीक्षाओं की रिक्तियां को दिखाता है।

कुल अभ्यर्थियों की संख्या = 93 लाख	
परीक्षा	अभ्यर्थी के प्रतिशत वितरण
GATE	28%
CDS	24%
NEET	14%
CAT	10%
GMAT	6%
IES	18%

रिक्तियों की संख्या



eng hin Passage

Study the following table and bar graph carefully to answer the following questions.

निम्नलिखित प्रश्नों का उत्तर देने के लिए निम्नलिखित लाइन ग्राफ और बार ग्राफ का ध्यानपूर्वक अध्ययन करें।

The table shows the percentage distribution of entrants who have applied for various exams. The bar graph shows the vacancy in these exams.

Total number of entrants = 93 lakhs	
Exams	Percentage distribution of entrants
GATE	28%
CDS	24%
NEET	14%
CAT	10%
GMAT	6%
IES	18%

Number of vacancies

दिए गए कथन के अनुसार, स्पष्ट रूप से एक पद के लिए, 4 लोगों का चयन साक्षात्कार के लिए किया जाएगा
अब GATE में कुल रिक्तियों की संख्या = 9500 + 950 = 10450
 \therefore GATE साक्षात्कार के लिए योग्य अभ्यर्थी की संख्या = $10450 \times 4 = 41800$
CAT और GMAT में साक्षात्कार के लिए योग्य अभ्यर्थी की संख्या = $(2800 + 700) \times 4 = 14000$
अभीष्ट मान = $\frac{41800}{14000} \approx 3$ गुना

eng hin

As per given statement, clearly for one post, 4 will selected for Interviews
Number of vacancies in GATE now = 9500 + 950 = 10450
 \therefore Number of entrant qualifies for GATE interview = $10450 \times 4 = 41800$
Number of entrants qualifies for CAT and GMAT interviews = $(2800 + 700) \times 4 = 14000$
Desired value = $\frac{41800}{14000} \approx 3$ times दिए गए कथन के अनुसार, स्पष्ट रूप से एक पद के लिए, 4 लोगों का चयन साक्षात्कार के लिए किया जाएगा
अब GATE में कुल रिक्तियों की संख्या = 9500 + 950 = 10450
 \therefore GATE साक्षात्कार के लिए योग्य अभ्यर्थी की संख्या = $10450 \times 4 = 41800$
CAT और GMAT में साक्षात्कार के लिए योग्य अभ्यर्थी की संख्या = $(2800 + 700) \times 4 = 14000$
अभीष्ट मान = $\frac{41800}{14000} \approx 3$ गुना

Q-42

eng/eng

Out of all vacancies allocated, 15% of the selected entrants didn't join. Hence 8% of the GATE and 10% of IES vacancies remain unfilled. What will be the approximate value of ratio between total vacancies remain unfilled for GATE and IES together to Rest of the organizations vacancy which remain unfilled?

आवर्तित सभी रिक्तियों में से, 15% अभ्यर्थी नहीं शामिल हुए। तथा GATE का 8% और IES का 10% पद रिक्त हैं। तो GATE और IES की खाली रिक्तियों की संख्या और शेष संगठन की खाली रिक्तियों की संख्या के बीच का अनुमानित अनुपात क्या होगा?

01. 5: 9

02. 5: 7

03. 4: 5

04. 9: 11

05. 11: 13

Q-42

eng/eng

Out of all vacancies allocated, 15% of the selected entrants didn't join. Hence 8% of the GATE and 10% of IES vacancies remain unfilled. What will be the approximate value of ratio between total vacancies remain unfilled for GATE and IES together to Rest of the organizations vacancy which remain unfilled?

आवर्तित सभी रिक्तियों में से, 15% अभ्यर्थी नहीं शामिल हुए। तथा GATE का 8% और IES का 10% पद रिक्त हैं। तो GATE और IES की खाली रिक्तियों की संख्या और शेष संगठन की खाली रिक्तियों की संख्या के बीच का अनुमानित अनुपात क्या होगा?

01. 5: 9

02. 5: 7

03. 4: 5

04. 9: 11

05. 11: 13

Solution for Question 42

Ans Key: 1

eng/eng

Total entrants who did not join = $44640 \times \frac{15}{100} = 6696$

Vacancies remained unfilled for GATE and IES

= $9500 \times \frac{8}{100} + 16250 \times \frac{10}{100} = 760 + 1625 = 2385$

Required ratio = 2385: (6696-2385)

Required ratio = 2385: 4311 \approx 5: 9

कुल अभ्यर्थी जो शामिल नहीं हुए = $44640 \times \frac{15}{100} = 6696$

GATE और IES की शेष खाली रिक्तिया

= $9500 \times \frac{8}{100} + 16250 \times \frac{10}{100} = 760 + 1625 = 2385$

अभीष्ट अनुपात = 2385: (6696-2385)

अभीष्ट अनुपात = 2385: 4311 5: 9

eng hin

Total entrants who did not join = $44640 \times \frac{15}{100} = 6696$

Vacancies remained unfilled for GATE and IES

= $9500 \times \frac{8}{100} + 16250 \times \frac{10}{100} = 760 + 1625 = 2385$

Required ratio = 2385: (6696-2385)

Required ratio = 2385: 4311 \approx 5: 9

कुल अभ्यर्थी जो शामिल नहीं हुए = $44640 \times \frac{15}{100} = 6696$

GATE और IES की शेष खाली रिक्तिया

= $9500 \times \frac{8}{100} + 16250 \times \frac{10}{100} = 760 + 1625 = 2385$

अभीष्ट अनुपात = 2385: (6696-2385)

अभीष्ट अनुपात = 2385: 4311 5: 9

Q-43 If IES reduces two-fifth of its vacancies, then total vacancies will be reduced by how much percent?
eng/eng यदि IES अपनी रिक्तियों के दो-पाँचवें हिस्से को कम करता है, तो कुल रिक्तियों कितने प्रतिशत कम होगी?

- | | |
|-------------------|-------------------|
| 01. 13.65% | 02. 12.56% |
| 03. 17% | 04. 18.2% |
| 05. 14.56% | |

Q-43 If IES reduces two-fifth of its vacancies, then total vacancies will be reduced by how much percent?
eng hin यदि IES अपनी रिक्तियों के दो-पाँचवें हिस्से को कम करता है, तो कुल रिक्तियों कितने प्रतिशत कम होंगी?

- | | | | |
|------------|--------|------------|--------|
| 01. | 13.65% | 02. | 12.56% |
| 03. | 17% | 04. | 18.2% |
| 05. | 14.56% | | |

Solution for Question 43

Ans Key: 5

eng/eng

Number of vacancies reduced by IES = $\frac{2}{5} \times 16250 = 6500$

Required percentage = $\frac{6500}{44640} \times 100 = 14.56\%$

IES द्वारा कम की गयी रिक्तियां = $\frac{2}{5} \times 16250 = 6500$

अभीष्ट प्रतिशत = $\frac{6500}{44640} \times 100 = 14.56\%$

eng hin

Number of vacancies reduced by IES = $\frac{2}{5} \times 16250 = 6500$

Required percentage = $\frac{6500}{44640} \times 100 = 14.56\%$

IES द्वारा कम की गयी रिक्तियां = $\frac{2}{5} \times 16250 = 6500$

अभीष्ट प्रतिशत = $\frac{6500}{44640} \times 100 = 14.56\%$

Q-44 Average of all entrants who have applied for various given exam is approximately how many times the total number of vacancies?
eng/eng कुल औसत रिक्तियों की संख्या का विभिन्न प्रवेश परीक्षाओं में आवेदन करने वाले सभी अभ्यर्थीओं की औसत संख्या लगभग कितना गुना है?

- | | |
|--------|--------|
| 01. 38 | 02. 39 |
| 03. 32 | 04. 35 |

Q-44 Average of all entrants who have applied for various given exam is approximately how many times the total number of vacancies?
eng hin कुल औसत रिक्तियों की संख्या का विभिन्न प्रवेश परीक्षाओं में आवेदन करने वाले सभी अभ्यर्थीओं की औसत संख्या लगभग कितना गुना है?

- | | |
|--------|--------|
| 01. 38 | 02. 39 |
| 03. 32 | 04. 35 |

Solution for Question 44

Ans Key: 4

eng/eng

Average of all entrants = $\frac{93\text{ lakhs}}{6} = 1550000$

Total number of vacancies = 44640

Desired value = $\frac{1550000}{44640} \approx 35$ times

सभी अभ्यर्थियों का औसत = $\frac{93\text{ lakhs}}{6} = 1550000$

कुल रिक्तियों की संख्या = 44640

अभीष्ट मान = $\frac{1550000}{44640} \approx 35$ गुना

eng hin

Average of all entrants = $\frac{93 \text{ lakhs}}{6} = 1550000$

Total number of vacancies = 44640

Desired value = $\frac{1550000}{44640} \approx 35$ times

सभी अभ्यर्थियों का औसत = $\frac{93 \text{ lakhs}}{6} = 1550000$

कुल रिक्तियों की संख्या = 44640

अभीष्ट मान = $\frac{1550000}{44640} \approx 35$ गुना

Read the following informations carefully and answer the questions given below-
निम्नलिखित जानकारी का ध्यानपूर्वक अध्ययन कर नीचे पूछे गये प्रश्नों के उत्तर दीजिये-

There are 1800 students in a management institute. They are doing MBA in HR, Marketing, Finance, Operation and IT discipline. Out of these the ratio between the number of boys and girls is 7 : 5. 20% of total number of girls are doing MBA in HR and 26% of total number of girls are doing MBA in IT. The total number of students doing MBA in Marketing is 280. Total 160 students are doing MBA in Finance discipline. The ratio between the number of girls and boys doing MBA in IT discipline is 3 : 2. 20% of total boys are doing MBA in Marketing. The ratio between the number of boys and girls doing MBA in Finance is 2 : 3. The number of boys-girls doing MBA in Operation discipline is equal. 557 students are doing MBA in HR discipline.

एक प्रबंधन संस्थान में 1800 विद्यार्थी हैं। ये एचआर, विपणन, वित्त, ऑपरेशन और आईटी संकाय में एमबीए कर रहे हैं। इनमें लड़के और लड़कियों की संख्या के बीच अनुपात क्रमशः 7 : 5 है। कुल लड़कियों की संख्या का 20% एचआर और कुल लड़कियों की संख्या का 26% आईटी में एमबीए कर रही है। विपणन संकाय में एमबीए करने वाले विद्यार्थियों की कुल संख्या 280 है। वित्त संकाय में कुल 160 विद्यार्थी एमबीए कर रहे हैं। आईटी संकाय में एमबीए करने वाले लड़कियों और लड़कों की संख्या के बीच अनुपात क्रमशः 3 : 2 है, कुल लड़कों की संख्या का 20% विपणन में एमबीए कर रहे हैं। वित्त में एमबीए करने वाले लड़कों और लड़कियों की संख्या के बीच अनुपात 2 : 3 है। ऑपरेशन संकाय में एमबीए करने वाले लड़के - लड़कियों की संख्या समान है। 557 विद्यार्थी एचआर संकाय में एमबीए कर रहे हैं।

eng hin Passage

Read the following informations carefully and answer the questions given below-
निम्नलिखित जानकारी का ध्यानपूर्वक अध्ययन कर नीचे पूछे गये प्रश्नों के उत्तर दीजिये-

There are 1800 students in a management institute. They are doing MBA in HR, Marketing, Finance, Operation and IT discipline. Out of these the ratio between the number of boys and girls is 7 : 5. 20% of total number of girls are doing MBA in HR and 26% of total number of girls are doing MBA in IT. The total number of students doing MBA in Marketing is 280. Total 160 students are doing MBA in Finance discipline. The ratio between the number of girls and boys doing MBA in IT discipline is 3 : 2. 20% of total boys are doing MBA in Marketing. The ratio between the number of boys and girls doing MBA in Finance is 2 : 3. The number of boys-girls doing MBA in Operation discipline is equal. 557 students are doing MBA in HR discipline.

एक प्रबंधन संस्थान में 1800 विद्यार्थी हैं। ये एचआर, विपणन, वित्त, ऑपरेशन और आईटी संकाय में एमबीए कर रहे हैं। इनमें लड़के और लड़कियों की संख्या के बीच अनुपात क्रमशः 7 : 5 है। कुल लड़कियों की संख्या का 20% एचआर और कुल लड़कियों की संख्या का 26% आईटी में एमबीए कर रही है। विपणन संकाय में एमबीए करने वाले विद्यार्थियों की कुल संख्या 280 है। वित्त संकाय में कुल 160 विद्यार्थी एमबीए कर रहे हैं। आईटी संकाय में एमबीए करने वाले लड़कियों और लड़कों की संख्या के बीच अनुपात क्रमशः 3 : 2 है, कुल लड़कों की संख्या का 20% विपणन में एमबीए कर रहे हैं। वित्त में एमबीए करने वाले लड़कों और लड़कियों की संख्या के बीच अनुपात 2 : 3 है। ऑपरेशन संकाय में एमबीए करने वाले लड़के - लड़कियों की संख्या समान है। 557 विद्यार्थी एचआर संकाय में एमबीए कर रहे हैं।

Q-45 In which MBA discipline the number of girls is maximum and number of boys is minimum?
eng/eng किस एमबीए संकाय में लड़कियों की संख्या अधिकतम और किस संकाय में लड़कों की संख्या न्यूनतम है?

- | | |
|---|--|
| 01. Marketing and Finance
विपणन और वित्त | 02. Operation and Finance
ऑपरेशन और वित्त |
| 03. IT and operation
आईटी और ऑपरेशन | 04. Finance and HR
वित्त और एचआर |
| 05. None of these
इनमें से कोई नहीं | |

Q-45 In which MBA discipline the number of girls is maximum and number of boys is minimum?
eng hin किस एमबीए संकाय में लड़कियों की संख्या अधिकतम और किस संकाय में लड़कों की संख्या न्यूनतम है?

- | | |
|---|--|
| 01. Marketing and Finance
विपणन और वित्त | 02. Operation and Finance
ऑपरेशन और वित्त |
| 03. IT and operation
आईटी और ऑपरेशन | 04. Finance and HR
वित्त और एचआर |
| 05. None of these
इनमें से कोई नहीं | |

Solution for Question 45

Ans Key: 2

eng/eng	Total	Boys	Girls	कुल	लड़के	लड़कियां
		1050	750		1050	750
HR		407	150	एचआर	407	150
Marketing	210	70		विपणन	210	70
Finance	64	96		वित्त	64	96
Operation	239	239		ऑपरेशन	239	239
IT	130	195		आईटी	130	195

eng hin	Total	Boys	Girls	कुल	लड़के	लड़कियां
		1050	750		1050	750
HR		407	150	एचआर	407	150
Marketing	210	70		विपणन	210	70

Finance	64	96	वित्त	64	96
Operation	239	239	ऑपरेशन	239	239
IT	130	195	आईटी	130	195

Q-46 The number of girls doing MBA in Finance is approximately what percent of the number of boys doing MBA in IT?
eng/eng वित्त में एमबीए करने वाली लड़कियों की संख्या आईटी में में एमबीए करने वाले लड़कों की संख्या का लगभग कितने प्रतिशत है?

01. 71
02. 79
03. 65
04. 62
05. 74

Q-46 The number of girls doing MBA in Finance is approximately what percent of the number of boys doing MBA in IT?
eng hin वित्त में एमबीए करने वाली लड़कियों की संख्या आईटी में में एमबीए करने वाले लड़कों की संख्या का लगभग कितने प्रतिशत है?

01. 71
02. 79
03. 65
04. 62
05. 74

Solution for Question 46

Ans Key: 5

eng/eng	Total	Boys	Girls	कुल	लड़के	लड़कियां
		1050	750		1050	750
HR	407	150		एचआर	407	150
Marketing	210	70		विपणन	210	70
Finance	64	96		वित्त	64	96
Operation	239	239		ऑपरेशन	239	239
IT	130	195		आईटी	130	195

$$\text{Req. percentage} = \frac{96}{130} \times 100 = 74 \text{ (Approx)}$$

$$\text{अभीष्ट प्रतिशत} = \frac{96}{130} \times 100 = 74 \text{ (लगभग)}$$

eng hin	Total	Boys	Girls	कुल	लड़के	लड़कियां
		1050	750		1050	750
HR	407	150		एचआर	407	150
Marketing	210	70		विपणन	210	70
Finance	64	96		वित्त	64	96
Operation	239	239		ऑपरेशन	239	239
IT	130	195		आईटी	130	195

$$\text{Req. percentage} = \frac{96}{130} \times 100 = 74 \text{ (Approx)}$$

$$\text{अभीष्ट प्रतिशत} = \frac{96}{130} \times 100 = 74 \text{ (लगभग)}$$

Q-47 What is the total number of students doing MBA in HR and Operation?
eng/eng एचआर और ऑपरेशन में एमबीए करने वाले विद्यार्थियों की कुल संख्या कितनी है?

01. 1035
02. 1020
03. 1015
04. 1030
05. None of these
इनमें से कोई नहीं

Q-47 What is the total number of students doing MBA in HR and Operation?
eng hin एचआर और ऑपरेशन में एमबीए करने वाले विद्यार्थियों की कुल संख्या कितनी है?

01. 1035
02. 1020
03. 1015
04. 1030
05. None of these
इनमें से कोई नहीं

Solution for Question 47

Ans Key: 1

eng/eng	Total	Boys	Girls	कुल	लड़के	लड़कियां
		1050	750		1050	750

HR	407	150	एचआर	407	150
Marketing	210	70	विपणन	210	70
Finance	64	96	वित्त	64	96
Operation	239	239	ऑपरेशन	239	239
IT	130	195	आईटी	130	195

Total number = 407 + 150 + 239 + 239

= 1035

कुल संख्या = 407 + 150 + 239 + 239

= 1035

eng hin

Total	Boys	Girls	कुल	लड़के	लड़कियां
	1050	750		1050	750
HR	407	150	एचआर	407	150
Marketing	210	70	विपणन	210	70
Finance	64	96	वित्त	64	96
Operation	239	239	ऑपरेशन	239	239
IT	130	195	आईटी	130	195

Total number = 407 + 150 + 239 + 239

= 1035

कुल संख्या = 407 + 150 + 239 + 239

= 1035

Q-48

eng/eng

What is the total number of boys doing MBA in Marketing and number of girls doing MBA in HR?

विपणन में एमबीए करने वाले लड़कों की संख्या और एचआर में एमबीए करने वाली लड़कियों की कुल संख्या क्या है?

01. 364
02. 362
03. 368
04. 360
05. None of these

इनमें से कोई नहीं

Q-48

eng hin

What is the total number of boys doing MBA in Marketing and number of girls doing MBA in HR?

विपणन में एमबीए करने वाले लड़कों की संख्या और एचआर में एमबीए करने वाली लड़कियों की कुल संख्या क्या है?

01. 364
02. 362
03. 368
04. 360
05. None of these

इनमें से कोई नहीं

Solution for Question 48

Ans Key: 4

eng/eng

Total	Boys	Girls	कुल	लड़के	लड़कियां
	1050	750		1050	750
HR	407	150	एचआर	407	150
Marketing	210	70	विपणन	210	70
Finance	64	96	वित्त	64	96
Operation	239	239	ऑपरेशन	239	239
IT	130	195	आईटी	130	195

Total number = 210 + 150

= 360

कुल संख्या = 210 + 150

= 360

eng hin

Total	Boys	Girls	कुल	लड़के	लड़कियां
	1050	750		1050	750
HR	407	150	एचआर	407	150
Marketing	210	70	विपणन	210	70
Finance	64	96	वित्त	64	96
Operation	239	239	ऑपरेशन	239	239
IT	130	195	आईटी	130	195

Total number = 210 + 150

= 360

कुल संख्या = 210 + 150

= 360

Q-49

eng/eng

What is the difference between the number of boys doing MBA in HR and number of girls doing MBA in IT?

एचआर में एमबीए करने वाले लड़कों की संख्या और आईटी में एमबीए करने वाली लड़कियों की संख्या के बीच अंतर क्या है?

01. 205
03. 212
05. None of these
इनमें से कोई नहीं
02. 208
04. 210

Q-49 What is the difference between the number of boys doing MBA in HR and number of girls doing MBA in IT?
एचआर में एमबीए करने वाले लड़कों की संख्या और आईटी में एमबीए करने वाली लड़कियों की संख्या के बीच अंतर क्या है?

01. 205
03. 212
05. None of these
इनमें से कोई नहीं
02. 208
04. 210

Solution for Question 49

Ans Key: 3

Total	Boys	Girls	कुल	लड़के	लड़कियां
	1050	750		1050	750
HR	407	150	एचआर	407	150
Marketing	210	70	विपणन	210	70
Finance	64	96	वित्त	64	96
Operation	239	239	ऑपरेशन	239	239
IT	130	195	आईटी	130	195

Req. diff. = 407 - 195
= 212
अभीष्ट अंतर = 407 - 195
= 212

Total	Boys	Girls	कुल	लड़के	लड़कियां
	1050	750		1050	750
HR	407	150	एचआर	407	150
Marketing	210	70	विपणन	210	70
Finance	64	96	वित्त	64	96
Operation	239	239	ऑपरेशन	239	239
IT	130	195	आईटी	130	195

Req. diff. = 407 - 195
= 212
अभीष्ट अंतर = 407 - 195
= 212

Passage for Question 50, 51, 52, 53 (RRBPOMAINSDEMO(10-13M)2020)

eng/eng Passage

Study the following table chart carefully and answer the questions given below-
निम्न तालिका चार्ट का अध्ययन कीजिये और दिये गये प्रश्नों के उत्तर दीजिये।

A company produces five types of shirts—A, B, C, D and E, using cloth of three qualities—High, Medium and low, using dyes of three qualities—High, Medium and Low. One shirt requires 1.5 m of cloth. The following table gives respectively:

- The number of shirts (of each category) produced, in thousands
- The percentage distribution of cloth quality in each type of shirt, and
- The percentage distribution of dye quality in each type of shirt.

Number of shirts			Distribution of cloth%			Distribution of dye%			
Shirt type	Number (000)	Shirt type	High	Medium	Low	Shirt type	High	Medium	Low
A	20	A	80	20	-	A	70	15	15
B	30	B	30	40	30	B	20	50	30
C	30	C	-	70	30	C	-	60	40
D	10	D	-	60	40	D	-	40	60
E	10	E	-	10	90	E	-	20	80

एक कंपनी, तीन गुणवत्ता के कपड़ों-उच्च, मध्यम और निम्न तथा तीन गुणवत्ता की डार्ड-उच्च, मध्यम और निम्न का उपयोग करते हुये पांच प्रकार के शर्ट-A, B, C, D और E का उत्पादन करती है। एक शर्ट के लिये 1.5 मीटर कपड़े की आवश्यकता होती है। निम्न तालिका में इसका विवरण क्रमशः दिया गया है:-

- उत्पादित शर्ट (प्रत्येक श्रेणी) की संख्या हजारों में है।
- प्रत्येक प्रकार की शर्ट में कपड़े की गुणवत्ता का प्रतिशत वितरण, और शर्ट का प्रकार
- प्रत्येक प्रकार की शर्ट में डार्ड की गुणवत्ता का प्रतिशत वितरण।

शर्ट की संख्या		कपड़े का वितरण % में				डाई का वितरण % में			
शर्ट का प्रकार	संख्या (000)	शर्ट का प्रकार	उच्च	मध्यम	निम्न	शर्ट का प्रकार	उच्च	मध्यम	निम्न
A	20	A	80	20	-	A	70	15	15

B	30	B	30	40	30	B	20	50	30
C	30	C	-	70	30	C	-	60	40
D	10	D	-	60	40	D	-	40	60
E	10	E	-	10	90	E	-	20	80

eng hin Passage

Study the following table chart carefully and answer the questions given below-
निम्न तालिका चार्ट का अध्ययन कीजिये और दिये गये प्रश्नों के उत्तर दीजिये।

A company produces five types of shirts—A, B, C, D and E, using cloth of three qualities—High, Medium and low, using dyes of three qualities—High, Medium and Low. One shirt requires 1.5 m of cloth. The following table gives respectively:

- I. The number of shirts (of each category) produced, in thousands
- II. The percentage distribution of cloth quality in each type of shirt, and
- III. The percentage distribution of dye quality in each type of shirt.

Number of shirts		Distribution of cloth%				Distribution of dye%			
Shirt type	Number (000)	Shirt type	High	Medium	Low	Shirt type	High	Medium	Low
A	20	A	80	20	-	A	70	15	15
B	30	B	30	40	30	B	20	50	30
C	30	C	-	70	30	C	-	60	40
D	10	D	-	60	40	D	-	40	60
E	10	E	-	10	90	E	-	20	80

एक कंपनी, तीन गुणवत्ता के कपड़ों-उच्च, मध्यम और निम्न तथा तीन गुणवत्ता की डाई-उच्च, मध्यम और निम्न का उपयोग करते हुये पांच प्रकार के शर्ट-A, B, C, D और E का उत्पादन करती है।एक शर्ट के लिये 1.5 मीटर कपड़े की आवश्यकता होती है।निम्न तालिका में इसका विवरण क्रमशः दिया गया है:-

- I. उत्पादित शर्ट (प्रत्येक श्रेणी) की संख्या हजारों में है।
- II. प्रत्येक प्रकार की शर्ट में कपड़े की गुणवत्ता का प्रतिशत वितरण, और शर्ट का प्रकार
- III. प्रत्येक प्रकार की शर्ट में डाई की गुणवत्ता का प्रतिशत वितरण।

शर्ट की संख्या		कपड़े का वितरण % में				डाई का वितरण % में			
शर्ट का प्रकार	संख्या (000)	शर्ट का प्रकार	उच्च	मध्यम	निम्न	शर्ट का प्रकार	उच्च	मध्यम	निम्न
A	20	A	80	20	-	A	70	15	15
B	30	B	30	40	30	B	20	50	30
C	30	C	-	70	30	C	-	60	40
D	10	D	-	60	40	D	-	40	60
E	10	E	-	10	90	E	-	20	80

Q-50 eng/eng How many metres of low-quality cloth are consumed?
कम गुणवत्ता वाले कपड़े का कितने मीटर प्रयोग किया गया है?

01. 22500 m
22500 मीटर
02. 35400 m
35400 मीटर
03. 46500 m
46500 मीटर
04. 60000 m
60000 मीटर
05. 40000 m.
40000 मीटर

Q-50 eng hin How many metres of low-quality cloth are consumed?
कम गुणवत्ता वाले कपड़े का कितने मीटर प्रयोग किया गया है?

01. 22500 m
22500 मीटर
02. 35400 m
35400 मीटर
03. 46500 m
46500 मीटर
04. 60000 m
60000 मीटर
05. 40000 m.
40000 मीटर

Solution for Question 50

Ans Key: 3

eng/eng Number of shirt of low quality = 30 × 30% + 30 × 30% + 10 × 40% + 10 × 90%
= 9 + 9 + 4 + 9 = 31
Required number of cloth = 31000 × 1.5 = 46500 m.
कम गुणवत्ता वाली शर्ट का संख्या = 30 × 30% + 30 × 30% + 10 × 40% + 10 × 90%
= 9 + 9 + 4 + 9 = 31
कपड़े की अपेक्षित लम्बाई = 31000 × 1.5 = 465000 मीटर

eng hin Number of shirt of low quality = $30 \times 30\% + 30 \times 30\% + 10 \times 40\% + 10 \times 90\%$
 $= 9 + 9 + 4 + 9 = 31$
 Required number of cloth = $31000 \times 1.5 = 46500$ m.
 कम गुणवत्ता वाली शर्ट का संख्या = $30 \times 30\% + 30 \times 30\% + 10 \times 40\% + 10 \times 90\%$
 $= 9 + 9 + 4 + 9 = 31$
 कपड़े की अपेक्षित लम्बाई = $31000 \times 1.5 = 465000$ मीटर

Q-51 How many metres of high-quality cloth is consumed by A-shirts?
eng/eng A-शर्ट बनाने में कितने मीटर उच्च गुणवत्ता वाले कपड़े का उपयोग हुआ है?

- | | |
|----------------------------------|----------------------------------|
| 01. 8000 m
8000 मीटर | 02. 12000 m
12000 मीटर |
| 03. 24000 m
24000 मीटर | 04. 30000 m
30000 मीटर |
| 05. 35900 m
35900 मीटर | |

Q-51 How many metres of high-quality cloth is consumed by A-shirts?
eng hin A-शर्ट बनाने में कितने मीटर उच्च गुणवत्ता वाले कपड़े का उपयोग हुआ है?

- | | |
|----------------------------------|----------------------------------|
| 01. 8000 m
8000 मीटर | 02. 12000 m
12000 मीटर |
| 03. 24000 m
24000 मीटर | 04. 30000 m
30000 मीटर |
| 05. 35900 m
35900 मीटर | |

Solution for Question 51

Ans Key: 3

eng/eng Number of high quality shirts of type A = $20 \times 80\% = 16000$
 Requirement of cloth = $16000 \times 1.5 = 24000$ m
 A-प्रकार की उच्च गुणवत्ता वाली शर्ट की संख्या = $20 \times 80\% = 16000$
 कपड़े की आवश्यक लम्बाई = $16000 \times 1.5 = 24000$ मीटर

eng hin Number of high quality shirts of type A = $20 \times 80\% = 16000$
 Requirement of cloth = $16000 \times 1.5 = 24000$ m
 A-प्रकार की उच्च गुणवत्ता वाली शर्ट की संख्या = $20 \times 80\% = 16000$
 कपड़े की आवश्यक लम्बाई = $16000 \times 1.5 = 24000$ मीटर

Q-52 What is the ratio of the three qualities of dyes in high-quality cloth?
eng/eng उच्च गुणवत्ता वाले कपड़े में तीनों गुणवत्ता की डाई का अनुपात क्या है?

- | | |
|---|-----------------------|
| 01. 2 : 3 : 5 | 02. 1 : 2 : 5 |
| 03. 7 : 9 : 10 | 04. 5 : 7 : 10 |
| 05. Cannot be determined
निर्धारित नहीं किया जा सकता। | |

Q-52 What is the ratio of the three qualities of dyes in high-quality cloth?
eng hin उच्च गुणवत्ता वाले कपड़े में तीनों गुणवत्ता की डाई का अनुपात क्या है?

- | | |
|---|-----------------------|
| 01. 2 : 3 : 5 | 02. 1 : 2 : 5 |
| 03. 7 : 9 : 10 | 04. 5 : 7 : 10 |
| 05. Cannot be determined
निर्धारित नहीं किया जा सकता। | |

Solution for Question 52

Ans Key: 5

eng/eng Cannot be determined
निर्धारित नहीं किया जा सकता।

eng hin Cannot be determined
निर्धारित नहीं किया जा सकता।

Q-53 How many metres of low-quality cloth is consumed by B-shirts?
eng/eng B-शर्ट द्वारा कितने मीटर कम गुणवत्ता वाले कपड़े का उपयोग हुआ है?

- | | |
|------------------|------------------|
| 01. 9000 | 02. 12000 |
| 03. 13500 | 04. 14000 |
| 05. 14060 | |

Q-53 How many metres of low-quality cloth is consumed by B-shirts?
eng hin B-शर्ट द्वारा कितने मीटर कम गुणवत्ता वाले कपड़े का उपयोग हुआ है?

- 05.** 14060

Ans Key: 3

Ans Key: 2

Ans Key: 4

17 16 40 93 438 2055

01. 438
03. 16
05. 40
02. 2055
04. 93

Q-56 In the following number-series one number is wrong. Find out that wrong number.
निम्नलिखित संख्या श्रृंखला में एक संख्या गलत है। उस गलत संख्या का पता लगाइये।

17 16 40 93 438 2055

01. 438
03. 16
05. 40
02. 2055
04. 93

Solution for Question 56

Ans Key: 1

eng/eng $\times 1 - 1^3, \times 2 + 2^3, \times 3 - 3^3, \times 4 + 4^3, \times 5 - 5^3$

eng hin $\times 1 - 1^3, \times 2 + 2^3, \times 3 - 3^3, \times 4 + 4^3, \times 5 - 5^3$

Q-57 The following questions are accompanied by three statements. You have to determine which statement (s) is/are/sufficient/ necessary to answer the question ?

नीचे दिये गये प्रश्नों में तीन कथनों के माध्यम से कुछ जानकारियां दी गई है आपको यह निर्णय करना है कि क्या कथनों में दी गयी जानकारी उत्तर देने के लिए पर्याप्त है।

What is the area of the rectangle?

- (A) Perimeter of the rectangle is 80m
(B) The total cost of flooring the rectangle at Rs. 2 per square metre
(C) Breadth of the rectangle is 15m.
आयत का क्षेत्रफल क्या है ?
(A) आयत का परिमाप 80 मी. है।
(B) आयताकार फर्श बनाने में व्यय 2 रु. प्रतिवर्ग मी. है।
(C) आयत की चौड़ाई 15 मी. है।

01. All A,B & C are required
A, B और C सभी कथन पर्याप्त है।
02. A,B & C even together is not sufficient.
A, B और C सभी कथन पर्याप्त नहीं है।
03. Either A or B or C sufficient
या तो A या B या C पर्याप्त हैं।
04. Either A and B together or B and C together or C and A together are sufficient.
या तो A और B साथ-साथ या B और C साथ-साथ या A और C साथ-साथ पर्याप्त है।
05. None of these
इनमें से कोई नहीं

Q-57 The following questions are accompanied by three statements. You have to determine which statement (s) is/are/sufficient/ necessary to answer the question ?

नीचे दिये गये प्रश्नों में तीन कथनों के माध्यम से कुछ जानकारियां दी गई है आपको यह निर्णय करना है कि क्या कथनों में दी गयी जानकारी उत्तर देने के लिए पर्याप्त है।

What is the area of the rectangle?

- (A) Perimeter of the rectangle is 80m
(B) The total cost of flooring the rectangle at Rs. 2 per square metre
(C) Breadth of the rectangle is 15m.
आयत का क्षेत्रफल क्या है ?
(A) आयत का परिमाप 80 मी. है।
(B) आयताकार फर्श बनाने में व्यय 2 रु. प्रतिवर्ग मी. है।
(C) आयत की चौड़ाई 15 मी. है।

01. All A,B & C are required
A, B और C सभी कथन पर्याप्त है।
02. A,B & C even together is not sufficient.
A, B और C सभी कथन पर्याप्त नहीं है।
03. Either A or B or C sufficient
या तो A या B या C पर्याप्त हैं।
04. Either A and B together or B and C together or C and A together are sufficient.
या तो A और B साथ-साथ या B और C साथ-साथ या A और C साथ-साथ पर्याप्त है।
05. None of these
इनमें से कोई नहीं

Solution for Question 57

Ans Key: 5

eng/eng $2(l+b) = 80$
 $l+b = 40$
 $b = 15 \text{ m.}, l = 25 \text{m.}$
 $\text{Area} = 25 \times 15$
 $= 375 \text{ m}^2$
 $2(l+b) = 80$
 $l+b = 40$
 $b = 15 \text{ मीटर-}$
 $l = 25 \text{ मीटर-}$
 $\text{क्षेत्रफल} = 25 \times 15$

$$= 375 \text{ मीटर}^2$$

eng hin
 $2(l+b) = 80$
 $l+b = 40$
 $b = 15 \text{ m.}, l = 25 \text{ m.}$
 $\text{Area} = 25 \times 15$
 $= 375 \text{ m}^2$
 $2(l+b) = 80$
 $l+b = 40$
 $b = 15 \text{ मीटर-}$
 $l = 25 \text{ मीटर-}$
 $\text{क्षेत्रफल} = 25 \times 15$
 $= 375 \text{ मीटर}^2$

Q-58 The following questions are accompanied by three statements. You have to determine which statement (s) is/are/sufficient/ necessary to answer the question ?
 नीचे दिये गये प्रश्नों में तीन कथनों के माध्यम से कुछ जानकारी दी गई है आपको यह निर्णय करना है कि क्या कथनों में दी गयी जानकारी उत्तर देने के लिए पर्याप्त है।

X,Y and Z together will finish the work in how many days?

(A) X does half as much work as Y and Y does half as much work as X and Z do together in one day.

(B) Y does the whole work in 40 days

(C) X and Z do the whole work in 20 days

X, Y और Z मिलाकर एक काम को कितने दिनों में पूरा करेंगे ?

(A) Y जितना कार्य एक दिन में करता है उसका आधा भाग X करता है। X और Z दोनों मिलकर जितना कार्य करते हैं Y उसका आधा भाग कार्य करता है।

(B) Y अकेले पूरे कार्य को 40 दिनों में करता है।

(C) X और Z दोनों मिलकर कार्य को 20 दिनों में पूरा करते हैं।

01. All A,B & C are required
 A, B और C सभी कथन पर्याप्त है।

02. A,B &C even together is not sufficient
 A, B और C सभी कथन पर्याप्त नहीं है।

03. Either A or B or C sufficient
 या तो A या B या C पर्याप्त हैं।

04. Either A and B together or B and C together or C and A together are sufficient.
 या तो A और B साथ-साथ या B और C साथ-साथ या A और C साथ-साथ पर्याप्त है।

05. None of these
 इनमें से कोई नहीं

Q-58 The following questions are accompanied by three statements. You have to determine which statement (s) is/are/sufficient/ necessary to answer the question ?
 नीचे दिये गये प्रश्नों में तीन कथनों के माध्यम से कुछ जानकारी दी गई है आपको यह निर्णय करना है कि क्या कथनों में दी गयी जानकारी उत्तर देने के लिए पर्याप्त है।

X,Y and Z together will finish the work in how many days?

(A) X does half as much work as Y and Y does half as much work as X and Z do together in one day.

(B) Y does the whole work in 40 days

(C) X and Z do the whole work in 20 days

X, Y और Z मिलाकर एक काम को कितने दिनों में पूरा करेंगे ?

(A) Y जितना कार्य एक दिन में करता है उसका आधा भाग X करता है। X और Z दोनों मिलकर जितना कार्य करते हैं Y उसका आधा भाग कार्य करता है।

(B) Y अकेले पूरे कार्य को 40 दिनों में करता है।

(C) X और Z दोनों मिलकर कार्य को 20 दिनों में पूरा करते हैं।

01. All A,B & C are required
 A, B और C सभी कथन पर्याप्त है।

02. A,B &C even together is not sufficient
 A, B और C सभी कथन पर्याप्त नहीं है।

03. Either A or B or C sufficient
 या तो A या B या C पर्याप्त हैं।

04. Either A and B together or B and C together or C and A together are sufficient.
 या तो A और B साथ-साथ या B और C साथ-साथ या A और C साथ-साथ पर्याप्त है।

05. None of these
 इनमें से कोई नहीं

Solution for Question 58

Ans Key: 4

eng/eng
 From A,
 $X = \frac{Y}{2}, Y = \frac{X+Z}{2}$
 From B,
 $Y = 40 \text{ days}$
 From C,
 $X+Z = 20 \text{ days}$
 \therefore Using A and B or B and C or C and A,
 we can get the req. answer.
 A से,
 $X = \frac{Y}{2}, Y = \frac{X+Z}{2}$

B से,

$$Y = 40 \text{ दिन}$$

C से,

$$X+Z = 20 \text{ दिन}$$

∴ A और B या B और C या C और A, से हम अभीष्ट उत्तर ज्ञात कर सकते हैं।

eng hin

From A,

$$X = \frac{Y}{2}, Y = \frac{X+Z}{2}$$

From B,

$$Y = 40 \text{ days}$$

From C,

$$X+Z = 20 \text{ days}$$

∴ Using A and B or B and C or C and A, we can get the req. answer.

A से,

$$X = \frac{Y}{2}, Y = \frac{X+Z}{2}$$

B से,

$$Y = 40 \text{ दिन}$$

C से,

$$X+Z = 20 \text{ दिन}$$

∴ A और B या B और C या C और A, से हम अभीष्ट उत्तर ज्ञात कर सकते हैं।

Q-59

eng/eng

The following questions are accompanied by three statements. You have to determine which statement (s) is/are/sufficient/ necessary to answer the question ?

नीचे दिये गये प्रश्नों में तीन कथनों के माध्यम से कुछ जानकारीयां दी गई है आपको यह निर्णय करना है कि क्या कथनों में दी गयी जानकारी उत्तर देने के लिए पर्याप्त है।

What is the volume of the smallest sphere?

- (A) Three spheres are recast by melting the sphere of volume $85.33\pi \text{ cm}^3$.
(B) Radii of two of the three spheres are 3 cm and 2.5 cm respectively.
(C) The sum of diameters of three spheres is 14cm.

सबसे छोटे गोले का आयतन क्या है?

- (A) 85.33π सेमी³ आयतन वाले गोले को पिघलाकर तीन गोले बनाये जाते हैं।
(B) तीन गोलों में से दो गोलों की त्रिज्या क्रमशः 3 सेमी और 2.5 सेमी है।
(C) तीन गोलों के व्यास का योग 14 सेमी है।

01. All A,B & C are required
A, B और C सभी कथन पर्याप्त है।

02. A,B &C even together is not sufficient.
A, B और C सभी कथन पर्याप्त नहीं है।

03. Either A or B or C sufficient
या तो A या B या C पर्याप्त हैं।

04. Either A and B together or B and C together
या तो A और B साथ-साथ या B और C साथ-साथ पर्याप्त है।

05. None of these
इनमें से कोई नहीं

Q-59

eng hin

The following questions are accompanied by three statements. You have to determine which statement (s) is/are/sufficient/ necessary to answer the question ?

नीचे दिये गये प्रश्नों में तीन कथनों के माध्यम से कुछ जानकारीयां दी गई है आपको यह निर्णय करना है कि क्या कथनों में दी गयी जानकारी उत्तर देने के लिए पर्याप्त है।

What is the volume of the smallest sphere?

- (A) Three spheres are recast by melting the sphere of volume $85.33\pi \text{ cm}^3$.
(B) Radii of two of the three spheres are 3 cm and 2.5 cm respectively.
(C) The sum of diameters of three spheres is 14cm.

सबसे छोटे गोले का आयतन क्या है?

- (A) 85.33π सेमी³ आयतन वाले गोले को पिघलाकर तीन गोले बनाये जाते हैं।
(B) तीन गोलों में से दो गोलों की त्रिज्या क्रमशः 3 सेमी और 2.5 सेमी है।
(C) तीन गोलों के व्यास का योग 14 सेमी है।

01. All A,B & C are required
A, B और C सभी कथन पर्याप्त है।

02. A,B &C even together is not sufficient.
A, B और C सभी कथन पर्याप्त नहीं है।

03. Either A or B or C sufficient
या तो A या B या C पर्याप्त हैं।

05. None of these
इनमें से कोई नहीं

04. Either A and B together or B and C together
या तो A और B साथ-साथ या B और C साथ-साथ पर्याप्त है।

Solution for Question 59

Ans Key: 4

eng/eng

According to question

$$\frac{4\pi}{3} (r_1^3 + r_2^3 + r_3^3) = 85.33 \pi \text{ cm}^3$$

$$r_1 + r_2 + r_3 = 7 \text{ cm}$$

$$r_1 + r_2 = 5.5$$

प्रश्नानुसार,

$$\frac{4\pi}{3} (r_1^3 + r_2^3 + r_3^3) = 85.33 \pi \text{ सेमी}^3$$

$$r_1 + r_2 + r_3 = 7 \text{ सेमी}$$

$$r_1 + r_2 = 5.5$$

eng hin

According to question

$$\frac{4\pi}{3} (r_1^3 + r_2^3 + r_3^3) = 85.33 \pi \text{ cm}^3$$

$$r_1 + r_2 + r_3 = 7 \text{ cm}$$

$$r_1 + r_2 = 5.5$$

प्रश्नानुसार,

$$\frac{4\pi}{3} (r_1^3 + r_2^3 + r_3^3) = 85.33 \pi \text{ सेमी}^3$$

$$r_1 + r_2 + r_3 = 7 \text{ सेमी}$$

$$r_1 + r_2 = 5.5$$

Q-60

eng/eng

The following questions are accompanied by three statements. You have to determine which statement (s) is/are/sufficient/ necessary to answer the question ?

नीचे दिये गये प्रश्नों में तीन कथनों के माध्यम से कुछ जानकारी दी गई है आपको यह निर्णय करना है कि क्या कथनों में दी गयी जानकारी उत्तर देने के लिए पर्याप्त है।

What is the sum ?

(A) At 5% annual rate its C.I is Rs. 6.25 more than its S.I in two years.

(B) At 8% annual rate the S.I of the amount in three years Rs. 600.

(C) At 6% annual rate the C.I of the amount in 3 years is Rs. 477.54.

धनराशि क्या है ?

(A) 5% वार्षिक ब्याज की दर से 2 वर्षों का चक्रवृद्धि ब्याज, साधारण ब्याज से 6.25 रू. अधिक है।

(B) 8% वार्षिक ब्याज की दर 3 वर्षों का साधारण ब्याज 600 रू. है।

(C) 6% वार्षिक ब्याज की दर से 3 वर्षों का चक्रवृद्धि ब्याज 477.54 रू. है।

01. All A,B & C are required
A, B और C सभी कथन पर्याप्त है।

02. A,B & C even together is not sufficient.
A, B और C सभी कथन पर्याप्त नहीं है।

03. Either A or B or C sufficient
या तो A या B या C पर्याप्त हैं।

04. Either A and B together or B and C together or C and A together are sufficient.
या तो A और B साथ-साथ या B और C साथ-साथ या A और C साथ-साथ पर्याप्त है।

05. None of these
इनमें से कोई नहीं

Q-60

eng hin

The following questions are accompanied by three statements. You have to determine which statement (s) is/are/sufficient/ necessary to answer the question ?

नीचे दिये गये प्रश्नों में तीन कथनों के माध्यम से कुछ जानकारी दी गई है आपको यह निर्णय करना है कि क्या कथनों में दी गयी जानकारी उत्तर देने के लिए पर्याप्त है।

What is the sum ?

(A) At 5% annual rate its C.I is Rs. 6.25 more than its S.I in two years.

(B) At 8% annual rate the S.I of the amount in three years Rs. 600.

(C) At 6% annual rate the C.I of the amount in 3 years is Rs. 477.54.

धनराशि क्या है ?

(A) 5% वार्षिक ब्याज की दर से 2 वर्षों का चक्रवृद्धि ब्याज, साधारण ब्याज से 6.25 रू. अधिक है।

(B) 8% वार्षिक ब्याज की दर 3 वर्षों का साधारण ब्याज 600 रू. है।

(C) 6% वार्षिक ब्याज की दर से 3 वर्षों का चक्रवृद्धि ब्याज 477.54 रू. है।

01. All A,B & C are required
A, B और C सभी कथन पर्याप्त है।

02. A,B & C even together is not sufficient.
A, B और C सभी कथन पर्याप्त नहीं है।

03. Either A or B or C sufficient
या तो A या B या C पर्याप्त हैं।

04. Either A and B together or B and C together or C and A together are sufficient.
या तो A और B साथ-साथ या B और C साथ-साथ या A और C साथ-साथ पर्याप्त है।

05. None of these
इनमें से कोई नहीं

Ans Key: 5

Solution for Question 60

eng/eng

From A,

$$P = \frac{\text{Difference} \times 100^2}{r^2}$$

$$P = \text{Rs. } 2500$$
 Or,
 From B,

$$\text{S.I.} = \frac{PRT}{100}$$

$$P = \frac{600}{24}$$

$$= \text{Rs. } 2500$$
 Or,
 From C,

$$\text{C.I.} = P \left[\left(1 + \frac{r}{100} \right)^n - 1 \right]$$

$$P = \frac{477.54}{.191016}$$

$$= \text{Rs. } 2500$$

A से,

$$P = \frac{\text{अंतर} \times 100^2}{r^2}$$

$$P = 2500 \text{ ₹.}$$
 या,
 B से,

$$\text{S.I.} = \frac{PRT}{100}$$

$$P = \frac{600}{24}$$

$$= 2500 \text{ ₹.}$$
 या,
 C से,

$$\text{C.I.} = P \left[\left(1 + \frac{r}{100} \right)^n - 1 \right]$$

$$P = \frac{477.54}{.191016}$$

$$= 2500 \text{ ₹.}$$

eng hin

From A,

$$P = \frac{\text{Difference} \times 100^2}{r^2}$$

$$P = \text{Rs. } 2500$$
 Or,
 From B,

$$\text{S.I.} = \frac{PRT}{100}$$

$$P = \frac{600}{24}$$

$$= \text{Rs. } 2500$$
 Or,
 From C,

$$\text{C.I.} = P \left[\left(1 + \frac{r}{100} \right)^n - 1 \right]$$

$$P = \frac{477.54}{.191016}$$

$$= \text{Rs. } 2500$$

A से,

$$P = \frac{\text{अंतर} \times 100^2}{r^2}$$

$$P = 2500 \text{ ₹.}$$
 या,
 B से,

$$\text{S.I.} = \frac{PRT}{100}$$

$$P = \frac{600}{24}$$

$$= 2500 \text{ ₹.}$$
 या,
 C से,

$$\text{C.I.} = P \left[\left(1 + \frac{r}{100} \right)^n - 1 \right]$$

$$P = \frac{477.54}{.191016}$$

$$= 2500 \text{ ₹.}$$

Q-61 A certain sum of money grows to Rs.750 after 4.5 years while the same sum of money grows to Rs.950 after 6.5 years at a certain rate of simple interest.
 Find the simple interest on the same sum of money at the same rate after 3.25 years.
 कोई निश्चित धन किसी निश्चित साधारण ब्याज की दर से 4.5 वर्षों में बढ़कर रु.750 तथा 6.5 वर्षों में बढ़कर रु.950 हो जाता है। बताइए उसी धन पर समान ब्याज की दर से 3.25 वर्षों कितना साधारण ब्याज उपचित होगा।

- | | |
|-----------------------|----------------------|
| 01. Rs.100
रु.100 | 02. Rs.325
रु.325 |
| 03. Rs.352
रु.352 | 04. Rs.350
रु.350 |
| 05. Rs.325
रु..325 | |

Q-61 A certain sum of money grows to Rs.750 after 4.5 years while the same sum of money grows to Rs.950 after 6.5 years at a certain rate of simple interest.
 Find the simple interest on the same sum of money at the same rate after 3.25 years.
 कोई निश्चित धन किसी निश्चित साधारण ब्याज की दर से 4.5 वर्षों में बढ़कर रु.750 तथा 6.5 वर्षों में बढ़कर रु.950 हो जाता है। बताइए उसी धन पर समान ब्याज की दर से 3.25 वर्षों कितना साधारण ब्याज उपचित होगा।

- | | |
|-----------------------|----------------------|
| 01. Rs.100
रु.100 | 02. Rs.325
रु.325 |
| 03. Rs.352
रु.352 | 04. Rs.350
रु.350 |
| 05. Rs.325
रु..325 | |

Solution for Question 61

Ans Key: 2

eng/eng

$$\frac{\text{Rs. } 950 - \text{Rs. } 750}{6.5 \text{ years} - 4.5 \text{ years}} \times 3.25 \text{ years} = \text{Rs. } 325$$

$$\therefore 7 : (10 - 7) = 7 : 3$$

eng hin

$$\begin{array}{ccc} 1 & : & 1 \\ V_1 & & V_2 \\ \frac{4}{5} & & \frac{3}{5} \\ & \times & \\ \left(\frac{3}{5} - x\right) & : & \left(x - \frac{4}{5}\right) \end{array}$$

We have

$$\frac{\frac{3}{5} - x}{x - \frac{4}{5}} = \frac{1}{1}$$

$$\Rightarrow x = \frac{7}{10}$$

$$\therefore 7 : (10 - 7) = 7 : 3$$

Q-64

eng/eng

A and B are two persons. If A works with its actual efficiency and B twice of its actual efficiency then it takes 25 days to complete the work. But If A works twice of its actual efficiency and B with its normal efficiency then the work is completed in 20 days. How many days would it take if B alone works with its actual efficiency (in Days)?

A तथा B दो व्यक्ति हैं। यदि A अपनी वास्तविक कार्यक्षमता से और B अपनी वास्तविक कार्यक्षमता के दुगुनी कार्यक्षमता से कार्य करे तो पूरे कार्य को समाप्त होने में 25 दिन लगते हैं। यदि A अपनी वास्तविक कार्यक्षमता के दुगुनी कार्यक्षमता से कार्य करे और B अपनी वास्तविक कार्यक्षमता से कार्य करे तब पूरे कार्य को समाप्त होने में 20 दिन लगते हैं। तो बताइए B यदि अपनी वास्तविक कार्यक्षमता से अकेले कार्य करे तो पूरे कार्य को समाप्त होने में कितना समय लगेगा?

01. 35

02. 50

03. 30

04. 100

05. 200

Q-64

eng hin

A and B are two persons. If A works with its actual efficiency and B twice of its actual efficiency then it takes 25 days to complete the work. But If A works twice of its actual efficiency and B with its normal efficiency then the work is completed in 20 days. How many days would it take if B alone works with its actual efficiency (in Days)?

A तथा B दो व्यक्ति हैं। यदि A अपनी वास्तविक कार्यक्षमता से और B अपनी वास्तविक कार्यक्षमता के दुगुनी कार्यक्षमता से कार्य करे तो पूरे कार्य को समाप्त होने में 25 दिन लगते हैं। यदि A अपनी वास्तविक कार्यक्षमता के दुगुनी कार्यक्षमता से कार्य करे और B अपनी वास्तविक कार्यक्षमता से कार्य करे तब पूरे कार्य को समाप्त होने में 20 दिन लगते हैं। तो बताइए B यदि अपनी वास्तविक कार्यक्षमता से अकेले कार्य करे तो पूरे कार्य को समाप्त होने में कितना समय लगेगा?

01. 35

02. 50

03. 30

04. 100

05. 200

Solution for Question 64

Ans Key: 4

eng/eng

$$W = \text{LCM}(25, 20) = 100$$

$$E(A + 2B) = \frac{100}{25} = 4$$

$$E(2A + B) = \frac{100}{20} = 5$$

$$\therefore E(B) = 1$$

$$\therefore B = \frac{100}{1} = 100$$

eng hin

$$W = \text{LCM}(25, 20) = 100$$

$$E(A + 2B) = \frac{100}{25} = 4$$

$$E(2A + B) = \frac{100}{20} = 5$$

$$\therefore E(B) = 1$$

$$\therefore B = \frac{100}{1} = 100$$

Q-65

eng/eng

A vendor sold a mixture of two liquids at the rate of Rs. 11 per litre gains 10% which are mixed in the ratio 3 : 2. If the first liquid costs Rs. 2 per liter more than the second. Find the cost price of second type liquids.

एक विक्रेता दो तरल पदार्थों के एक मिश्रण को 11 रु प्रति लीटर में बेचकर 10 प्रतिशत का लाभ कमाता है जोकि 3 : 2 के अनुपात में मिले हैं, यदि पहला मिश्रण का मूल्य दूसरे मिश्रण की अपेक्षा 2 रुपये प्रति लीटर अधिक है तो दूसरे मिश्रण की कीमत मूल्य ज्ञात कीजिए।

01. Rs.6.8
02. Rs.7.5
03. Rs.8.8
04. Rs.9.8
05. None of these
इनमें से कोई नहीं

Q-65
eng hin

A vendor sold a mixture of two liquids at the rate of Rs.11 per litre gains 10% which are mixed in the ratio 3 : 2. If the first liquid costs Rs. 2 per liter more than the second. Find the cost price of second type liquids.
एक विक्रेता दो तरल पदार्थों के एक मिश्रण को 11 रु प्रति लीटर में बेचकर 10 प्रतिशत का लाभ कमाता है जोकि 3: 2 के अनुपात में मिले है, यदि पहला मिश्रण का मूल्य दूसरे मिश्रण की अपेक्षा 2 रूपये प्रति लीटर अधिक है तो दूसरे मिश्रण की कीमत मूल्य ज्ञात कीजिए।

01. Rs.6.8
02. Rs.7.5
03. Rs.8.8
04. Rs.9.8
05. None of these
इनमें से कोई नहीं

Solution for Question 65

Ans Key: 3

eng/eng

$$CP = \frac{11 \times 100}{110} = 10$$

$$3 \times (k+2) + 2 \times k = (3+2) \times 10$$

$$k = 8.8$$

C.P. ₁ = k+2	CP ₂ = k
= 10.2	= 8.8

eng hin

$$CP = \frac{11 \times 100}{110} = 10$$

$$3 \times (k+2) + 2 \times k = (3+2) \times 10$$

$$k = 8.8$$

C.P. ₁ = k+2	CP ₂ = k
= 10.2	= 8.8

Q-66

eng/eng

Car A start from x towards y at 11:00 while Car B starts from Y at 1 : 08 PM. they cross each other at 2 : 20 Pm and reach their respective ends exactly at the same time. At what time reach thare destination ?

कार A, X से Y की ओर 11 : 00 बजे चलती है। जबकि कार B, Y से 1 : 08 बजे चलती है, दोनों गाड़ियाँ ठीक शाम 2: 20 बजे एकदूसरे को पार करती हैं और अपने गंतव्यों पर दोनों एक ही समय पर पहुँचती हैं। दोनों गाड़ियां गंतव्यों पर कब पहुँचती हैं?

01. 4 : 20
02. 3 : 20
03. 5 : 20
04. 6 : 20
05. None of these
इनमें से कोई नहीं

Q-66

eng hin

Car A start from x towards y at 11:00 while Car B starts from Y at 1 : 08 PM. they cross each other at 2 : 20 Pm and reach their respective ends exactly at the same time. At what time reach thare destination ?

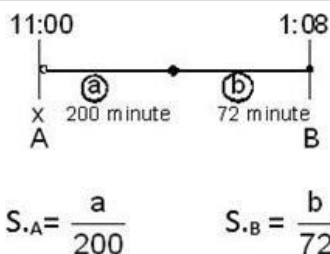
कार A, X से Y की ओर 11 : 00 बजे चलती है। जबकि कार B, Y से 1 : 08 बजे चलती है, दोनों गाड़ियाँ ठीक शाम 2: 20 बजे एकदूसरे को पार करती हैं और अपने गंतव्यों पर दोनों एक ही समय पर पहुँचती हैं। दोनों गाड़ियां गंतव्यों पर कब पहुँचती हैं?

01. 4 : 20
02. 3 : 20
03. 5 : 20
04. 6 : 20
05. None of these
इनमें से कोई नहीं

Solution for Question 66

Ans Key: 1

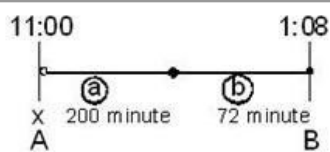
eng/eng



$$\frac{\frac{b}{a}}{\frac{200}{72}} = \frac{a}{b} \Rightarrow \frac{b^2}{a^2} = \frac{72}{200} = \frac{9}{25} \Rightarrow \frac{b}{a} = \frac{3}{5}$$

$$200 \times \frac{3}{5} \Rightarrow 120 = 2 \text{ hr.}$$

eng hin



$$S.A = \frac{a}{200} \quad S.B = \frac{b}{72}$$

$$\frac{\frac{b}{a}}{\frac{200}{72}} = \frac{a}{b} \Rightarrow \frac{b^2}{a^2} = \frac{72}{200} = \frac{9}{25} \Rightarrow \frac{b}{a} = \frac{3}{5}$$

$$200 \times \frac{3}{5} \Rightarrow 120 = 2 \text{ hr.}$$

Q-67
eng/eng

X and Y start a buisness by investing Rs 700 and Rs. 600 respectively after 3 months X whitdraw $\frac{2}{7}$ of his invetment but further 3 months he reinvested $\frac{3}{5}$ of whitdraw . If they receive Rs. 726 as a profit after end of the year then find the share of X ?

X और Y क्रमशः रू 700 और रू. 600 एक साझा व्यवसाय प्रारम्भ किया। 3 महीने के पश्चात् X अपनी जमा राशि का $\frac{2}{7}$ भाग निकालता है लेकिन 3 महीने के बाद निकाली गयी राशि का $\frac{3}{5}$ भाग पुनः निवेश कर देता है। यदि वर्ष के अंत में लाभ रू. 726 है। तो X को इसमें कितने रूपये मिलना चाहिए ?

01. Rs.540
540 रू.

02. Rs.365
365 रू.

03. Rs.378
378 रू.

04. Rs.360
360 रू.

05. Rs.366
366 रू.

Q-67
eng/eng

X and Y start a buisness by investing Rs 700 and Rs. 600 respectively after 3 months X whitdraw $\frac{2}{7}$ of his invetment but further 3 months he reinvested $\frac{3}{5}$ of whitdraw . If they receive Rs. 726 as a profit after end of the year then find the share of X ?

X और Y क्रमशः रू 700 और रू. 600 एक साझा व्यवसाय प्रारम्भ किया। 3 महीने के पश्चात् X अपनी जमा राशि का $\frac{2}{7}$ भाग निकालता है लेकिन 3 महीने के बाद निकाली गयी राशि का $\frac{3}{5}$ भाग पुनः निवेश कर देता है। यदि वर्ष के अंत में लाभ रू. 726 है। तो X को इसमें कितने रूपये मिलना चाहिए ?

01. Rs.540
540 रू.

02. Rs.365
365 रू.

03. Rs.378
378 रू.

04. Rs.360
360 रू.

05. Rs.366
366 रू.

Solution for Question 67

Ans Key: 5

eng/eng Ratio between the investments of the sum = $(700 \times 3 + 500 \times 3 + 620 \times 6) : (600 \times 12)$
= 183 : 180

X's share = Rs.366

उनके द्वारा निवेशित राशि = $(700 \times 3 + 500 \times 3 + 620 \times 6) : (600 \times 12)$
= 183 : 180

X का भाग = Rs.366

eng hin Ratio between the investments of the sum = $(700 \times 3 + 500 \times 3 + 620 \times 6) : (600 \times 12)$
= 183 : 180

X's share = Rs.366

उनके द्वारा निवेशित राशि = $(700 \times 3 + 500 \times 3 + 620 \times 6) : (600 \times 12)$
= 183 : 180

X का भाग = Rs.366

Q-68 A goods train engine speed 56 km./ hr.without any wagon attached . If the reduction in the speed of engine is directly proportional to the square root of the number of attached wagons . when there are 16 wagons attached then speed calculated 24 km./hr. Find the maximum number of wagons train can carry?
eng/eng एक मालगाड़ी रेल इंजन इंजन डिब्बों के बगैर 56 किमी/घंटे की चाल से चल सकता है। इंजन की गति में कमी साथ में लगाये गये डिब्बों की संख्या के वर्गमूल के अनुक्रमानुपाती है। जब 16 डिब्बों लगे होते है तो उसकी गति 24 किमी प्रति घण्टा प्राप्त होती है। इंजन अधिकतम कितने डिब्बों को लेकर चल सकता है?

01. 48

02. 47
03. 46

04. 49
05. None of these

इनमें से कोई नहीं

Q-68 A goods train engine speed 56 km./ hr.without any wagon attached . If the reduction in the speed of engine is directly proportional to the square root of the number of attached wagons . when there are 16 wagons attached then speed calculated 24 km./hr. Find the maximum number of wagons train can carry?
eng hin एक मालगाड़ी रेल इंजन इंजन डिब्बों के बगैर 56 किमी/घंटे की चाल से चल सकता है। इंजन की गति में कमी साथ में लगाये गये डिब्बों की संख्या के वर्गमूल के अनुक्रमानुपाती है। जब 16 डिब्बों लगे होते है तो उसकी गति 24 किमी प्रति घण्टा प्राप्त होती है। इंजन अधिकतम कितने डिब्बों को लेकर चल सकता है?

01. 48

02. 47
03. 46

04. 49
05. None of these

इनमें से कोई नहीं

Solution for Question 68 Ans Key: 1

eng/eng	$56 - 24 = k\sqrt{16} \Rightarrow 32 = k \times 4 \Rightarrow k = 8$ Now, $56 - 0 = 8\sqrt{w} \Rightarrow w = 49$ for the train moving - $49 - 1 = 48$ ट्रेन के चलने के लिए - $49 - 1 = 48$
eng hin	$56 - 24 = k\sqrt{16} \Rightarrow 32 = k \times 4 \Rightarrow k = 8$ Now, $56 - 0 = 8\sqrt{w} \Rightarrow w = 49$ for the train moving - $49 - 1 = 48$ ट्रेन के चलने के लिए - $49 - 1 = 48$

Q-69 In an examination, the number of passed students was four times the number of failed students. If there had been 35 fewer appeared students and 9 more had failed, the ratio of passed and failed students would have been 2 : 1, then the total number of students was-
eng/eng किसी परीक्षा में उत्तीर्ण होने वाले विद्यार्थियों की संख्या अनुत्तीर्ण होने वाले विद्यार्थियों की संख्या का चार गुना थी। यदि सम्मिलित होने वाले विद्यार्थी 35 कम होते और 9 अधिक अनुत्तीर्ण हो जाते तो उत्तीर्ण और अनुत्तीर्ण विद्यार्थियों के बीच अनुपात 2 : 1 होता। विद्यार्थियों की कुल संख्या थी-

01. 135

02. 155
03. 145

04. 150
05. None of these

इनमें से कोई नहीं

Q-69 In an examination, the number of passed students was four times the number of failed students. If there had been 35 fewer appeared students and 9 more had failed, the ratio of passed and failed students would have been 2 : 1, then the total number of students was-
eng hin किसी परीक्षा में उत्तीर्ण होने वाले विद्यार्थियों की संख्या अनुत्तीर्ण होने वाले विद्यार्थियों की संख्या का चार गुना थी। यदि सम्मिलित होने वाले विद्यार्थी 35 कम होते और 9 अधिक अनुत्तीर्ण हो जाते तो उत्तीर्ण और अनुत्तीर्ण विद्यार्थियों के बीच अनुपात 2 : 1 होता। विद्यार्थियों की कुल संख्या थी-

01. 135

02. 155
03. 145

04. 150
05. None of these

इनमें से कोई नहीं

Solution for Question 69 Ans Key: 2

eng/eng	Let the number of failed and passed students be x and 4x respectively. So total number of students was 5x. If total number of students be 5x-35. $\frac{4x - 35 - 9}{x - 9} = \frac{2}{1}$ $4x - 44 = 2(x + 9), 4x - 2x = 18 + 44, x = 31$ Total number = 31×5 = 155 माना अनुत्तीर्ण व उत्तीर्ण होने वाले विद्यार्थियों की संख्या क्रमशः x और 4x थी। अतः कुल विद्यार्थियों की संख्या 5x थी। यदि विद्यार्थियों की कुल संख्या 5x-35 हो तो $\frac{4x - 35 - 9}{x - 9} = \frac{2}{1}$
----------------	--

$$4x - 44 = 2(x + 9), 4x - 2x = 18 + 44$$

$$x = 31, \text{ कुल संख्या} = 31 \times 5 = 155$$

Let the number of failed and passed students be x and $4x$ respectively. So total number of students was $5x$.
If total number of students be $5x - 35$.

$$\frac{4x - 35 - 9}{x - 9} = \frac{2}{1}$$

$$4x - 44 = 2(x + 9), 4x - 2x = 18 + 44, x = 31$$

$$\text{Total number} = 31 \times 5$$

$$= 155$$

माना अनुत्तीर्ण व उत्तीर्ण होने वाले विद्यार्थियों की संख्या क्रमशः x और $4x$ थी। अतः कुल विद्यार्थियों की संख्या $5x$ थी। यदि विद्यार्थियों की कुल संख्या $5x - 35$ हो तो

$$\frac{4x - 35 - 9}{x - 9} = \frac{2}{1}$$

$$4x - 44 = 2(x + 9), 4x - 2x = 18 + 44$$

$$x = 31, \text{ कुल संख्या} = 31 \times 5 = 155$$

Passage for Question 70, 71, 72, 73 (RRBPOMAINSDEMO(30-33M)2020)

eng/eng Passage

Read the following information carefully to answer the questions asked-

पूछे गए प्रश्नों का उत्तर देने के लिए दी गयी जानकारी का ध्यानपूर्वक अध्ययन कीजिये-

Interest rate of five different banks is given in table below.

Bank	Interest rate on recurring deposit (SI)	Interest rate on fixed deposit (CI)
UCO Bank	7.50%	8%
SBI	5.50%	6.67%
PNB	8%	9%
Axis	9.50%	10%
ICICI	10.50%	12.50%

निम्नलिखित चार्ट पाँच विभिन्न बैंकों के ब्याजदर के बारे में जानकारी प्रदान करता है।

बैंक	आवर्ती जमा ब्याज दर (साधारण ब्याज)	सावधि जमा ब्याज दर (चक्रवृद्धि ब्याज)
UCO बैंक	7.50%	8%
SBI	5.50%	6.67%
PNB	8%	9%
Axis	9.50%	10%
ICICI	10.50%	12.50%

eng hin Passage

Read the following information carefully to answer the questions asked-

पूछे गए प्रश्नों का उत्तर देने के लिए दी गयी जानकारी का ध्यानपूर्वक अध्ययन कीजिये-

Interest rate of five different banks is given in table below.

Bank	Interest rate on recurring deposit (SI)	Interest rate on fixed deposit (CI)
UCO Bank	7.50%	8%
SBI	5.50%	6.67%
PNB	8%	9%
Axis	9.50%	10%
ICICI	10.50%	12.50%

निम्नलिखित चार्ट पाँच विभिन्न बैंकों के ब्याजदर के बारे में जानकारी प्रदान करता है।

बैंक	आवृत्ति जमा ब्याज दर (साधारण ब्याज)	सावधि जमा ब्याज दर (चक्रवृद्धि ब्याज)
UCO बैंक	7.50%	8%
SBI	5.50%	6.67%
PNB	8%	9%
Axis	9.50%	10%
ICICI	10.50%	12.50%

Q-70 If Pooja invest Rs 1800 each month in her recurring account which is in PNB bank then find what amount she will get after 6 months from now?
eng/eng यदि पूजा अपने आवृत्ति खाते में हर महीने 1800 रुपये का निवेश करती है जो कि PNB बैंक में है तो उसे 6 महीनों के बाद कितना धन मिलेगा?

- 01.** 12032 Rs
12032 रु.
- 02.** 11052 Rs
11052 रु.
- 03.** 11075 Rs
11075 रु.
- 04.** 12840 Rs
12840 रु.
- 05.** None of these
इनमें से कोई नहीं

Q-70 If Pooja invest Rs 1800 each month in her recurring account which is in PNB bank then find what amount she will get after 6 months from now?
eng/hin यदि पूजा अपने आवृत्ति खाते में हर महीने 1800 रुपये का निवेश करती है जो कि PNB बैंक में है तो उसे 6 महीनों के बाद कितना धन मिलेगा?

- 01.** 12032 Rs
12032 रु.
- 02.** 11052 Rs
11052 रु.
- 03.** 11075 Rs
11075 रु.
- 04.** 12840 Rs
12840 रु.
- 05.** None of these
इनमें से कोई नहीं

Solution for Question 70 Ans Key: 2

eng/eng

$$SI = 1800 \times 8 \times \frac{21}{12} \times \frac{1}{100} = 252$$

$$A = 1800 \times 6 + 252 = 11052$$
 21 came from 1+2+3+4+5+6
 21 यहाँ से आया (1+2+3+4+5+6)

eng/hin

$$SI = 1800 \times 8 \times \frac{21}{12} \times \frac{1}{100} = 252$$

$$A = 1800 \times 6 + 252 = 11052$$
 21 came from 1+2+3+4+5+6
 21 यहाँ से आया (1+2+3+4+5+6)

Q-71 Mr. Ashish has deposited Rs.128000 Rs in fixed deposit scheme of ICICI bank. Find what extra he will get after 4 years?
eng/eng मिस्टर आशीष ने ICICI बैंक की सावधि जमा स्कीम में 128000 रु. का निवेश किया। 4 वर्ष पश्चात उन्हें कितना धन मिलेगा?

- 01.** 73911 Rs.
73911 रु.
- 02.** 75840.50 Rs.
75840.50 रु.
- 03.** 77031.25 Rs.
77031.25 रु.
- 04.** 79285.25 Rs.
79285.25 रु.
- 05.** None of these
इनमें से कोई नहीं

Q-71 Mr. Ashish has deposited Rs.128000 Rs in fixed deposit scheme of ICICI bank. Find what extra he will get after 4 years?
eng/hin मिस्टर आशीष ने ICICI बैंक की सावधि जमा स्कीम में 128000 रु. का निवेश किया। 4 वर्ष पश्चात उन्हें कितना धन मिलेगा?

- 01.** 73911 Rs.
73911 रु.
- 02.** 75840.50 Rs.
75840.50 रु.
- 03.** 77031.25 Rs.
77031.25 रु.
- 04.** 79285.25 Rs.
79285.25 रु.
- 05.** None of these

- 05.** Cannot be determined.
निर्धारित नहीं किया जा सकता

एक छात्रावास की क्षमता 100 छात्र की है और छात्रावास का व्यय कुछ भाग निश्चित है और कुछ भाग छात्रों की संख्या के साथ परिवर्तित होता है। औसत व्यय प्रति छात्र 700 ₹ है जब 25 छात्र हो और ₹ 600 है जब 50 छात्र होते हैं। छात्रावास जब पूरा भरा हो तो प्रति छात्र व्यय कितना होगा ?

- 05.** Cannot be determined.
निर्धारित नहीं किया जा सकता

Ans Key: 3

$$(5000 + 500 \times 100) \div 100 = 550$$
$$(5000 + 500 \times 100) \div 100 = 550$$

मोहिनी जाग्रति और वैभवी एक व्यापार को एक साथ प्रारंभ करती है और इनके निवेश का अनुपात 7/2 : 4/3 : 6/5 हैं। 4 माह के बाद मोहिनी अपना निवेश 50% से बढ़ा देती हैं। यदि वर्ष के अंत में इन्हें 43200 रु. का लाभ हुआ है तो वैभवी का लाभान्श ज्ञात कीजिये।

- 05.** 7200

मोहिनी जाग्रति और वैभवी एक व्यापार को एक साथ प्रारंभ करती है और इनके निवेश का अनुपात $7/2 : 4/3 : 6/5$ हैं। 4 माह के बाद मोहिनी अपना निवेश 50% से बड़ा देती हैं। यदि वर्ष के अंत में इन्हें 43200 रु. का लाभ हुआ है तो वैभवी का लाभान्श ज्ञात कीजिये।

- 05.** 7200

Ans Key: 5

4320

54

eng hin

$$\frac{7}{2} \times 4 + \frac{7}{2} \times 8 \times 1.5 : \frac{4}{3} \times 12 : \frac{6}{5} \times 12$$

$$35:10:9$$

$$\frac{43200}{54} \times 9 = 7200$$

Q-76 In the following questions, two equations Quantity I and Quantity II are given. You have to solve both the equations and give answer.
eng/eng निम्नलिखित प्रश्नों में, दो समीकरणों के मात्रा I और मात्रा II दिए गए हैं। आपको दोनों समीकरणों को हल करना है और प्रश्न का उत्तर देना है।

Their are two bags A and B, bag A contains 6 red balls and bag B contains 4 green balls . then find the probability of-

Quantity I: getting 2 red and 1 green ball

Quantity II: getting 1 red and 2 green ball

दो बैग A और B हैं, बैग ए में 6 लाल गेंद हैं और बैग बी में 4 हरी गेंद हैं। तब क्या प्रायिकता है की -

मात्रा I: 2 लाल और 1 हरी गेंद निकली जाये

मात्रा II: 2 हरी और 1 लाल गेंद निकली जाये

01. Quantity I > Quantity II
मात्रा I > मात्रा II

02. Quantity I ≥ Quantity II
मात्रा I ≥ मात्रा II

03. Quantity I < Quantity II
मात्रा I < मात्रा II

04. Quantity I ≤ Quantity II
मात्रा I ≤ मात्रा II

05. Quantity I = Quantity II or the relation
cannot be established
संबंध स्थापित नहीं किया जा सकता या मात्रा
I = मात्रा II

Q-76 In the following questions, two equations Quantity I and Quantity II are given. You have to solve both the equations and give answer.
eng/eng निम्नलिखित प्रश्नों में, दो समीकरणों के मात्रा I और मात्रा II दिए गए हैं। आपको दोनों समीकरणों को हल करना है और प्रश्न का उत्तर देना है।

Their are two bags A and B, bag A contains 6 red balls and bag B contains 4 green balls . then find the probability of-

Quantity I: getting 2 red and 1 green ball

Quantity II: getting 1 red and 2 green ball

दो बैग A और B हैं, बैग ए में 6 लाल गेंद हैं और बैग बी में 4 हरी गेंद हैं। तब क्या प्रायिकता है की -

मात्रा I: 2 लाल और 1 हरी गेंद निकली जाये

मात्रा II: 2 हरी और 1 लाल गेंद निकली जाये

01. Quantity I > Quantity II
मात्रा I > मात्रा II

02. Quantity I ≥ Quantity II
मात्रा I ≥ मात्रा II

03. Quantity I < Quantity II
मात्रा I < मात्रा II

04. Quantity I ≤ Quantity II
मात्रा I ≤ मात्रा II

05. Quantity I = Quantity II or the relation
cannot be established
संबंध स्थापित नहीं किया जा सकता या मात्रा
I = मात्रा II

Solution for Question 76

Ans Key: 3

eng/eng Quantity I: $\frac{1}{2} \left(\frac{2}{6} + \frac{1}{4} \right) = 7/24$

Quantity II: $\frac{1}{2} \left(\frac{1}{6} + \frac{2}{4} \right) = 1/3$

मात्रा I: $\frac{1}{2} \left(\frac{2}{6} + \frac{1}{4} \right) = 7/24$

मात्रा II: $\frac{1}{2} \left(\frac{1}{6} + \frac{2}{4} \right) = 1/3$

eng hin Quantity I: $\frac{1}{2} \left(\frac{2}{6} + \frac{1}{4} \right) = 7/24$

Quantity II: $\frac{1}{2} \left(\frac{1}{6} + \frac{2}{4} \right) = 1/3$

मात्रा I: $\frac{1}{2} \left(\frac{2}{6} + \frac{1}{4} \right) = 7/24$

मात्रा II: $\frac{1}{2} \left(\frac{1}{6} + \frac{2}{4} \right) = 1/3$

Q-77 There are two quantities provided in the following questions. You have to find out the values of the quantities and compare them according to the given codes as follows:-
eng/eng निम्नलिखित प्रश्नों में दो मात्राएँ दी गई हैं। आपको मात्राओं का मान निकालना है और दिए गए कोड के अनुसार उनकी तुलना इस प्रकार करनी होगी:-

Quantity I: Multiply 584 by second smallest odd prime number.

Quantity II: Akash learns 8 words daily, find in 1 year how many words will he learn?

मात्रा I:- 584 को दूसरी सबसे छोटी विषम अभाज्य संख्या से गुणा करें।

मात्रा II:- आकाश प्रतिदिन 8 शब्द सीखता है, ज्ञात कीजिये 1 वर्ष में वह कितने शब्द सीखेगा?

01. Quantity I > Quantity II

मात्रा I > मात्रा II

02. Quantity I \geq Quantity II

मात्रा I \geq मात्रा II

03. Quantity I < Quantity II

मात्रा I < मात्रा II

04. Quantity I \leq Quantity II

मात्रा I \leq मात्रा II

05. Quantity I = Quantity II or relationship can't be established

मात्रा I = मात्रा II या सम्बन्ध स्थापित नहीं किया जा सकता

Q-77
eng hin

There are two quantities provided in the following questions. You have to find out the values of the quantities and compare them according to the given codes as follows:-

निम्नलिखित प्रश्नों में दो मात्राएँ दी गई हैं। आपको मात्राओं का मान निकालना है और दिए गए कोड के अनुसार उनकी तुलना इस प्रकार करनी होगी:-

Quantity I: Multiply 584 by second smallest odd prime number.

Quantity II: Akash learns 8 words daily, find in 1 year how many words will he learn?

मात्रा I:- 584 को दूसरी सबसे छोटी विषम अभाज्य संख्या से गुणा करें।

मात्रा II:- आकाश प्रतिदिन 8 शब्द सीखता है, ज्ञात कीजिये 1 वर्ष में वह कितने शब्द सीखेगा?

01. Quantity I > Quantity II

मात्रा I > मात्रा II

02. Quantity I \geq Quantity II

मात्रा I \geq मात्रा II

03. Quantity I < Quantity II

मात्रा I < मात्रा II

04. Quantity I \leq Quantity II

मात्रा I \leq मात्रा II

05. Quantity I = Quantity II or relationship can't be established

मात्रा I = मात्रा II या सम्बन्ध स्थापित नहीं किया जा सकता

Solution for Question 77

Ans Key: 4

eng/eng

Quantity I:-

Second smallest odd number = 5

So $584 \times 5 = 2920$

Quantity II:-

Akash will learn in ordinary year = 2920

And Akash will learn in leap year = 2928

So Quantity I = Quantity II, and Quantity I \leq Quantity II

मात्रा I:-

दूसरी सबसे छोटी विषम संख्या = 5

अतः $584 \times 5 = 2920$

मात्रा II:-

आकाश एक साधारण वर्ष में सीखेगा = 2920

और आकाश एक लीप वर्ष में सीखेगा = 2928

अतः मात्रा I = मात्रा II, और मात्रा I \leq मात्रा II

eng hin

Quantity I:-

Second smallest odd number = 5

So $584 \times 5 = 2920$

Quantity II:-

Akash will learn in ordinary year = 2920

And Akash will learn in leap year = 2928

So Quantity I = Quantity II, and Quantity I \leq Quantity II

मात्रा I:-

दूसरी सबसे छोटी विषम संख्या = 5

अतः $584 \times 5 = 2920$

मात्रा II:-

आकाश एक साधारण वर्ष में सीखेगा = 2920

और आकाश एक लीप वर्ष में सीखेगा = 2928

अतः मात्रा I = मात्रा II, और मात्रा I \leq मात्रा II

Q-78

eng/eng

In the following questions, two equations Quantity I and Quantity II are given. You have to solve both the equations and give answer.

निम्नलिखित प्रश्नों में, दो समीकरणों के मात्रा I और मात्रा II दिए गए हैं। आपको दोनों समीकरणों को हल करना है और प्रश्न का उत्तर देना है।

Quantity I: The ratio of ages of two friends P and Q is 5:7 and the ratio of age of P before 4 year and the age of Q after 10 year is 1:2, then find the present age of P?

Quantity II: The ratio of age the present age of P and Q is 5:8 and the ratio of their ages will become 2:3 after 7 year, then find present age of P?

मात्रा I: दो मित्रों P और Q की आयु का अनुपात 5: 7 है, 4 वर्ष से पहले P की आयु और 10 वर्ष के बाद Q की आयु का अनुपात 1: 2 है, तो P की वर्तमान आयु ज्ञात कीजिए?

मात्रा II: P और Q की वर्तमान आयु का अनुपात 5: 8 है, उनकी आयु का अनुपात 7 वर्ष के बाद 2: 3 हो जाएगा, तो P की वर्तमान आयु ज्ञात कीजिए?

01. Quantity I > Quantity II

02. Quantity I \geq Quantity II

मात्रा I > मात्रा II

मात्रा I ≥ मात्रा II

03. Quantity I < Quantity II
मात्रा I < मात्रा II

04. Quantity I ≤ Quantity II
मात्रा I ≤ मात्रा II

05. Quantity I = Quantity II or the relation cannot be established
संबंध स्थापित नहीं किया जा सकता या मात्रा I = मात्रा II

Q-78
eng hin

In the following questions, two equations Quantity I and Quantity II are given. You have to solve both the equations and give answer.
निम्नलिखित प्रश्नों में, दो समीकरणों के मात्रा I और मात्रा II दिए गए हैं। आपको दोनों समीकरणों को हल करना है और प्रश्न का उत्तर देना है।

Quantity I: The ratio of ages of two friends P and Q is 5:7 and the ratio of age of P before 4 year and the age of Q after 10 year is 1:2, then find the present age of P?

Quantity II: The ratio of age the present age of P and Q is 5:8 and the ratio of their ages will become 2:3 after 7 year, then find present age of P?

मात्रा I: दो मित्रों P और Q की आयु का अनुपात 5: 7 है , 4 वर्ष से पहले P की आयु और 10 वर्ष के बाद Q की आयु का अनुपात 1: 2 है, तो P की वर्तमान आयु ज्ञात कीजिए?

मात्रा II: P और Q की वर्तमान आयु का अनुपात 5: 8 है , उनकी आयु का अनुपात 7 वर्ष के बाद 2: 3 हो जाएगा, तो P की वर्तमान आयु ज्ञात कीजिए?

01. Quantity I > Quantity II
मात्रा I > मात्रा II

02. Quantity I ≥ Quantity II
मात्रा I ≥ मात्रा II

03. Quantity I < Quantity II
मात्रा I < मात्रा II

04. Quantity I ≤ Quantity II
मात्रा I ≤ मात्रा II

05. Quantity I = Quantity II or the relation cannot be established
संबंध स्थापित नहीं किया जा सकता या मात्रा I = मात्रा II

Solution for Question 78

Ans Key: 3

eng/eng

Quantity I:

P : Q = 5:7

$$\frac{5x-4}{7x+10} = \frac{1}{2}$$

X=6

Age of P = 30

Age of Q=42

Quantity II:

P : Q

5 : 8

2 : 3

6 : 9

1 unit = 7

Present age of P = 5×7=35

मात्रा I:

P : Q = 5:7

P : Q = 5:7

$\frac{5x-4}{7x+10} = \frac{1}{2}$

X=6

P की आयु = 30

Q की आयु = 42

मात्रा II:

P : Q

5 : 8

2 : 3

6 : 9

1 इकाई = 7

P की वर्तमान आयु = 5×7=35

eng hin

Quantity I:

P : Q = 5:7

$$\frac{5x-4}{7x+10} = \frac{1}{2}$$

$$\frac{5x-4}{7x+10} = \frac{1}{2}$$

X=6

Age of P = 30

Age of Q=42

Quantity II:

P : Q

5	:	8
2	:	3
6	:	9

$\times 3$

1 unit = 7

Present age of P = $5 \times 7 = 35$

मात्रा I:

P : Q = 5 : 7

$$\frac{5x-4}{7x+10} = \frac{1}{2}$$

X = 6

P की आयु = 30

Q की आयु = 42

मात्रा II:

P	:	Q
5	:	8
2	:	3
6	:	9

$\times 3$

1 इकाई = 7

P की वर्तमान आयु = $5 \times 7 = 35$

Q-79
eng/eng

Find the correct relationship between the given quantities:

दी गई मात्राओं में सही संबंध ज्ञात कीजिये:

Quantity I: P takes 5 days more than Q to finish a work. If both together can do the same job in 6 days then find sum of time taken by both of them alone to do the same work.

Quantity II: A is $\frac{8}{13}$ th as efficient as B and takes 15 days more than B to finish a task. Then find the time taken by B alone to finish the same task.

मात्रा I: P किसी कार्य को पूरा करने में Q से 5 दिन अधिक लेता है। यदि दोनों मिलकर 6 दिनों में पूरा कर सकते हैं, तो समान कार्य को अकेले करने के लिए, दोनों द्वारा लिये गये समय का योग ज्ञात कीजिये।

मात्रा II: A की कार्य क्षमता B की कार्य क्षमता का $\frac{8}{13}$ है तथा वह एक कार्य को पूरा करने के लिए B से 15 दिन अधिक समय लेता है। तो समान कार्य को पूरा करने के लिए B द्वारा लिया गया समय ज्ञात कीजिये।

- | | |
|---|--|
| 01. Quantity II > Quantity I
मात्रा II > मात्रा I | 02. Quantity I \geq Quantity II
मात्रा I \geq मात्रा II |
| 03. Quantity I > Quantity II
मात्रा I > मात्रा II | 04. Quantity I \leq Quantity II
मात्रा I \leq मात्रा II |
| 05. Quantity I = Quantity II or the relation cannot be established
संबंध स्थापित नहीं किया जा सकता या मात्रा I = मात्रा II | |

Q-79
eng hin

Find the correct relationship between the given quantities:

दी गई मात्राओं में सही संबंध ज्ञात कीजिये:

Quantity I: P takes 5 days more than Q to finish a work. If both together can do the same job in 6 days then find sum of time taken by both of them alone to do the same work.

Quantity II: A is $\frac{8}{13}$ th as efficient as B and takes 15 days more than B to finish a task. Then find the time taken by B alone to finish the same task.

मात्रा I: P किसी कार्य को पूरा करने में Q से 5 दिन अधिक लेता है। यदि दोनों मिलकर 6 दिनों में पूरा कर सकते हैं, तो समान कार्य को अकेले करने के लिए, दोनों द्वारा लिये गये समय का योग ज्ञात कीजिये।

मात्रा II: A की कार्य क्षमता B की कार्य क्षमता का $\frac{8}{13}$ है तथा वह एक कार्य को पूरा करने के लिए B से 15 दिन अधिक समय लेता है। तो समान कार्य को पूरा करने के लिए B द्वारा लिया गया समय ज्ञात कीजिये।

- | | |
|---|--|
| 01. Quantity II > Quantity I
मात्रा II > मात्रा I | 02. Quantity I \geq Quantity II
मात्रा I \geq मात्रा II |
| 03. Quantity I > Quantity II
मात्रा I > मात्रा II | 04. Quantity I \leq Quantity II
मात्रा I \leq मात्रा II |
| 05. Quantity I = Quantity II or the relation cannot be established
संबंध स्थापित नहीं किया जा सकता या मात्रा I = मात्रा II | |

Solution for Question 79

Ans Key: 3

eng/eng

Quantity I:

Let Q takes x days

Then p will take (x + 5) days

On solving

$$x = 10 \text{ days}$$

$$P = 15 \text{ days, } Q = 10 \text{ days}$$

$$P + Q = 25 \text{ days}$$

Quantity II:

Let efficiency of B is 13

$$\text{Then, that of A} = 13 \times \frac{8}{13} = 8$$

$$\text{Efficiency of A: B} = 8:13$$

$$\text{Time of A: B} = 13:8$$

$$5 \text{ units} = 15 \text{ days}$$

$$1 \text{ unit} = 3 \text{ days}$$

$$\text{Time taken by B alone} = 8 \times 3 = 24 \text{ days}$$

Quantity I > Quantity II

मात्रा I:

मान लेते हैं की Q को x दिन लगते हैं

तो p को (x + 5) दिन लगेंगे

हल करने पर

$$x = 10 \text{ दिन}$$

$$P = 15 \text{ दिन, } Q = 10 \text{ दिन}$$

$$P + Q = 25 \text{ दिन}$$

मात्रा II:

मान लेते हैं की B की क्षमता 13 है

$$\text{तो, A की क्षमता} = 13 \times \frac{8}{13} = 8$$

$$\text{A: B की क्षमता} = 8:13$$

$$\text{A: B द्वारा लिया गया समय} = 13:8$$

$$5 \text{ इकाई} = 15 \text{ दिन}$$

$$1 \text{ इकाई} = 3 \text{ दिन}$$

$$\text{B द्वारा अकेले लिया गया समय} = 8 \times 3 = 24 \text{ दिन}$$

मात्रा I > मात्रा II

Quantity I:

Let Q takes x days

Then p will take (x + 5) days

On solving

$$x = 10 \text{ days}$$

$$P = 15 \text{ days, } Q = 10 \text{ days}$$

$$P + Q = 25 \text{ days}$$

Quantity II:

Let efficiency of B is 13

$$\text{Then, that of A} = 13 \times \frac{8}{13} = 8$$

$$\text{Efficiency of A: B} = 8:13$$

$$\text{Time of A: B} = 13:8$$

$$5 \text{ units} = 15 \text{ days}$$

$$1 \text{ unit} = 3 \text{ days}$$

$$\text{Time taken by B alone} = 8 \times 3 = 24 \text{ days}$$

Quantity I > Quantity II

मात्रा I:

मान लेते हैं की Q को x दिन लगते हैं

तो p को (x + 5) दिन लगेंगे

हल करने पर

$$x = 10 \text{ दिन}$$

$$P = 15 \text{ दिन, } Q = 10 \text{ दिन}$$

$$P + Q = 25 \text{ दिन}$$

मात्रा II:

मान लेते हैं की B की क्षमता 13 है

$$\text{तो, A की क्षमता} = 13 \times \frac{8}{13} = 8$$

$$\text{A: B की क्षमता} = 8:13$$

$$\text{A: B द्वारा लिया गया समय} = 13:8$$

$$5 \text{ इकाई} = 15 \text{ दिन}$$

$$1 \text{ इकाई} = 3 \text{ दिन}$$

$$\text{B द्वारा अकेले लिया गया समय} = 8 \times 3 = 24 \text{ दिन}$$

मात्रा I > मात्रा II

Find the correct relationship between the given quantities:
दी गई मात्राओं में सही संबंध ज्ञात कीजिये:

Quantity I: Vinay spent $37\frac{1}{2}\%$ of his salary on rent of his house, $\frac{7}{12}$ th of the remaining on food and education. If 18% of the remaining amount is Rs 675 then find his salary?

Quantity II: A certain sum was invested at SI for 3 years at rate of 5% per annum and the interest received is Rs 1920. Find 115% of the sum?

मात्रा I: विनय अपने घर के किराए पर अपने वेतन का $37\frac{1}{2}\%$, शेष का $\frac{7}{12}$ भोजन और शिक्षा पर खर्च करता है। यदि शेष राशि का 18%, 675 रु है, तो उसका वेतन ज्ञात कीजिये?

मात्रा II: एक निश्चित राशि प्रति वार्षिक 5% की दर पर 3 वर्ष के लिए साधारण ब्याज पर निवेश की जाती है तथा प्राप्त ब्याज 1920 रुपये है। राशि का 115% ज्ञात कीजिए?

- | | |
|---|--|
| 01. Quantity II > Quantity I
मात्रा II > मात्रा I | 02. Quantity I ≥ Quantity II
मात्रा I ≥ मात्रा II |
| 03. Quantity I > Quantity II
मात्रा I > मात्रा II | 04. Quantity I ≤ Quantity II
मात्रा I ≤ मात्रा II |
| 05. Quantity I = Quantity II or relationship cannot be established
मात्रा I = मात्रा II या कोई संबंध स्थापित नहीं किया जा सकता | |

Find the correct relationship between the given quantities:
दी गई मात्राओं में सही संबंध ज्ञात कीजिये:

Quantity I: Vinay spent $37\frac{1}{2}\%$ of his salary on rent of his house, $\frac{7}{12}$ th of the remaining on food and education. If 18% of the remaining amount is Rs 675 then find his salary?

Quantity II: A certain sum was invested at SI for 3 years at rate of 5% per annum and the interest received is Rs 1920. Find 115% of the sum?

मात्रा I: विनय अपने घर के किराए पर अपने वेतन का $37\frac{1}{2}\%$, शेष का $\frac{7}{12}$ भोजन और शिक्षा पर खर्च करता है। यदि शेष राशि का 18%, 675 रु है, तो उसका वेतन ज्ञात कीजिये?

मात्रा II: एक निश्चित राशि प्रति वार्षिक 5% की दर पर 3 वर्ष के लिए साधारण ब्याज पर निवेश की जाती है तथा प्राप्त ब्याज 1920 रुपये है। राशि का 115% ज्ञात कीजिए?

- | | |
|---|--|
| 01. Quantity II > Quantity I
मात्रा II > मात्रा I | 02. Quantity I ≥ Quantity II
मात्रा I ≥ मात्रा II |
| 03. Quantity I > Quantity II
मात्रा I > मात्रा II | 04. Quantity I ≤ Quantity II
मात्रा I ≤ मात्रा II |
| 05. Quantity I = Quantity II or relationship cannot be established
मात्रा I = मात्रा II या कोई संबंध स्थापित नहीं किया जा सकता | |

Solution for Question 80

Ans Key: 1

Quantity I

Let the salary be Rs 80x

$$\text{Remaining salary after rent} = 80x \times \frac{5}{8} = \text{Rs } 50x$$

Remaining salary after expenditure on food and education =

$$50x - 50x \times \frac{7}{12} = \text{Rs } \frac{250x}{12}$$

$$\frac{250x}{12} \times \frac{18}{100} = 675$$

$$x = 180$$

$$\text{Salary} = 180 \times 80 = \text{Rs } 14400$$

Quantity II

$$\text{Sum} = \frac{1920 \times 100}{5 \times 3} = \text{Rs } 12800$$

$$\text{Required amount} = 12800 \times \frac{115}{100} = \text{Rs } 14720$$

Quantity II > Quantity I

मात्रा I

मान लेते हैं कि वेतन 80x रुपये है

$$\text{किराया देने के बाद शेष वेतन} = 80x \times \frac{5}{8} = \text{Rs } 50x$$

$$\text{भोजन और शिक्षा पर खर्च करने के बाद शेष वेतन} = 50x - 50x \times \frac{7}{12} = \text{Rs } \frac{250x}{12}$$

$$\frac{250x}{12} \times \frac{18}{100} = 675$$

$$x = 180$$

$$\text{वेतन} = 180 \times 80 = 14400 \text{ रुपये}$$

मात्रा II

$$\text{योग} = \frac{1920 \times 100}{5 \times 3} = \text{Rs } 12800$$

$$\text{आवश्यक राशि} = 12800 \times \frac{115}{100} = \text{Rs } 14720$$

मात्रा II > मात्रा I

Quantity I

Let the salary be Rs 80x

$$\text{Remaining salary after rent} = 80x \times \frac{5}{8} = \text{Rs } 50x$$

Remaining salary after expenditure on food and education =

$$50x - 50x \times 7/12 = \text{Rs } \frac{250x}{12}$$

$$\frac{250x}{12} \times \frac{18}{100} = 675$$

$$x = 180$$

$$\text{Salary} = 180 \times 80 = \text{Rs } 14400$$

Quantity II

$$\text{Sum} = \frac{1920 \times 100}{5 \times 3} = \text{Rs } 12800$$

$$\text{Required amount} = 12800 \times \frac{115}{100} = \text{Rs } 14720$$

Quantity II > Quantity I

मात्रा I

मान लेते हैं कि वेतन 80x रुपये है

$$\text{किराया देने के बाद शेष वेतन} = 80x \times \frac{5}{8} = \text{Rs } 50x$$

$$\text{भोजन और शिक्षा पर खर्च करने के बाद शेष वेतन} = 50x - 50x \times 7/12 = \text{Rs } \frac{250x}{12}$$

$$\frac{250x}{12} \times \frac{18}{100} = 675$$

$$x = 180$$

$$\text{वेतन} = 180 \times 80 = 14400 \text{ रुपये}$$

मात्रा II

$$\text{योग} = \frac{1920 \times 100}{5 \times 3} = \text{Rs } 12800$$

$$\text{आवश्यक राशि} = 12800 \times \frac{115}{100} = \text{Rs } 14720$$

मात्रा II > मात्रा I

Q-81 Aadhar Payment App has been developed by -

आधार भुगतान ऐप किसके द्वारा विकसित किया गया है -

- | | |
|---|---|
| 01. National Payment Corporation of India / भारत का राष्ट्रीय भुगतान निगम | 02. Unique Identification Authority of India / भारतीय विशिष्ट पहचान |
| 03. IDFC Bank / आईडीएफसी बैंक | 04. All of the above / ऊपर के सभी |
| 05. None of these / इनमें से कोई नहीं | |

Q-81 Aadhar Payment App has been developed by -

आधार भुगतान ऐप किसके द्वारा विकसित किया गया है -

- | | |
|---|---|
| 01. National Payment Corporation of India / भारत का राष्ट्रीय भुगतान निगम | 02. Unique Identification Authority of India / भारतीय विशिष्ट पहचान |
| 03. IDFC Bank / आईडीएफसी बैंक | 04. All of the above / ऊपर के सभी |
| 05. None of these / इनमें से कोई नहीं | |

Solution for Question 81

Ans Key: 4

The Aadhaar Payment app has been launched to use individual's Aadhaar card details and their linked bank account details along with biometric scans to authenticate transactions.

The app has been developed by IDFC Bank along with UIDAI and National Payments Corporation of India.

लेनदेन को प्रमाणित करने के लिए बायोमेट्रिक स्कैन के साथ व्यक्तिगत आधार कार्ड विवरण और उनके लिंक किए गए बैंक खाते के विवरण का उपयोग करने के लिए आधार भुगतान ऐप लॉन्च किया गया है।
ऐप को आईडीएफसी बैंक द्वारा यूआईडीएआई और नेशनल पेमेंट्स कॉरपोरेशन ऑफ इंडिया के साथ मिलकर विकसित किया गया है।

eng hin	<p>The Aadhaar Payment app has been launched to use individual's Aadhaar card details and their linked bank account details along with biometric scans to authenticate transactions.</p> <p>The app has been developed by IDFC Bank along with UIDAI and National Payments Corporation of India.</p> <p>लेनदेन को प्रमाणित करने के लिए बायोमेट्रिक स्कैन के साथ व्यक्तिगत आधार कार्ड विवरण और उनके लिंक किए गए बैंक खाते के विवरण का उपयोग करने के लिए आधार भुगतान ऐप लॉन्च किया गया है।</p> <p>ऐप को आईडीएफसी बैंक द्वारा यूआईडीएआई और नेशनल पेमेंट्स कॉरपोरेशन ऑफ इंडिया के साथ मिलकर विकसित किया गया है।</p>
----------------	---

Q-82 Ashwani Bhatia has been appointed as the new Managing Director of which bank?

eng/eng

अश्वनी भाटिया किस बैंक का नया प्रबंध निदेशक बनाया गया है?

- | | |
|--|--|
| 01. ICICI Bank / आईसीआईसीआई बैंक | 02. State Bank of India / भारतीय स्टेट बैंक |
| 03. HDFC Bank / एचडीएफसी बैंक | 04. Punjab National Bank / पंजाब नेशनल बैंक |
| 05. Bank of Baroda / बैंक ऑफ बड़ौदा | |

Q-82 Ashwani Bhatia has been appointed as the new Managing Director of which bank?

eng hin

अश्वनी भाटिया किस बैंक का नया प्रबंध निदेशक बनाया गया है?

- | | |
|--|--|
| 01. ICICI Bank / आईसीआईसीआई बैंक | 02. State Bank of India / भारतीय स्टेट बैंक |
| 03. HDFC Bank / एचडीएफसी बैंक | 04. Punjab National Bank / पंजाब नेशनल बैंक |
| 05. Bank of Baroda / बैंक ऑफ बड़ौदा | |

Solution for Question 82

Ans Key: 2

eng/eng	<p>The government on Friday appointed Ashwani Bhatia as the managing director of lender State Bank of India. In an order from the Personnel Ministry late Friday, the government said Bhatia has been appointed as the managing director up to the date of his superannuation, that is May 31, 2022.</p> <p>सरकार ने शुक्रवार को भारतीय स्टेट बैंक के प्रबंध निदेशक के रूप में अश्वनी भाटिया को नियुक्त किया। शुक्रवार देर रात कार्मिक मंत्रालय के एक आदेश में, सरकार ने कहा कि भाटिया को उनकी सेवानिवृत्ति की तारीख तक प्रबंध निदेशक के रूप में नियुक्त किया गया है, जो कि 31 मई 2022 है।</p>
----------------	--

eng hin	<p>The government on Friday appointed Ashwani Bhatia as the managing director of lender State Bank of India. In an order from the Personnel Ministry late Friday, the government said Bhatia has been appointed as the managing director up to the date of his superannuation, that is May 31, 2022.</p> <p>सरकार ने शुक्रवार को भारतीय स्टेट बैंक के प्रबंध निदेशक के रूप में अश्वनी भाटिया को नियुक्त किया। शुक्रवार देर रात कार्मिक मंत्रालय के एक आदेश में, सरकार ने कहा कि भाटिया को उनकी सेवानिवृत्ति की तारीख तक प्रबंध निदेशक के रूप में नियुक्त किया गया है, जो कि 31 मई 2022 है।</p>
----------------	--

Q-83 Current Banking Ombudsman Scheme was introduced in....

eng/eng

वर्तमान बैंकिंग लोकपाल योजना शुरू की गई थी...

- | | |
|-----------------|-----------------|
| 01. 2002 | 02. 2003 |
| 03. 2005 | 04. 2006 |
| 05. 2008 | |

Q-83 Current Banking Ombudsman Scheme was introduced in....

eng hin

वर्तमान बैंकिंग लोकपाल योजना शुरू की गई थी...

- | | |
|-----------------|-----------------|
| 01. 2002 | 02. 2003 |
| 03. 2005 | 04. 2006 |
| 05. 2008 | |

Solution for Question 83

Ans Key: 4

eng/eng	<p>Current Banking Ombudsman Scheme introduced in 2006.</p> <p>2006 में चालू बैंकिंग लोकपाल योजना।</p>
eng hin	<p>Current Banking Ombudsman Scheme introduced in 2006.</p> <p>2006 में चालू बैंकिंग लोकपाल योजना।</p>

Q-84 Govt. suspends FCRA clearance of four Christian groups for various reasons .Expand FCRA?

eng/eng

हाल ही में, सरकार द्वारा विभिन्न कारणों से चार ईसाई समूहों के लिए FCRA अनुमति को निलंबित कर दिया गया है।FCRA का विस्तार करें?

- | | |
|---|---|
| 01. Foreigner Contribution Regulating Act / विदेशी योगदानकर्ता विनियमन अधिनियम | 02. Foreign Country Regulation Act / विदेशी कंट्री रेगुलेशन एक्ट |
|---|---|

03. Foreign Contribution Refund Act / विदेशी अंशदान वापसी अधिनियम 04. Fast Contribution Regulation Act / फास्ट कंट्रीब्यूशन रेगुलेशन एक्ट

05. Foreign Contribution Regulation Act / विदेशी अंशदान विनियमन अधिनियम

Q-84 Govt. suspends FCRA clearance of four Christian groups for various reasons .Expand FCRA?

eng hin

हाल ही में, सरकार द्वारा विभिन्न कारणों से चार ईसाई समूहों के लिए FCRA अनुमति को निलंबित कर दिया गया है।FCRA का विस्तार करें?

01. Foreigner Contribution Regulating Act / विदेशी योगदानकर्ता विनियमन अधिनियम

02. Foreign Country Regulation Act / विदेशी कंट्री रेगुलेशन एक्ट

03. Foreign Contribution Refund Act / विदेशी अंशदान वापसी अधिनियम

04. Fast Contribution Regulation Act / फास्ट कंट्रीब्यूशन रेगुलेशन एक्ट

05. Foreign Contribution Regulation Act / विदेशी अंशदान विनियमन अधिनियम

Solution for Question 84

Ans Key: 5

eng/eng

It is mandatory to have FCRA (Foreign Contribution Regulation Act) clearance from the Home Ministry for any organisation to receive foreign funds. Foreign funding of voluntary organizations in India is regulated under FCRA act and is implemented by the Ministry of Home Affairs.

विदेशी धन प्राप्त करने के लिए किसी भी संगठन के लिए गृह मंत्रालय से एफसीआरए (विदेशी अंशदान विनियमन अधिनियम) मंजूरी होना अनिवार्य है। भारत में स्वैच्छिक संगठनों के विदेशी धन को एफसीआरए अधिनियम के तहत विनियमित किया जाता है और इसे गृह मंत्रालय द्वारा कार्यान्वित किया जाता है।

eng hin

It is mandatory to have FCRA (Foreign Contribution Regulation Act) clearance from the Home Ministry for any organisation to receive foreign funds. Foreign funding of voluntary organizations in India is regulated under FCRA act and is implemented by the Ministry of Home Affairs.

विदेशी धन प्राप्त करने के लिए किसी भी संगठन के लिए गृह मंत्रालय से एफसीआरए (विदेशी अंशदान विनियमन अधिनियम) मंजूरी होना अनिवार्य है। भारत में स्वैच्छिक संगठनों के विदेशी धन को एफसीआरए अधिनियम के तहत विनियमित किया जाता है और इसे गृह मंत्रालय द्वारा कार्यान्वित किया जाता है।

Q-85

eng/eng

How many banks were Nationalised in 1969 under the Banking Companies (Acquisition and Transfer of Undertakings) Ordinance, 1969?

1969 में बैंकिंग कंपनियों (उपक्रमों का अधिग्रहण और हस्तांतरण) अध्यादेश, 1969 के तहत कितने बैंकों का राष्ट्रीयकरण किया गया था?

01. 6

02. 12

03. 13

04. 14

05. 7

Q-85

eng hin

How many banks were Nationalised in 1969 under the Banking Companies (Acquisition and Transfer of Undertakings) Ordinance, 1969?

1969 में बैंकिंग कंपनियों (उपक्रमों का अधिग्रहण और हस्तांतरण) अध्यादेश, 1969 के तहत कितने बैंकों का राष्ट्रीयकरण किया गया था?

01. 6

02. 12

03. 13

04. 14

05. 7

Solution for Question 85

Ans Key: 4

eng/eng

The Government of India issued the Banking Companies (Acquisition and Transfer of Undertakings) Ordinance, 1969 and nationalised the 14 largest commercial banks namely Punjab National Bank, Allahabad Bank and others.

भारत सरकार ने बैंकिंग कंपनियों (उपक्रमों का अधिग्रहण और हस्तांतरण) अध्यादेश, 1969 जारी किया और 14 सबसे बड़े वाणिज्यिक बैंकों का नामकरण किया, जैसे पंजाब नेशनल बैंक, इलाहाबाद बैंक और अन्य।

eng hin

The Government of India issued the Banking Companies (Acquisition and Transfer of Undertakings) Ordinance, 1969 and nationalised the 14 largest commercial banks namely Punjab National Bank, Allahabad Bank and others.

भारत सरकार ने बैंकिंग कंपनियों (उपक्रमों का अधिग्रहण और हस्तांतरण) अध्यादेश, 1969 जारी किया और 14 सबसे बड़े वाणिज्यिक बैंकों का नामकरण किया, जैसे पंजाब नेशनल बैंक, इलाहाबाद बैंक और अन्य।

Q-86

eng/eng

Hubballi Railway Station will now be known as "Shree Siddharoodha Swamiji Railway Station Hubballi", it is located at which railway zone?

हुबली रेलवे स्टेशन को अब 'श्री सिद्धारोडा स्वामी रेलवे स्टेशन हुबली' के नाम से जाना जाएगा, यह किस रेलवे जोन में स्थित है?

01. North Western Railway zone / उत्तर पश्चिम रेलवे क्षेत्र 02. South Eastern Railway zone / दक्षिण पूर्व रेलवे जोन

03. South Western Railway zone / दक्षिण पश्चिम रेलवे जोन 04. Western Railway zone/ पश्चिम रेलवे क्षेत्र

05. Northern Railway zone / उत्तर रेलवे जोन

Q-86

eng hin

Hubballi Railway Station will now be known as "Shree Siddharoodha Swamiji Railway Station Hubballi", it is located at which railway zone?

हुबली रेलवे स्टेशन को अब 'श्री सिद्धारोडा स्वामी रेलवे स्टेशन हुबली' के नाम से जाना जाएगा, यह किस रेलवे जोन में स्थित है?

01. North Western Railway zone / उत्तर पश्चिम रेलवे क्षेत्र
02. South Eastern Railway zone / दक्षिण पूर्व रेलवे ज़ोन
03. South Western Railway zone / दक्षिण पश्चिम रेलवे ज़ोन
04. Western Railway zone/ पश्चिम रेलवे क्षेत्र
05. Northern Railway zone / उत्तर रेलवे ज़ोन

Solution for Question 86

Ans Key: 3

eng/eng	Hubballi Railway Station will now be known as "Shree Siddharoodha Swamiji Railway Station Hubballi." हुबली रेलवे स्टेशन अब " श्री सिद्धरूधास्वामी रेलवे स्टेशन हुबली " के नाम से जाना जाएगा।
eng hin	Hubballi Railway Station will now be known as "Shree Siddharoodha Swamiji Railway Station Hubballi." हुबली रेलवे स्टेशन अब " श्री सिद्धरूधास्वामी रेलवे स्टेशन हुबली " के नाम से जाना जाएगा।

Q-87 In how many districts NREGA was launched initially?

eng/eng नरेगा शुरू में कितने जिलों में शुरू किया गया था?

01. 50 districts/जिले
02. 100 districts/जिले
03. 150 districts/जिले
04. 200 districts/जिले
05. None of these/इनमें से कोई नहीं

Q-87 In how many districts NREGA was launched initially?

eng hin नरेगा शुरू में कितने जिलों में शुरू किया गया था?

01. 50 districts/जिले
02. 100 districts/जिले
03. 150 districts/जिले
04. 200 districts/जिले
05. None of these/इनमें से कोई नहीं

Solution for Question 87

Ans Key: 4

eng/eng	Mahatma Gandhi Employment Guarantee Act 2005, It is an Indian Labour law and social security measure that aims to guarantee the 'right to work'. महात्मा गांधी रोजगार गारंटी अधिनियम 2005, यह एक भारतीय श्रम कानून और सामाजिक सुरक्षा उपाय है जिसका उद्देश्य 'काम के अधिकार' की गारंटी देना है।
eng hin	Mahatma Gandhi Employment Guarantee Act 2005, It is an Indian Labour law and social security measure that aims to guarantee the 'right to work'. महात्मा गांधी रोजगार गारंटी अधिनियम 2005, यह एक भारतीय श्रम कानून और सामाजिक सुरक्षा उपाय है जिसका उद्देश्य 'काम के अधिकार' की गारंटी देना है।

Q-88 In which kind of 'crossing of cheques', the payment can be made through bank account only?

eng/eng किस तरह के चेक का भुगतान केवल बैंक खाते के माध्यम से किया जा सकता है?

01. General Crossing/जनरल क्रॉसिंग
02. Special Crossing/विशेष क्रॉसिंग
03. Restrictive Crossing/प्रतिबंधात्मक क्रॉसिंग
04. Double Crossing/दोहरी क्रॉसिंग
05. None of these/कोई नहीं

Q-88 In which kind of 'crossing of cheques', the payment can be made through bank account only?

eng hin किस तरह के चेक का भुगतान केवल बैंक खाते के माध्यम से किया जा सकता है?

01. General Crossing/जनरल क्रॉसिंग
02. Special Crossing/विशेष क्रॉसिंग
03. Restrictive Crossing/प्रतिबंधात्मक क्रॉसिंग
04. Double Crossing/दोहरी क्रॉसिंग
05. None of these/कोई नहीं

Solution for Question 88

Ans Key: 1

eng/eng	A cheque is a negotiable instrument. Types of Cheque Crossing (Sections 123-131 A): General Crossing – has two parallel transverse lines. Special Crossing – has two parallel transverse lines with bankers name. Restrictive Crossing – It directs that amount of cheque be paid only to the account of the payee. Non-Negotiable Crossing – has two parallel transverse lines with Not Negotiable written on it. एक चेक एक परक्राम्य लिखत है। चेक क्रॉसिंग के प्रकार (धारा 123-131 ए): सामान्य क्रॉसिंग - दो समानांतर अनुप्रस्थ रेखाएं हैं। विशेष क्रॉसिंग - बैंकों के नाम के साथ दो समानांतर अनुप्रस्थ रेखाएं हैं। प्रतिबंधात्मक क्रॉसिंग - यह निर्देश देता है कि चेक की राशि का भुगतान केवल भुगतानकर्ता के खाते में किया जाए। गैर-परक्राम्य क्रॉसिंग - इसमें दो समानांतर अनुप्रस्थ रेखाएं होती हैं, जिन पर गैर-परक्राम्य लिखा होता है।
eng hin	A cheque is a negotiable instrument.

Types of Cheque Crossing (Sections 123-131 A):

General Crossing – has two parallel transverse lines.

Special Crossing – has two parallel transverse lines with bankers name.

Restrictive Crossing – It directs that amount of cheque be paid only to the account of the payee.

Non-Negotiable Crossing – has two parallel transverse lines with Not Negotiable written on it.

एक चेक एक परक्राम्य लिखत है।

चेक क्रॉसिंग के प्रकार (धारा 123-131 ए):

सामान्य क्रॉसिंग - दो समानांतर अनुप्रस्थ रेखाएं हैं।

विशेष क्रॉसिंग - बैंकों के नाम के साथ दो समानांतर अनुप्रस्थ रेखाएं हैं।

प्रतिबंधात्मक क्रॉसिंग - यह निर्देश देता है कि चेक की राशि का भुगतान केवल भुगतानकर्ता के खाते में किया जाए।

गैर-परक्राम्य क्रॉसिंग - इसमें दो समानांतर अनुप्रस्थ रेखाएं होती हैं, जिन पर गैर-परक्राम्य लिखा होता है।

Q-89 In which of the states is the India's longest river ropeway being inaugurated in August 2020?

eng/eng अगस्त 2020 में भारत के सबसे लंबे नदी रोपवे का उद्घाटन किस राज्य में किया जा रहा है?

- | | |
|---|------------------------------|
| 01. Assam / असम | 02. West Bengal/पश्चिम बंगाल |
| 03. Jharkhand/झारखंड | 04. Nagaland / नगालैंड |
| 05. None of above / इनमें से कोई भी नहीं। | |

Q-89 In which of the states is the India's longest river ropeway being inaugurated in August 2020?

eng hin अगस्त 2020 में भारत के सबसे लंबे नदी रोपवे का उद्घाटन किस राज्य में किया जा रहा है?

- | | |
|---|------------------------------|
| 01. Assam / असम | 02. West Bengal/पश्चिम बंगाल |
| 03. Jharkhand/झारखंड | 04. Nagaland / नगालैंड |
| 05. None of above / इनमें से कोई भी नहीं। | |

Solution for Question 89

Ans Key: 1

eng/eng The 1.8- kilometre long ropeway service connecting Guwahati and North Guwahati. The ropeway has been operated from Kachari Ghat in Guwahati to Dol Govinda temple in North Guwahati.
गुवाहाटी और उत्तरी गुवाहाटी को जोड़ने वाली 1.8 किलोमीटर लंबी रोपवे सेवा। गुवाहाटी में कचहरी घाट से उत्तरी गुवाहाटी में डोल गोविंदा मंदिर तक रोपवे संचालित किया गया है।

eng hin The 1.8- kilometre long ropeway service connecting Guwahati and North Guwahati. The ropeway has been operated from Kachari Ghat in Guwahati to Dol Govinda temple in North Guwahati.
गुवाहाटी और उत्तरी गुवाहाटी को जोड़ने वाली 1.8 किलोमीटर लंबी रोपवे सेवा। गुवाहाटी में कचहरी घाट से उत्तरी गुवाहाटी में डोल गोविंदा मंदिर तक रोपवे संचालित किया गया है।

Q-90 MICR code is a 9 digit code, in which middle 3 digit represents _____.

eng/eng MICR कोड एक नौ अंकीय कोड है जिसमें बीच के तीन अक्षर _____ का प्रतिनिधित्व करते हैं।

- | | |
|---------------------------------------|--------------------------|
| 01. City code / शहर कोड | 02. Bank code / बैंक कोड |
| 03. Branch code / शाखा कोड | 04. Pin code / पिन कोड |
| 05. None of these / इनमें से कोई नहीं | |

Q-90 MICR code is a 9 digit code, in which middle 3 digit represents _____.

eng hin MICR कोड एक नौ अंकीय कोड है जिसमें बीच के तीन अक्षर _____ का प्रतिनिधित्व करते हैं।

- | | |
|---------------------------------------|--------------------------|
| 01. City code / शहर कोड | 02. Bank code / बैंक कोड |
| 03. Branch code / शाखा कोड | 04. Pin code / पिन कोड |
| 05. None of these / इनमें से कोई नहीं | |

Solution for Question 90

Ans Key: 2

eng/eng Indian Financial System Code is an 11-digit alpha-numeric code used to uniquely identify bank branches within the National Electronic Funds Transfer (NEFT) network by central bank.
भारतीय वित्तीय प्रणाली कोड एक 11-अंकीय अल्फा-न्यूमेरिक कोड है जिसका उपयोग केंद्रीय बैंक द्वारा राष्ट्रीय इलेक्ट्रॉनिक फंड ट्रांसफर (NEFT) नेटवर्क के भीतर बैंक शाखाओं की विशिष्ट पहचान के लिए किया जाता है।

eng hin Indian Financial System Code is an 11-digit alpha-numeric code used to uniquely identify bank branches within the National Electronic Funds Transfer (NEFT) network by central bank.
भारतीय वित्तीय प्रणाली कोड एक 11-अंकीय अल्फा-न्यूमेरिक कोड है जिसका उपयोग केंद्रीय बैंक द्वारा राष्ट्रीय इलेक्ट्रॉनिक फंड ट्रांसफर (NEFT) नेटवर्क के भीतर बैंक शाखाओं की विशिष्ट पहचान के लिए किया जाता है।

Q-91 Name the country which discovered the large natural gas reserve off Black Sea?

eng/eng उस देश का नाम बताइए जिसने ब्लैक सी से बड़े प्राकृतिक गैस रिजर्व की खोज की ?

01. Turkey / तुर्की

03. Ukraine / यूक्रेन

05. Bulgaria / बुल्गारिया
02. Russia / रूस

04. Georgia / जॉर्जिया

Q-91 Name the country which discovered the large natural gas reserve off Black Sea?

eng hin उस देश का नाम बताइए जिसने ब्लैक सी से बड़े प्राकृतिक गैस रिजर्व की खोज की ?

01. Turkey / तुर्की

03. Ukraine / यूक्रेन

05. Bulgaria / बुल्गारिया
02. Russia / रूस

04. Georgia / जॉर्जिया

Solution for Question 91 Ans Key: 1

eng/eng Recently, Turkey has found its biggest ever (a 320 billion cubic metre) natural gas field discovery in Black Sea. The gas field will become functional in 2023. Turkey is determined to become a net energy exporter. The discovery has a potential to transform Turkey’s dependence on Russia, Iran and Azerbaijan for energy imports. At present Turkey is having a chronic current account deficit, any reduction in Turkey’s energy import bill would boost its finances. It will also help the Lira (Currency of Turkey) to recover against the dollar.
हाल ही में, तुर्की ने काला सागर में अपनी सबसे बड़ी (320 बिलियन क्यूबिक मीटर) प्राकृतिक गैस क्षेत्र खोज की है। गैस क्षेत्र 2023 में कार्यात्मक हो जाएगा। तुर्की एक शुद्ध ऊर्जा निर्यातक बनने के लिए निर्धारित है। इस खोज में ऊर्जा आयात के लिए रूस, ईरान और अज़रबैजान पर तुर्की की निर्भरता को बदलने की क्षमता है। वर्तमान में तुर्की को एक पुराना चालू खाता घाटा हो रहा है, तुर्की के ऊर्जा आयात बिल में किसी भी कमी से उसके वित्त को बढ़ावा मिलेगा। यह डॉलर के मुकाबले लीरा (तुर्की की मुद्रा) को उबरने में भी मदद करेगा।

eng hin Recently, Turkey has found its biggest ever (a 320 billion cubic metre) natural gas field discovery in Black Sea. The gas field will become functional in 2023. Turkey is determined to become a net energy exporter. The discovery has a potential to transform Turkey’s dependence on Russia, Iran and Azerbaijan for energy imports. At present Turkey is having a chronic current account deficit, any reduction in Turkey’s energy import bill would boost its finances. It will also help the Lira (Currency of Turkey) to recover against the dollar.
हाल ही में, तुर्की ने काला सागर में अपनी सबसे बड़ी (320 बिलियन क्यूबिक मीटर) प्राकृतिक गैस क्षेत्र खोज की है। गैस क्षेत्र 2023 में कार्यात्मक हो जाएगा। तुर्की एक शुद्ध ऊर्जा निर्यातक बनने के लिए निर्धारित है। इस खोज में ऊर्जा आयात के लिए रूस, ईरान और अज़रबैजान पर तुर्की की निर्भरता को बदलने की क्षमता है। वर्तमान में तुर्की को एक पुराना चालू खाता घाटा हो रहा है, तुर्की के ऊर्जा आयात बिल में किसी भी कमी से उसके वित्त को बढ़ावा मिलेगा। यह डॉलर के मुकाबले लीरा (तुर्की की मुद्रा) को उबरने में भी मदद करेगा।

Q-92 Nikkei 225 is a famous stock exchange of which of the following country?

eng/eng NIKKEI 225 निम्नलिखित में से किस देश का एक प्रसिद्ध स्टॉक एक्सचेंज है?

01. South Korea / दक्षिण कोरिया

03. Hong Kong / हॉंगकॉंग

05. USA / अमेरीका
02. Japan / जापान

04. China/ चीन

Q-92 Nikkei 225 is a famous stock exchange of which of the following country?

eng hin NIKKEI 225 निम्नलिखित में से किस देश का एक प्रसिद्ध स्टॉक एक्सचेंज है?

01. South Korea / दक्षिण कोरिया

03. Hong Kong / हॉंगकॉंग

05. USA / अमेरीका
02. Japan / जापान

04. China/ चीन

Solution for Question 92 Ans Key: 2

eng/eng निक्केई 225, जिसे आमतौर पर निक्केई, निक्केई सूचकांक या निक्केई स्टॉक एवरेज कहा जाता है, टोक्यो स्टॉक एक्सचेंज के लिए एक शेयर बाजार सूचकांक है। 1950 से इसकी गणना निहोन कीजई शिंबुन अखबार द्वारा दैनिक रूप से की जाती है।
The Nikkei 225, more commonly called the Nikkei, the Nikkei index, or the Nikkei Stock Average, is a stock market index for the Tokyo Stock Exchange. It has been calculated daily by the Nihon Keizai Shimbun newspaper since 1950.

eng hin निक्केई 225, जिसे आमतौर पर निक्केई, निक्केई सूचकांक या निक्केई स्टॉक एवरेज कहा जाता है, टोक्यो स्टॉक एक्सचेंज के लिए एक शेयर बाजार सूचकांक है। 1950 से इसकी गणना निहोन कीजई शिंबुन अखबार द्वारा दैनिक रूप से की जाती है।
The Nikkei 225, more commonly called the Nikkei, the Nikkei index, or the Nikkei Stock Average, is a stock market index for the Tokyo Stock Exchange. It has been calculated daily by the Nihon Keizai Shimbun newspaper since 1950.

Q-93 NSE is a famous stock exchange of which of the following country?

eng/eng एनएसई निम्नलिखित में से किस देश का एक प्रसिद्ध स्टॉक एक्सचेंज है?

01. South Korea / दक्षिण कोरिया

03. Japan / जापान
02. India / भारत

04. Hong Kong / हॉंगकॉंग

05. China / चीन
Q-93 NSE is a famous stock exchange of which of the following country?
eng hin एनएसई निम्नलिखित में से किस देश का एक प्रसिद्ध स्टॉक एक्सचेंज है?

01. South Korea / दक्षिण कोरिया
02. India / भारत
03. Japan / जापान
04. Hong Kong / हॉङकॉङ
05. China / चीन

Solution for Question 93		Ans Key: 1
eng/eng	National Stock Exchange of India Limited (NSE) is the leading stock exchange of India, located in Mumbai, Maharashtra. NSE was established in 1992 as the first dematerialized electronic exchange in the country. नेशनल स्टॉक एक्सचेंज ऑफ़ इंडिया लिमिटेड (NSE) भारत का प्रमुख स्टॉक एक्सचेंज है, जो मुंबई, महाराष्ट्र में स्थित है। NSE की स्थापना 1992 में देश में पहले डीमैटरियालाइज्ड इलेक्ट्रॉनिक एक्सचेंज के रूप में हुई थी।	
eng hin	National Stock Exchange of India Limited (NSE) is the leading stock exchange of India, located in Mumbai, Maharashtra. NSE was established in 1992 as the first dematerialized electronic exchange in the country. नेशनल स्टॉक एक्सचेंज ऑफ़ इंडिया लिमिटेड (NSE) भारत का प्रमुख स्टॉक एक्सचेंज है, जो मुंबई, महाराष्ट्र में स्थित है। NSE की स्थापना 1992 में देश में पहले डीमैटरियालाइज्ड इलेक्ट्रॉनिक एक्सचेंज के रूप में हुई थी।	

Q-94 P- Note (Participatory Note) in India are issued on the recommendation of....
eng/eng भारत में P- नोट (पार्टिसिपेटरी नोट) की सिफारिश पर जारी किए जाते हैं।....

01. SEBI / सेबी
02. SBI/स्टेट बैंक ऑफ़ इंडिया
03. RBI/भारतीय रिजर्व बैंक
04. Finance Ministry/वित्त मंत्रालय
05. EPFO / ईपीएफओ

Q-94 P- Note (Participatory Note) in India are issued on the recommendation of....
eng hin भारत में P- नोट (पार्टिसिपेटरी नोट) की सिफारिश पर जारी किए जाते हैं।....

01. SEBI / सेबी
02. SBI/स्टेट बैंक ऑफ़ इंडिया
03. RBI/भारतीय रिजर्व बैंक
04. Finance Ministry/वित्त मंत्रालय
05. EPFO / ईपीएफओ

Solution for Question 94		Ans Key: 1
eng/eng	A participatory note, commonly known as a P-note or PN, is an instrument issued by a registered foreign institutional investor (FII) to an overseas investor who wishes to invest in Indian stock markets without registering themselves with the market regulator, the Securities and Exchange Board of India (SEBI). एक भागीदारी नोट, जिसे आमतौर पर एक पी-नोट या पीएन के रूप में जाना जाता है, एक विदेशी निवेशक को एक पंजीकृत विदेशी संस्थागत निवेशक (एफआईआई) द्वारा जारी किया गया एक उपकरण है, जो बाजार नियामक, सिक्योरिटीज और खुद को पंजीकृत किए बिना भारतीय शेयर बाजारों में निवेश करना चाहता है। एक्सचेंज बोर्ड ऑफ़ इंडिया (SEBI)□	
eng hin	A participatory note, commonly known as a P-note or PN, is an instrument issued by a registered foreign institutional investor (FII) to an overseas investor who wishes to invest in Indian stock markets without registering themselves with the market regulator, the Securities and Exchange Board of India (SEBI). एक भागीदारी नोट, जिसे आमतौर पर एक पी-नोट या पीएन के रूप में जाना जाता है, एक विदेशी निवेशक को एक पंजीकृत विदेशी संस्थागत निवेशक (एफआईआई) द्वारा जारी किया गया एक उपकरण है, जो बाजार नियामक, सिक्योरिटीज और खुद को पंजीकृत किए बिना भारतीय शेयर बाजारों में निवेश करना चाहता है। एक्सचेंज बोर्ड ऑफ़ इंडिया (SEBI)□	

Q-95 Recently which bank launches a full power Digital Savings Account that can be opened instantly with Video KYC in 4 simple steps?
eng/eng हाल ही में किस बैंक ने एक पूर्ण पावर डिजिटल बचत खाता लॉन्च किया है जिसे 4 सरल चरणों में वीडियो केवाईसी के साथ तुरंत खोला जा सकता है?

01. ICICI Bank / आईसीआईसीआई बैंक
02. Punjab National Bank / पंजाब नेशनल बैंक
03. State Bank of India / भारतीय स्टेट बैंक
04. HDFC Bank / एचडीएफसी बैंक
05. Axis Bank / एक्सिस बैंक

Q-95 Recently which bank launches a full power Digital Savings Account that can be opened instantly with Video KYC in 4 simple steps?
eng hin हाल ही में किस बैंक ने एक पूर्ण पावर डिजिटल बचत खाता लॉन्च किया है जिसे 4 सरल चरणों में वीडियो केवाईसी के साथ तुरंत खोला जा सकता है?

01. ICICI Bank / आईसीआईसीआई बैंक
02. Punjab National Bank / पंजाब नेशनल बैंक
03. State Bank of India / भारतीय स्टेट बैंक
04. HDFC Bank / एचडीएफसी बैंक
05. Axis Bank / एक्सिस बैंक

Solution for Question 95		Ans Key: 5
eng/eng	Axis Bank launches a full power Digital Savings Account that can be opened instantly with Video KYC in 4 simple steps.	

एक्सिस बैंक ने एक पूर्ण पावर डिजिटल बचत खाता लॉन्च किया है जिसे 4 सरल चरणों में वीडियो केवाईसी के साथ तुरंत खोला जा सकता है।

eng hin

Axis Bank launches a full power Digital Savings Account that can be opened instantly with Video KYC in 4 simple steps.

एक्सिस बैंक ने एक पूर्ण पावर डिजिटल बचत खाता लॉन्च किया है जिसे 4 सरल चरणों में वीडियो केवाईसी के साथ तुरंत खोला जा सकता है।

Q-96

Recently who has been appointed as the Commander-in-Chief of the Andaman and Nicobar Command?

eng/eng

हाल ही में अंडमान और निकोबार कमान के कमांडर-इन-चीफ के रूप में किसे नियुक्त किया गया है?

- | | |
|------------------------------------|-----------------------------------|
| 01. Avinash Bajjal / अविनाश बैजल | 02. Himanshu Yadav / हिमांशु यादव |
| 03. Abhishek Taneja / अभिषेक तनेजा | 04. Aditya Mehra / आदित्य मेहरा |
| 05. Manoj Pande / मनोज पांडे | |

Q-96

Recently who has been appointed as the Commander-in-Chief of the Andaman and Nicobar Command?

eng hin

हाल ही में अंडमान और निकोबार कमान के कमांडर-इन-चीफ के रूप में किसे नियुक्त किया गया है?

- | | |
|------------------------------------|-----------------------------------|
| 01. Avinash Bajjal / अविनाश बैजल | 02. Himanshu Yadav / हिमांशु यादव |
| 03. Abhishek Taneja / अभिषेक तनेजा | 04. Aditya Mehra / आदित्य मेहरा |
| 05. Manoj Pande / मनोज पांडे | |

Solution for Question 96

Ans Key: 5

eng/eng

Manoj Pande has been appointed as the Commander-in-Chief of the Andaman and Nicobar Command. मनोज पांडे को अंडमान और निकोबार कमान का कमांडर-इन-चीफ नियुक्त किया गया है।

eng hin

Manoj Pande has been appointed as the Commander-in-Chief of the Andaman and Nicobar Command. मनोज पांडे को अंडमान और निकोबार कमान का कमांडर-इन-चीफ नियुक्त किया गया है।

Q-97

Recently, 4th edition of Business Reform Action Plan (BRAP) ranking of states announced recently by the Department of Industrial Promotion and Internal Trade (DPIIT). Which state topped under State Reform Action Plan 2019?

eng/eng

हाल ही में, उद्योग संवर्धन और आंतरिक व्यापार विभाग (Department for Promotion of Industry and Internal Trade- DPIIT) द्वारा राज्यों की व्यापार सुधार कार्य योजना (Business Reform Action Plan- BRAP) रैंकिंग का चौथा संस्करण की घोषणा की गयी। राज्य सुधार कार्य योजना 2019 के तहत किस राज्य ने शीर्ष स्थान हासिल किया है?

- | | |
|-----------------------------------|----------------------------------|
| 01. Andhra Pradesh / आंध्र प्रदेश | 02. Uttar Pradesh / उत्तर प्रदेश |
| 03. Telangana / तेलंगाना | 04. Madhya Pradesh / मध्य प्रदेश |
| 05. Jharkhand / झारखंड | |

Q-97

Recently, 4th edition of Business Reform Action Plan (BRAP) ranking of states announced recently by the Department of Industrial Promotion and Internal Trade (DPIIT). Which state topped under State Reform Action Plan 2019?

eng/eng

हाल ही में, उद्योग संवर्धन और आंतरिक व्यापार विभाग (Department for Promotion of Industry and Internal Trade- DPIIT) द्वारा राज्यों की व्यापार सुधार कार्य योजना (Business Reform Action Plan- BRAP) रैंकिंग का चौथा संस्करण की घोषणा की गयी। राज्य सुधार कार्य योजना 2019 के तहत किस राज्य ने शीर्ष स्थान हासिल किया है?

- | | |
|-----------------------------------|----------------------------------|
| 01. Andhra Pradesh / आंध्र प्रदेश | 02. Uttar Pradesh / उत्तर प्रदेश |
| 03. Telangana / तेलंगाना | 04. Madhya Pradesh / मध्य प्रदेश |
| 05. Jharkhand / झारखंड | |

Solution for Question 97

Ans Key: 1

eng/eng

The Business Reform Action Plan 2018-19 includes 180 reform points covering 12 business regulatory areas such as Access to Information, Single Window System, Labour, Environment, etc. State rankings will help attract investments, foster healthy competition and increase Ease of Doing Business in each State.

व्यापार सुधार कार्य योजना (BRAP) 2018-19 में करोबार की स्थितियां बेहतर बनाने के लिए 180 मुख्य मानक तय किए गए हैं जिनमें 12 व्यावसायिक विनियामक क्षेत्र जैसे कि सूचना तक पहुंच, एकल खिड़की प्रणाली, श्रम और पर्यावरण आदि शामिल हैं। यह रैंकिंग राज्यों में निवेश को आकर्षित करने, स्वस्थ प्रतिस्पर्धा को बढ़ावा देने और प्रत्येक राज्य में कारोबारी सुगमता को बढ़ाने में मदद करेगी।

eng hin

The Business Reform Action Plan 2018-19 includes 180 reform points covering 12 business regulatory areas such as Access to Information, Single Window System, Labour, Environment, etc. State rankings will help attract investments, foster healthy competition and increase Ease of Doing Business in each State.

व्यापार सुधार कार्य योजना (BRAP) 2018-19 में करोबार की स्थितियां बेहतर बनाने के लिए 180 मुख्य मानक तय किए गए हैं जिनमें 12 व्यावसायिक विनियामक क्षेत्र जैसे कि सूचना तक पहुंच, एकल खिड़की प्रणाली, श्रम और पर्यावरण आदि शामिल हैं। यह रैंकिंग राज्यों में निवेश को आकर्षित करने, स्वस्थ प्रतिस्पर्धा को बढ़ावा देने और प्रत्येक राज्य में कारोबारी सुगमता को बढ़ाने में मदद करेगी।

Q-98

Residential Asset Price Monitoring Survey is done by _____.

आवासीय परिसंपत्ति मूल्य निगरानी सर्वेक्षण _____ द्वारा किया जाता है।

- | | |
|---|--|
| 01. World Bank / विश्व बैंक | 02. Reserve Bank of India / भारतीय रिजर्व बैंक |
| 03. International Monetary Fund / अंतर्राष्ट्रीय मुद्रा कोष | 04. State Bank of India / भारतीय स्टेट बैंक |
| 05. None of these / इनमें से कोई नहीं | |

Q-98

Residential Asset Price Monitoring Survey is done by _____.

eng hin

आवासीय परिसंपत्ति मूल्य निगरानी सर्वेक्षण _____ द्वारा किया जाता है।

- | | |
|---|--|
| 01. World Bank / विश्व बैंक | 02. Reserve Bank of India / भारतीय रिजर्व बैंक |
| 03. International Monetary Fund / अंतर्राष्ट्रीय मुद्रा कोष | 04. State Bank of India / भारतीय स्टेट बैंक |
| 05. None of these / इनमें से कोई नहीं | |

Solution for Question 98

Ans Key: 2

eng/eng

The RBI has been conducting a quarterly Residential Asset Price Monitoring Survey (RAPMS) since July 2010 on housing loans disbursed by select banks and housing finance companies (HFCs) across 13 cities.

आरबीआई जुलाई 2010 से 13 शहरों के चुनिंदा बैंकों और हाउसिंग फाइनेंस कंपनियों (HFC) द्वारा वितरित आवास ऋणों पर एक तिमाही आवासीय परिसंपत्ति मूल्य निगरानी सर्वेक्षण (RAPMS) आयोजित कर रहा है।

eng hin

The RBI has been conducting a quarterly Residential Asset Price Monitoring Survey (RAPMS) since July 2010 on housing loans disbursed by select banks and housing finance companies (HFCs) across 13 cities.

आरबीआई जुलाई 2010 से 13 शहरों के चुनिंदा बैंकों और हाउसिंग फाइनेंस कंपनियों (HFC) द्वारा वितरित आवास ऋणों पर एक तिमाही आवासीय परिसंपत्ति मूल्य निगरानी सर्वेक्षण (RAPMS) आयोजित कर रहा है।

Q-99

eng/eng

The approach of 'Micro-Credit' or 'Banking with the poor' is comparatively a new concept in the field of rural credit, this approach has been tried very successfully in which countries?

‘माइक्रो-क्रेडिट’ या ‘गरीबों के साथ बैंकिंग’ का दृष्टिकोण तुलनात्मक रूप से ग्रामीण ऋण के क्षेत्र में एक नई अवधारणा है, किन देशों में इस दृष्टिकोण को बहुत सफलतापूर्वक आजमाया गया है?

- | | |
|-----------------------------|---------------------------------|
| 01. India / भारत | 02. China / चीन |
| 03. Japan / जापान | 04. USA / संयुक्त राज्य अमेरिका |
| 05. Bangladesh / बांग्लादेश | |

Q-99

eng hin

The approach of 'Micro-Credit' or 'Banking with the poor' is comparatively a new concept in the field of rural credit, this approach has been tried very successfully in which countries?

‘माइक्रो-क्रेडिट’ या ‘गरीबों के साथ बैंकिंग’ का दृष्टिकोण तुलनात्मक रूप से ग्रामीण ऋण के क्षेत्र में एक नई अवधारणा है, किन देशों में इस दृष्टिकोण को बहुत सफलतापूर्वक आजमाया गया है?

- | | |
|-----------------------------|---------------------------------|
| 01. India / भारत | 02. China / चीन |
| 03. Japan / जापान | 04. USA / संयुक्त राज्य अमेरिका |
| 05. Bangladesh / बांग्लादेश | |

Solution for Question 99

Ans Key: 5

eng/eng

Microcredit is generally considered to have originated with the Grameen Bank founded in Bangladesh in 1983.

माइक्रोक्रेडिट को आमतौर पर 1983 में बांग्लादेश में स्थापित ग्रामीण बैंक के साथ उत्पन्न माना जाता है।

eng hin

Microcredit is generally considered to have originated with the Grameen Bank founded in Bangladesh in 1983.

माइक्रोक्रेडिट को आमतौर पर 1983 में बांग्लादेश में स्थापित ग्रामीण बैंक के साथ उत्पन्न माना जाता है।

Q-100

eng/eng

The capital markets regulator has allowed companies to make two QIPs with a gap of just two weeks between them. What does 'P' stand for in QIP?

पूंजी बाजार नियामक ने कंपनियों को उनके बीच सिर्फ दो सप्ताह के अंतराल के साथ दो क्यूआईपी बनाने की अनुमति दी है। QIP में 'P' का क्या अर्थ है?

- | | |
|---------------------------|----------------------------|
| 01. Parameters / पैरामीटर | 02. Preferences / पसंद |
| 03. Promoters / प्रमोटर्स | 04. Placements / प्लेसमेंट |
| 05. Portfolios / विभागों | |

Q-100

eng hin

The capital markets regulator has allowed companies to make two QIPs with a gap of just two weeks between them. What does 'P' stand for in QIP?

पूंजी बाजार नियामक ने कंपनियों को उनके बीच सिर्फ दो सप्ताह के अंतराल के साथ दो क्यूआईपी बनाने की अनुमति दी है। QIP में 'P' का क्या अर्थ है?

01. Parameters / पैरामीटर
03. Promoters / प्रमोटरों
05. Portfolios / विभागों

02. Preferences / पसंद
04. Placements / प्लेसमेंट

Solution for Question 100

Ans Key: 4

eng/eng	<p>यहां प्लेसमेंट के लिए 'P' स्टैंड, QIP का विस्तारित रूप क्वालिफाइड इंस्टीट्यूशनल प्लेसमेंट है। योग्य संस्थागत प्लेसमेंट (QIP) एक पूंजी-जुटाने वाला उपकरण है, जिसका उपयोग मुख्य रूप से भारत और दक्षिणी एशिया के अन्य हिस्सों में किया जाता है, जिसके तहत एक सूचीबद्ध कंपनी इक्विटी शेयर, पूर्ण और आंशिक रूप से परिवर्तनीय डिबेंचर, या वारंट के अलावा कोई भी प्रतिभूतियां जारी कर सकती है, जो कि क्वालिफाइड इंस्टीट्यूशनल क्रेता (QIB) के लिए इक्विटी शेयरों में परिवर्तनीय हैं।</p> <p>Qualified institutional placement (QIP) is a capital-raising tool, primarily used in India and other parts of southern Asia, whereby a listed company can issue equity shares, fully and partly convertible debentures, or any securities other than warrants which are convertible to equity shares to a qualified institutional buyer (QIB).</p>
eng hin	<p>यहां प्लेसमेंट के लिए 'P' स्टैंड, QIP का विस्तारित रूप क्वालिफाइड इंस्टीट्यूशनल प्लेसमेंट है। योग्य संस्थागत प्लेसमेंट (QIP) एक पूंजी-जुटाने वाला उपकरण है, जिसका उपयोग मुख्य रूप से भारत और दक्षिणी एशिया के अन्य हिस्सों में किया जाता है, जिसके तहत एक सूचीबद्ध कंपनी इक्विटी शेयर, पूर्ण और आंशिक रूप से परिवर्तनीय डिबेंचर, या वारंट के अलावा कोई भी प्रतिभूतियां जारी कर सकती है, जो कि क्वालिफाइड इंस्टीट्यूशनल क्रेता (QIB) के लिए इक्विटी शेयरों में परिवर्तनीय हैं।</p> <p>Qualified institutional placement (QIP) is a capital-raising tool, primarily used in India and other parts of southern Asia, whereby a listed company can issue equity shares, fully and partly convertible debentures, or any securities other than warrants which are convertible to equity shares to a qualified institutional buyer (QIB).</p>

Q-101 The National Commission on Population has projected India's population to be more feminine in which year?

eng/eng राष्ट्रीय जनसंख्या आयोग ने भारत की जनसंख्या को किस वर्ष में अधिक स्तैण होने का अनुमान लगाया है?

- | | |
|----------|----------|
| 01. 2034 | 02. 2023 |
| 03. 2027 | 04. 2045 |
| 05. 2036 | |

Q-101 The National Commission on Population has projected India's population to be more feminine in which year?

eng hin राष्ट्रीय जनसंख्या आयोग ने भारत की जनसंख्या को किस वर्ष में अधिक स्तैण होने का अनुमान लगाया है?

- | | |
|----------|----------|
| 01. 2034 | 02. 2023 |
| 03. 2027 | 04. 2045 |
| 05. 2036 | |

Solution for Question 101

Ans Key: 5

eng/eng	<p>The National Commission on Population under the Ministry of Health and Family Welfare (MoHFW) submitted the Report of the Technical group on population projections July 2020, titled "Population projections for India and States 2011- 2036". The report projected that the India's sex ratio of the total population (females per 1000 males) is expected to be more feminine in 2036 compared to the population as of 2011.</p> <p>स्वास्थ्य और परिवार कल्याण मंत्रालय (MoHFW) के तहत जनसंख्या पर राष्ट्रीय आयोग ने जुलाई 2020 में जनसंख्या अनुमानों पर तकनीकी समूह की रिपोर्ट प्रस्तुत की, जिसका शीर्षक "भारत और राज्यों के लिए जनसंख्या अनुमान 2011- 2036" है। रिपोर्ट में अनुमान लगाया गया है कि 2011 की जनसंख्या की तुलना में 2036 में भारत की कुल जनसंख्या (प्रति 1000 पुरुषों पर महिला) का लिंग अनुपात अधिक स्तैण होने की उम्मीद है।</p>
eng hin	<p>The National Commission on Population under the Ministry of Health and Family Welfare (MoHFW) submitted the Report of the Technical group on population projections July 2020, titled "Population projections for India and States 2011- 2036". The report projected that the India's sex ratio of the total population (females per 1000 males) is expected to be more feminine in 2036 compared to the population as of 2011.</p> <p>स्वास्थ्य और परिवार कल्याण मंत्रालय (MoHFW) के तहत जनसंख्या पर राष्ट्रीय आयोग ने जुलाई 2020 में जनसंख्या अनुमानों पर तकनीकी समूह की रिपोर्ट प्रस्तुत की, जिसका शीर्षक "भारत और राज्यों के लिए जनसंख्या अनुमान 2011- 2036" है। रिपोर्ट में अनुमान लगाया गया है कि 2011 की जनसंख्या की तुलना में 2036 में भारत की कुल जनसंख्या (प्रति 1000 पुरुषों पर महिला) का लिंग अनुपात अधिक स्तैण होने की उम्मीद है।</p>

Q-102 The rating agency, Moody's has projected the GDP growth rate for India to contract _____ % in fiscal 2020-21 due to the coronavirus pandemic.

eng/eng रेटिंग एजेंसी, मूडीज ने भारत के लिए राजकोषीय 2020-21 में _____ % अनुबंध करने के लिए जीडीपी विकास दर का अनुमान कोरोनावायरस महामारी के कारण लगाया है।

- | | |
|----------|---------|
| 01. 11.5 | 02. 8.5 |
| 03. 10.5 | 04. 9.5 |
| 05. 7.5 | |

Q-102 The rating agency, Moody's has projected the GDP growth rate for India to contract _____ % in fiscal 2020-21 due to the coronavirus pandemic.

eng hin रेटिंग एजेंसी, मूडीज ने भारत के लिए राजकोषीय 2020-21 में _____ % अनुबंध करने के लिए जीडीपी विकास दर का अनुमान कोरोनावायरस महामारी के कारण लगाया है।

- | | |
|----------|---------|
| 01. 11.5 | 02. 8.5 |
|----------|---------|

03. 10.5

04. 9.5

05. 7.5

Solution for Question 102

Ans Key: 1

eng/eng	The rating agency, Moody's has projected the GDP growth rate for India to contract 11.5 per cent in fiscal 2020-21 (FY21) due to the coronavirus pandemic. रेटिंग एजेंसी, मूडीज ने भारत के लिए राजकोषीय 2020-21 (FY21) में 11.5 प्रतिशत अनुबंध करने के लिए जीडीपी विकास दर का अनुमान कोरोनावायरस महामारी के कारण लगाया है।
eng hin	The rating agency, Moody's has projected the GDP growth rate for India to contract 11.5 per cent in fiscal 2020-21 (FY21) due to the coronavirus pandemic. रेटिंग एजेंसी, मूडीज ने भारत के लिए राजकोषीय 2020-21 (FY21) में 11.5 प्रतिशत अनुबंध करने के लिए जीडीपी विकास दर का अनुमान कोरोनावायरस महामारी के कारण लगाया है।

Q-103 What % the RBI has increased the Held to Maturity (HTM) limit or the amount that banks invest in G-secs from 19.5%?

eng/eng आरबीआई ने कितने% हेल्ड को परिपक्वता (HTM) की सीमा या बैंकों द्वारा G-sec में निवेश करने की राशि को 19.5% से बढ़ा दिया है?

- | | |
|------------|------------|
| 01. 19.95% | 02. 19.65% |
| 03. 22.25% | 04. 22% |
| 05. 23% | |

Q-103 What % the RBI has increased the Held to Maturity (HTM) limit or the amount that banks invest in G-secs from 19.5%?

eng hin आरबीआई ने कितने% हेल्ड को परिपक्वता (HTM) की सीमा या बैंकों द्वारा G-sec में निवेश करने की राशि को 19.5% से बढ़ा दिया है?

- | | |
|------------|------------|
| 01. 19.95% | 02. 19.65% |
| 03. 22.25% | 04. 22% |
| 05. 23% | |

Solution for Question 103

Ans Key: 4

eng/eng	RBI announced measures in order to ensure orderly market conditions and congenial financial conditions. In this regard RBI will conduct additional special open market operations (OMO) involving the simultaneous purchase and sale of government securities for Rs 20,000 crore in two tranches of Rs 10,000 crore each on September 10, 2020 and September 17, 2020. The apex bank also announced term repo operations of Rs 100,000 crore (1 trillion) to infuse liquidity into the market. The RBI also increased the held to maturity limit (HTM) or the amount that banks invest in G-secs from 19.5% to 22%. Therefore, banks can hold fresh acquisitions of SLR (Statutory Liquidity Ratio) securities acquired from September 1, 2020 under HTM up to an overall limit of 22% of net demand and time liabilities (NDTL) up to March 31, 2021. RBI ने बाजार की स्थिति और जन्मजात वित्तीय स्थितियों को सुनिश्चित करने के लिए उपायों की घोषणा की। इस संबंध में RBI अतिरिक्त विशेष खुले बाजार परिचालन (OMO) करेगा, जिसमें सरकारी प्रतिभूतियों की खरीद और बिक्री पर 20,000 करोड़ रुपये के दो लेन-देन में 10,000 करोड़ रु। शामिल होंगे। सितंबर 10, 2020 और सितंबर 17, 2020 पर। शीर्ष बैंक ने बाजार में तरलता को बढ़ाने के लिए 1,00,000 करोड़ रुपये (1 ट्रिलियन) के रेपो परिचालन की भी घोषणा की। RBI ने परिपक्वता सीमा (HTM) या बैंकों द्वारा G-sec में निवेश करने की राशि को 19.5% से बढ़ाकर 22% कर दिया। इसलिए, बैंक 31 मार्च, 20, 2021 तक शुद्ध मांग और समय देनदारियों (NDTL) की कुल सीमा तक HTM के तहत 1,20,20 से अधिग्रहीत SLR (सांविधिक चलनिधि अनुपात) की ताजी अधिग्रहण कर सकते हैं।
eng hin	RBI announced measures in order to ensure orderly market conditions and congenial financial conditions. In this regard RBI will conduct additional special open market operations (OMO) involving the simultaneous purchase and sale of government securities for Rs 20,000 crore in two tranches of Rs 10,000 crore each on September 10, 2020 and September 17, 2020. The apex bank also announced term repo operations of Rs 100,000 crore (1 trillion) to infuse liquidity into the market. The RBI also increased the held to maturity limit (HTM) or the amount that banks invest in G-secs from 19.5% to 22%. Therefore, banks can hold fresh acquisitions of SLR (Statutory Liquidity Ratio) securities acquired from September 1, 2020 under HTM up to an overall limit of 22% of net demand and time liabilities (NDTL) up to March 31, 2021. RBI ने बाजार की स्थिति और जन्मजात वित्तीय स्थितियों को सुनिश्चित करने के लिए उपायों की घोषणा की। इस संबंध में RBI अतिरिक्त विशेष खुले बाजार परिचालन (OMO) करेगा, जिसमें सरकारी प्रतिभूतियों की खरीद और बिक्री पर 20,000 करोड़ रुपये के दो लेन-देन में 10,000 करोड़ रु। शामिल होंगे। सितंबर 10, 2020 और सितंबर 17, 2020 पर। शीर्ष बैंक ने बाजार में तरलता को बढ़ाने के लिए 1,00,000 करोड़ रुपये (1 ट्रिलियन) के रेपो परिचालन की भी घोषणा की। RBI ने परिपक्वता सीमा (HTM) या बैंकों द्वारा G-sec में निवेश करने की राशि को 19.5% से बढ़ाकर 22% कर दिया। इसलिए, बैंक 31 मार्च, 20, 2021 तक शुद्ध मांग और समय देनदारियों (NDTL) की कुल सीमा तक HTM के तहत 1,20,20 से अधिग्रहीत SLR (सांविधिक चलनिधि अनुपात) की ताजी अधिग्रहण कर सकते हैं।

Q-104 What do you understand by the term 'Mortgage'?

eng/eng 'बंधक' शब्द से आप क्या समझते हैं?

- | | |
|---|---|
| 01. Sale of moveable security in the event of default by the borrower / उधारकर्ता द्वारा डिफॉल्ट की स्थिति में जंगम सुरक्षा की बिक्री | 02. Registration of charge with the Registrar of Companies / कंपनियों के रजिस्ट्रार के साथ प्रभार का पंजीकरण |
| 03. Making the security of immovable property available as a cover for a home loan by the borrower / उधारकर्ता द्वारा होम लोन के लिए | 04. Registration of charge with the Regional Transport Authority / क्षेत्रीय परिवहन प्राधिकरण के साथ पंजीकरण का पंजीकरण |

अचल संपत्ति की सुरक्षा उपलब्ध कराना

05. Returning of the security to borrower by the bank of receipt of full payment / पूर्ण भुगतान की प्राप्ति के बैंक द्वारा उधारकर्ता को सुरक्षा की वापसी

Q-104 What do you understand by the term 'Mortgage'?
eng hin

'बंधक' शब्द से आप क्या समझते हैं?

01. Sale of moveable security in the event of default by the borrower / उधारकर्ता द्वारा डिफॉल्ट की स्थिति में जंगम सुरक्षा की बिक्री
02. Registration of charge with the Registrar of Companies / कंपनियों के रजिस्ट्रार के साथ प्रभार का पंजीकरण
03. Making the security of immovable property available as a cover for a home loan by the borrower / उधारकर्ता द्वारा होम लोन के लिए अचल संपत्ति की सुरक्षा उपलब्ध कराना
04. Registration of charge with the Regional Transport Authority / क्षेत्रीय परिवहन प्राधिकरण के साथ पंजीकरण का पंजीकरण
05. Returning of the security to borrower by the bank of receipt of full payment / पूर्ण भुगतान की प्राप्ति के बैंक द्वारा उधारकर्ता को सुरक्षा की वापसी

Solution for Question 104

Ans Key: 3

eng/eng उधारकर्ता द्वारा होम लोन के लिए अचल संपत्ति की सुरक्षा उपलब्ध कराना ऋणी की संपत्ति का शीर्षक लेने के बदले में ब्याज पर पैसा उधार देता है, इस शर्त के साथ कि ऋण के भुगतान पर शीर्षक का अर्थ शून्य हो जाता है।
Making the security of immovable property available as a cover for a home loan by the borrower
Lends money at interest in exchange for taking title of the debtor's property, with the condition that the conveyance of title becomes void upon the payment of the debt.

eng hin उधारकर्ता द्वारा होम लोन के लिए अचल संपत्ति की सुरक्षा उपलब्ध कराना ऋणी की संपत्ति का शीर्षक लेने के बदले में ब्याज पर पैसा उधार देता है, इस शर्त के साथ कि ऋण के भुगतान पर शीर्षक का अर्थ शून्य हो जाता है।
Making the security of immovable property available as a cover for a home loan by the borrower
Lends money at interest in exchange for taking title of the debtor's property, with the condition that the conveyance of title becomes void upon the payment of the debt.

Q-105 What is the Currency of Ethiopia?

eng/eng इथियोपिया की मुद्रा क्या है?

01. Shilling / शिलिंग
02. Naira / नाइरा
03. Birr / बिर
04. Cedi / सेडी
05. Taka / टका

Q-105 What is the Currency of Ethiopia?

eng hin इथियोपिया की मुद्रा क्या है?

01. Shilling / शिलिंग
02. Naira / नाइरा
03. Birr / बिर
04. Cedi / सेडी
05. Taka / टका

Solution for Question 105

Ans Key: 3

eng/eng The Ethiopian Birr is the currency of Ethiopia. A landlocked country or landlocked state is a sovereign state that does not have territory connected to an ocean or whose coastlines lie on endorheic basins.
इथियोपियाई बिर इथियोपिया की मुद्रा है। एक भू-स्थलित देश या भू-स्थलित राज्य एक संप्रभु राज्य है, जिसके पास एक महासागर से जुड़ा क्षेत्र नहीं है या जिसकी तटीय सीमाएं एंडोर्फिक बेसिन पर स्थित हैं।

eng hin The Ethiopian Birr is the currency of Ethiopia. A landlocked country or landlocked state is a sovereign state that does not have territory connected to an ocean or whose coastlines lie on endorheic basins.
इथियोपियाई बिर इथियोपिया की मुद्रा है। एक भू-स्थलित देश या भू-स्थलित राज्य एक संप्रभु राज्य है, जिसके पास एक महासागर से जुड़ा क्षेत्र नहीं है या जिसकी तटीय सीमाएं एंडोर्फिक बेसिन पर स्थित हैं।

Q-106 What is the current bank rate?

eng/eng वर्तमान बैंक दर क्या है?

01. 4.25%
02. 3%
03. 4.0%
04. 3.25%

There are 3 Types of treasure bill 91 days, 182 days, and 364 days. The minimum amount of treasure bill is 25000.

ट्रेजरी बिल के 3 प्रकार हैं, 91 दिन, 182 दिन और 364 दिन। खजाना बिल की न्यूनतम राशि 25000 है।

eng hin There are 3 Types of treasure bill 91 days, 182 days, and 364 days. The minimum amount of treasure bill is 25000.
ट्रेजरी बिल के 3 प्रकार हैं, 91 दिन, 182 दिन और 364 दिन। खजाना बिल की न्यूनतम राशि 25000 है।

Q-109 What is the minimum validity period of 'Commercial Paper' in India?

eng/eng भारत में 'वाणिज्यिक पत्र' की न्यूनतम वैधता अवधि क्या है?

- | | |
|-------------------|-------------------|
| 01. 28 दिन | 02. 21 दिन |
| 03. 14 दिन | 04. 1 माह |
| 05. 7 दिन | |

Q-109 What is the minimum validity period of 'Commercial Paper' in India?

eng hin भारत में 'वाणिज्यिक पत्र' की न्यूनतम वैधता अवधि क्या है?

- | | |
|-------------------|-------------------|
| 01. 28 दिन | 02. 21 दिन |
| 03. 14 दिन | 04. 1 माह |
| 05. 7 दिन | |

Solution for Question 109

Ans Key: 5

eng/eng According to RBI, CP can be issued for maturities between a minimum of 7 days and a maximum of up to one year from the date of issue. However, the maturity date of the CP should not go beyond the date up to which the credit rating of the issuer is valid.
RBI के अनुसार, CP को जारी होने की तारीख से न्यूनतम 7 दिनों और अधिकतम एक वर्ष के बीच परिपक्वता के लिए जारी किया जा सकता है। हालांकि, सीपी की परिपक्वता तिथि उस तारीख से आगे नहीं बढ़नी चाहिए, जिसके लिए जारीकर्ता की क्रेडिट रेटिंग मान्य है।

eng hin According to RBI, CP can be issued for maturities between a minimum of 7 days and a maximum of up to one year from the date of issue. However, the maturity date of the CP should not go beyond the date up to which the credit rating of the issuer is valid.
RBI के अनुसार, CP को जारी होने की तारीख से न्यूनतम 7 दिनों और अधिकतम एक वर्ष के बीच परिपक्वता के लिए जारी किया जा सकता है। हालांकि, सीपी की परिपक्वता तिथि उस तारीख से आगे नहीं बढ़नी चाहिए, जिसके लिए जारीकर्ता की क्रेडिट रेटिंग मान्य है।

Q-110 What is underwriting?

eng/eng Underwriting क्या है?

- | | |
|---|--|
| 01. Process of issuing a share by unlisted company. / असूचीबद्ध कंपनी द्वारा एक शेयर जारी करने की प्रक्रिया। | 02. A financial contract for the process of IPO / आईपीओ की प्रक्रिया के लिए एक वित्तीय अनुबंध |
| 03. Process of purchasing of share / शेयर की खरीद की प्रक्रिया | 04. Process of selling of Share / शेयर बेचने की प्रक्रिया |
| 05. Process of listing in share market / शेयर बाजार में लिस्टिंग की प्रक्रिया | |

Q-110 What is underwriting?

eng hin Underwriting क्या है?

- | | |
|---|--|
| 01. Process of issuing a share by unlisted company. / असूचीबद्ध कंपनी द्वारा एक शेयर जारी करने की प्रक्रिया। | 02. A financial contract for the process of IPO / आईपीओ की प्रक्रिया के लिए एक वित्तीय अनुबंध |
| 03. Process of purchasing of share / शेयर की खरीद की प्रक्रिया | 04. Process of selling of Share / शेयर बेचने की प्रक्रिया |
| 05. Process of listing in share market / शेयर बाजार में लिस्टिंग की प्रक्रिया | |

Q-111 What percentage of FDI is allowed in Insurance Sector in India?

eng/eng भारत में बीमा क्षेत्र में कितने प्रतिशत एफडीआई की अनुमति है?

- | | |
|-----------------|----------------|
| 01. 49% | 02. 94% |
| 03. 26% | 04. 51% |
| 05. 100% | |

Q-111 What percentage of FDI is allowed in Insurance Sector in India?

eng hin भारत में बीमा क्षेत्र में कितने प्रतिशत एफडीआई की अनुमति है?

01. 49%
03. 26%
05. 100%

02. 94%
04. 51%

Solution for Question 111

Ans Key: 1

eng/eng Earlier, it was 26%.
पहले यह 26% था।

eng hin Earlier, it was 26%.
पहले यह 26% था।

Q-112 When is the International Day of Charity?

eng/eng अंतर्राष्ट्रीय चैरिटी दिवस कब है?

01. September 3rd / 3 सितंबर
03. September 4th / 4 सितंबर
05. None of these / इनमें से कोई नहीं
02. September 5th / 5 सितंबर
04. September 1st / पहली सितंबर

Q-112 When is the International Day of Charity?

eng hin अंतर्राष्ट्रीय चैरिटी दिवस कब है?

01. September 3rd / 3 सितंबर
03. September 4th / 4 सितंबर
05. None of these / इनमें से कोई नहीं
02. September 5th / 5 सितंबर
04. September 1st / पहली सितंबर

Solution for Question 112

Ans Key: 2

eng/eng The International Day of Charity was observed across the world on September 5, 2020. The day was established to encourage people across the world to help others through volunteering and philanthropic activities.
5 सितंबर, 2020 को दुनिया भर में अंतर्राष्ट्रीय दिवस मनाया गया। इस दिन की स्थापना दुनिया भर के लोगों को स्वयं सेवा और परोपकारी गतिविधियों के माध्यम से दूसरों की मदद करने के लिए प्रोत्साहित करने के लिए की गई थी।

eng hin The International Day of Charity was observed across the world on September 5, 2020. The day was established to encourage people across the world to help others through volunteering and philanthropic activities.
5 सितंबर, 2020 को दुनिया भर में अंतर्राष्ट्रीय दिवस मनाया गया। इस दिन की स्थापना दुनिया भर के लोगों को स्वयं सेवा और परोपकारी गतिविधियों के माध्यम से दूसरों की मदद करने के लिए प्रोत्साहित करने के लिए की गई थी।

Q-113 Which automobile manufacturer has launched a Virtual Racing Championship in India?

eng/eng किस ऑटोमोबाइल निर्माता ने भारत में एक वर्चुअल रेसिंग चैम्पियनशिप शुरू की है?

01. Maruti Suzuki / मारुति सुजुकी
03. Volkswagen Motorsport India./ वोक्सवैगन मोटरस्पोर्ट इंडिया
05. both (A) & (B) / दोनों (ए) और (बी)
02. Tata Motors/ टाटा मोटर्स
04. Hyundai India / हुंडिया इंडिया

Q-113 Which automobile manufacturer has launched a Virtual Racing Championship in India?

eng hin किस ऑटोमोबाइल निर्माता ने भारत में एक वर्चुअल रेसिंग चैम्पियनशिप शुरू की है?

01. Maruti Suzuki / मारुति सुजुकी
03. Volkswagen Motorsport India./ वोक्सवैगन मोटरस्पोर्ट इंडिया
05. both (A) & (B) / दोनों (ए) और (बी)
02. Tata Motors/ टाटा मोटर्स
04. Hyundai India / हुंडिया इंडिया

Solution for Question 113

Ans Key: 3

eng/eng वोक्सवैगन मोटरस्पोर्ट इंडिया (VMI) ने अपने घर के आराम में रोमांचक और आकर्षक मोटरस्पोर्ट अनुभव को देने के लिए वोक्सवैगन वर्चुअल रेसिंग चैम्पियनशिप (VW-VRC) लॉन्च की। 2020 पोलो चैम्पियनशिप (वन-मेक सीरीज़) वस्तुतः सिमुलेटर के माध्यम से आयोजित की जाएगी।
Volkswagen Motorsport India (VMI) launches the Volkswagen Virtual Racing Championship (VW-VRC) to deliver the exciting and engaging motorsport experience digitally in the comfort of your home. The 2020 Polo Championship (one-make series) will be conducted virtually through simulators.

eng hin वोक्सवैगन मोटरस्पोर्ट इंडिया (VMI) ने अपने घर के आराम में रोमांचक और आकर्षक मोटरस्पोर्ट अनुभव को देने के लिए वोक्सवैगन वर्चुअल रेसिंग चैम्पियनशिप (VW-VRC) लॉन्च की। 2020 पोलो चैम्पियनशिप (वन-मेक सीरीज़) वस्तुतः सिमुलेटर के माध्यम से आयोजित की जाएगी।
Volkswagen Motorsport India (VMI) launches the Volkswagen Virtual Racing Championship (VW-VRC) to deliver the exciting and engaging motorsport experience digitally in the comfort of your home. The 2020 Polo Championship (one-make series) will be conducted virtually through simulators.

Q-114 Which Ministry has launched a mobile app called Mausam?

किस मंत्रालय ने मौसम नामक एक मोबाइल ऐप लॉन्च किया है?

01. Home Ministry / गृह मंत्रालय 02. Health Ministry / स्वास्थ्य मंत्रालय
03. Both (a) & (b)/ दोनों (A) और (B) 04. Earth Sciences Ministry / पृथ्वी विज्ञान मंत्रालय
05. Environment Ministry / पर्यावरण मंत्रालय

Q-114

eng hin

Which Ministry has launched a mobile app called Mausam?

किस मंत्रालय ने मौसम नामक एक मोबाइल ऐप लॉन्च किया है?

01. Home Ministry / गृह मंत्रालय 02. Health Ministry / स्वास्थ्य मंत्रालय
03. Both (a) & (b)/ दोनों (A) और (B) 04. Earth Sciences Ministry / पृथ्वी विज्ञान मंत्रालय
05. Environment Ministry / पर्यावरण मंत्रालय

Solution for Question 114

Ans Key: 4

eng/eng

The Ministry of Earth Sciences launched the mobile App "Mausam" on July 27, 2020 for the India Meteorological Department on its Foundation Day celebrations. The users will be able to access weather forecasts, radar images and be warned of the impending weather events. पृथ्वी विज्ञान मंत्रालय ने अपने स्थापना दिवस समारोह पर भारत मौसम विज्ञान विभाग के लिए 27 जुलाई, 2020 को मोबाइल ऐप "मौसम" लॉन्च किया। उपयोगकर्ता मौसम के पूर्वानुमान, रडार छवियों का उपयोग करने में सक्षम होंगे और आसन्न सामाजिक कार्यक्रमों की चेतावनी दे सकते हैं।

eng hin

The Ministry of Earth Sciences launched the mobile App "Mausam" on July 27, 2020 for the India Meteorological Department on its Foundation Day celebrations. The users will be able to access weather forecasts, radar images and be warned of the impending weather events. पृथ्वी विज्ञान मंत्रालय ने अपने स्थापना दिवस समारोह पर भारत मौसम विज्ञान विभाग के लिए 27 जुलाई, 2020 को मोबाइल ऐप "मौसम" लॉन्च किया। उपयोगकर्ता मौसम के पूर्वानुमान, रडार छवियों का उपयोग करने में सक्षम होंगे और आसन्न सामाजिक कार्यक्रमों की चेतावनी दे सकते हैं।

Q-115

eng/eng

Which of the following are engaged in the principal business of financing physical assets?

निम्नलिखित में से कौन भौतिक संपत्ति के वित्तपोषण के प्रमुख व्यवसाय में लगे हुए हैं?

01. Investment Company / निवेश कंपनी 02. Loan Companies / ऋण कंपनियों
03. Asset Finance Company / एसेट फाइनेंस कंपनी 04. Infrastructure Finance Company / इंफ्रास्ट्रक्चर फाइनेंस कंपनी
05. None of these / इनमें से कोई नहीं

Q-115

eng hin

Which of the following are engaged in the principal business of financing physical assets?

निम्नलिखित में से कौन भौतिक संपत्ति के वित्तपोषण के प्रमुख व्यवसाय में लगे हुए हैं?

01. Investment Company / निवेश कंपनी 02. Loan Companies / ऋण कंपनियों
03. Asset Finance Company / एसेट फाइनेंस कंपनी 04. Infrastructure Finance Company / इंफ्रास्ट्रक्चर फाइनेंस कंपनी
05. None of these / इनमें से कोई नहीं

Solution for Question 115

Ans Key: 3

eng/eng

The Asset Finance Company is the financial institution engaged in the principal business of financing physical assets that correspond to productive/economic activity such as machinery, automobile, tractors, material handling equipment, power generators, etc.

एसेट फाइनेंस कंपनी वह वित्तीय संस्था है जो भौतिक संपत्तियों के वित्तपोषण के प्रमुख व्यवसाय में लगी हुई है। यह उत्पादक / आर्थिक गतिविधियों जैसे मशीनरी, ऑटोमोबाइल, ट्रैक्टर, सामग्री से निपटने के उपकरण, बिजली जनरेटर, आदि के अनुरूप है।

eng hin

The Asset Finance Company is the financial institution engaged in the principal business of financing physical assets that correspond to productive/economic activity such as machinery, automobile, tractors, material handling equipment, power generators, etc.

एसेट फाइनेंस कंपनी वह वित्तीय संस्था है जो भौतिक संपत्तियों के वित्तपोषण के प्रमुख व्यवसाय में लगी हुई है। यह उत्पादक / आर्थिक गतिविधियों जैसे मशीनरी, ऑटोमोबाइल, ट्रैक्टर, सामग्री से निपटने के उपकरण, बिजली जनरेटर, आदि के अनुरूप है।

Q-116

eng/eng

Which of the following are the objective of the Khadi & Village Industries Commission (KVIC)?

1. Providing employment in rural areas.
2. Providing salable articles.
3. Creating self-reliance amongst people and building up a strong rural community spirit.
4. Establishing a major khadi industry in every village.

Select the correct answer code:

निम्नलिखित में से कौन खादी और ग्रामोद्योग आयोग (KVIC) के उद्देश्य हैं?

1. ग्रामीण क्षेत्रों में रोजगार प्रदान करना।
 2. बिक्री योग्य लेख प्रदान करना।
 3. लोगों में आत्मनिर्भरता पैदा करना और एक मजबूत ग्रामीण सामुदायिक भावना का निर्माण करना
 4. प्रत्येक गाँव में एक प्रमुख खादी उद्योग स्थापित करना
- सही उत्तर कोड का चयन करें:

01. 1, 3, 4
02. 1, 2, 4
03. 1, 2, 3
04. 1, 2, 3, 4
05. None of above / इनमें से कोई भी नहीं।

Q-116 Which of the following are the objective of the Khadi & Village Industries Commission (KVIC)?

- eng hin
1. Providing employment in rural areas.
2. Providing salable articles.
3. Creating self-reliance amongst people and building up a strong rural community spirit.
4. Establishing a major khadi industry in every village.

Select the correct answer code:

निम्नलिखित में से कौन खादी और ग्रामोद्योग आयोग (KVIC) के उद्देश्य हैं?

1. ग्रामीण क्षेत्रों में रोजगार प्रदान करना।
2. बिक्री योग्य लेख प्रदान करना।
3. लोगों में आत्मनिर्भरता पैदा करना और एक मजबूत ग्रामीण सामुदायिक भावना का निर्माण करना
4. प्रत्येक गाँव में एक प्रमुख खादी उद्योग स्थापित करना
सही उत्तर कोड का चयन करें:

01. 1, 3, 4
02. 1, 2, 4
03. 1, 2, 3
04. 1, 2, 3, 4
05. None of above / इनमें से कोई भी नहीं।

Solution for Question 116

Ans Key: 3

eng/eng The Khadi and Village Industries Commission (KVIC) is a statutory body established by an Act of Parliament (Khadi and Village Industries Commission Act of 1956). In April 1957, it took over the work of former All India Khadi and Village Industries Board.

खादी और ग्रामोद्योग आयोग (KVIC) एक वैधानिक निकाय है जिसे संसद के अधिनियम (खादी और ग्रामोद्योग आयोग अधिनियम 1956) द्वारा स्थापित किया गया है। अप्रैल 1957 में इसने अखिल भारतीय खादी और ग्रामोद्योग बोर्ड का काम संभाला।

कार्य: यह भारत के भीतर खादी और ग्रामोद्योग के संबंध में सूक्ष्म, लघु और मध्यम उद्यम मंत्रालय के तहत एक सर्वोच्च संगठन है, जो चाहता है - “खादी की स्थापना और विकास में योजना, बढ़ावा, सुविधा, संगठित और सहायता करना” ग्रामीण क्षेत्रों में गाँव के उद्योग जहाँ भी आवश्यक हो, वहाँ ग्रामीण विकास में लगी अन्य एजेंसियों के समन्वय में।”

आयोग के तीन मुख्य उद्देश्य हैं जो इसकी कार्यप्रणाली का मार्गदर्शन करते हैं। ये हैं:

1. सामाजिक उद्देश्य - ग्रामीण क्षेत्रों में रोजगार प्रदान करना।
2. आर्थिक उद्देश्य - बिक्री योग्य लेख प्रदान करना।
3. The Wider Objective - लोगों में आत्मनिर्भरता पैदा करना और एक मजबूत ग्रामीण सामुदायिक भावना का निर्माण करना।
हर गाँव में एक प्रमुख खादी उद्योग स्थापित करना एक सूचीबद्ध उद्देश्य नहीं है और आर्थिक रूप से भी संभव नहीं हो सकता है।

eng hin The Khadi and Village Industries Commission (KVIC) is a statutory body established by an Act of Parliament (Khadi and Village Industries Commission Act of 1956). In April 1957, it took over the work of former All India Khadi and Village Industries Board.

खादी और ग्रामोद्योग आयोग (KVIC) एक वैधानिक निकाय है जिसे संसद के अधिनियम (खादी और ग्रामोद्योग आयोग अधिनियम 1956) द्वारा स्थापित किया गया है। अप्रैल 1957 में इसने अखिल भारतीय खादी और ग्रामोद्योग बोर्ड का काम संभाला।

कार्य: यह भारत के भीतर खादी और ग्रामोद्योग के संबंध में सूक्ष्म, लघु और मध्यम उद्यम मंत्रालय के तहत एक सर्वोच्च संगठन है, जो चाहता है - “खादी की स्थापना और विकास में योजना, बढ़ावा, सुविधा, संगठित और सहायता करना” ग्रामीण क्षेत्रों में गाँव के उद्योग जहाँ भी आवश्यक हो, वहाँ ग्रामीण विकास में लगी अन्य एजेंसियों के समन्वय में।”

आयोग के तीन मुख्य उद्देश्य हैं जो इसकी कार्यप्रणाली का मार्गदर्शन करते हैं। ये हैं:

1. सामाजिक उद्देश्य - ग्रामीण क्षेत्रों में रोजगार प्रदान करना।
2. आर्थिक उद्देश्य - बिक्री योग्य लेख प्रदान करना।
3. The Wider Objective - लोगों में आत्मनिर्भरता पैदा करना और एक मजबूत ग्रामीण सामुदायिक भावना का निर्माण करना।
हर गाँव में एक प्रमुख खादी उद्योग स्थापित करना एक सूचीबद्ध उद्देश्य नहीं है और आर्थिक रूप से भी संभव नहीं हो सकता है।

Q-117 Which of the following are those principles, who are recommended by RBI in investing foreign assets?

eng/eng निम्नलिखित में से कौन से सिद्धांत हैं, जिन्हें विदेशी संपत्ति का निवेश करने में आरबीआई द्वारा सिफारिश की जाती है?

01. Safety / सुरक्षा
02. Liquidity / लिक्विडिटी
03. Return / वापसी
04. All of above / पर के सभी
05. None of these / इनमें से कोई नहीं

Q-117 Which of the following are those principles, who are recommended by RBI in investing foreign assets?

eng hin निम्नलिखित में से कौन से सिद्धांत हैं, जिन्हें विदेशी संपत्ति का निवेश करने में आरबीआई द्वारा सिफारिश की जाती है?

01. Safety / सुरक्षा
02. Liquidity / लिक्विडिटी
03. Return / वापसी
04. All of above / पर के सभी
05. None of these / इनमें से कोई नहीं

Solution for Question 117

Ans Key: 4

eng/eng	The Department of External Investments and Operations (DEIO) invests the country's foreign exchange reserves built up by purchase of foreign currency from the market. In investing its foreign assets, the Reserve Bank is guided by three principles: Safety, Liquidity, and Return. बाहरी निवेश और संचालन विभाग (DEIO) बाजार से विदेशी मुद्रा की खरीद के द्वारा निर्मित देश के विदेशी मुद्रा भंडार का निवेश करता है। अपनी विदेशी संपत्ति का निवेश करने में, रिज़र्व बैंक तीन सिद्धांतों: सुरक्षा, तरलता, रिटर्न द्वारा निर्देशित होता है।
eng hin	The Department of External Investments and Operations (DEIO) invests the country's foreign exchange reserves built up by purchase of foreign currency from the market. In investing its foreign assets, the Reserve Bank is guided by three principles: Safety, Liquidity, and Return. बाहरी निवेश और संचालन विभाग (DEIO) बाजार से विदेशी मुद्रा की खरीद के द्वारा निर्मित देश के विदेशी मुद्रा भंडार का निवेश करता है। अपनी विदेशी संपत्ति का निवेश करने में, रिज़र्व बैंक तीन सिद्धांतों: सुरक्षा, तरलता, रिटर्न द्वारा निर्देशित होता है।

Q-118 Which of the following is the Regulator of the credit rating agencies in India?**eng/eng**

निम्नलिखित में से कौन भारत में क्रेडिट रेटिंग एजेंसियों का नियामक है?

- | | |
|--------------------------------------|--|
| 01. RBI / भारतीय रिज़र्व बैंक | 02. SBI / स्टेट बैंक ऑफ़ इंडिया |
| 03. SIDBI / सिडबी | 04. SEBI / सेबी |
| 05. GOI / भारत सरकार | |

Q-118 Which of the following is the Regulator of the credit rating agencies in India?**eng hin**

- | | |
|--------------------------------------|--|
| 01. RBI / भारतीय रिज़र्व बैंक | 02. SBI / स्टेट बैंक ऑफ़ इंडिया |
| 03. SIDBI / सिडबी | 04. SEBI / सेबी |
| 05. GOI / भारत सरकार | |

Solution for Question 118

Ans Key: 4

eng/eng	The Securities and Exchange Board of India (Credit Rating Agencies) Regulations, 1999 empower SEBI to regulate credit rating agencies operating in India. Thus, SEBI regulates the credit rating agencies under the SEBI (Credit Rating Agencies) Regulations, 1999 of the Securities and Exchange Board of India Act, 1992. भारतीय प्रतिभूति और विनियम बोर्ड (क्रेडिट रेटिंग एजेंसियां) विनियम, 1999 भारत में कार्यरत क्रेडिट रेटिंग एजेंसियों को विनियमित करने के लिए सेबी को सशक्त बनाता है। इस प्रकार, सेबी भारतीय प्रतिभूति और विनियम बोर्ड अधिनियम, 1992 के सेबी (क्रेडिट रेटिंग एजेंसियों) विनियम, 1999 के तहत क्रेडिट रेटिंग एजेंसियों को नियंत्रित करता है।
eng hin	The Securities and Exchange Board of India (Credit Rating Agencies) Regulations, 1999 empower SEBI to regulate credit rating agencies operating in India. Thus, SEBI regulates the credit rating agencies under the SEBI (Credit Rating Agencies) Regulations, 1999 of the Securities and Exchange Board of India Act, 1992. भारतीय प्रतिभूति और विनियम बोर्ड (क्रेडिट रेटिंग एजेंसियां) विनियम, 1999 भारत में कार्यरत क्रेडिट रेटिंग एजेंसियों को विनियमित करने के लिए सेबी को सशक्त बनाता है। इस प्रकार, सेबी भारतीय प्रतिभूति और विनियम बोर्ड अधिनियम, 1992 के सेबी (क्रेडिट रेटिंग एजेंसियों) विनियम, 1999 के तहत क्रेडिट रेटिंग एजेंसियों को नियंत्रित करता है।

Q-119 Which public sector lender planning to completely digitize its lending operations including home, agriculture, Micro, MSMEs, personal and Auto loans?**eng/eng**

किस सार्वजनिक क्षेत्र के ऋणदाता ने घर, कृषि, सूक्ष्म, एमएसएमई, व्यक्तिगत और ऑटो ऋण सहित अपने ऋण परिचालन को पूरी तरह से डिजिटल बनाने की योजना बनाई है?

- | | |
|---|---|
| 01. Union Bank of India. / यूनियन बैंक ऑफ़ इंडिया। | 02. Punjab National Bank./ पंजाब नेशनल बैंक। |
| 03. Bank of India./ बैंक ऑफ़ इंडिया। | 04. Canara Bank./ केनरा बैंक। |
| 05. Bank of Baroda. / बैंक ऑफ़ बड़ौदा। | |

Q-119 Which public sector lender planning to completely digitize its lending operations including home, agriculture, Micro, MSMEs, personal and Auto loans?**eng/eng**

किस सार्वजनिक क्षेत्र के ऋणदाता ने घर, कृषि, सूक्ष्म, एमएसएमई, व्यक्तिगत और ऑटो ऋण सहित अपने ऋण परिचालन को पूरी तरह से डिजिटल बनाने की योजना बनाई है?

- | | |
|---|---|
| 01. Union Bank of India. / यूनियन बैंक ऑफ़ इंडिया। | 02. Punjab National Bank./ पंजाब नेशनल बैंक। |
| 03. Bank of India./ बैंक ऑफ़ इंडिया। | 04. Canara Bank./ केनरा बैंक। |
| 05. Bank of Baroda. / बैंक ऑफ़ बड़ौदा। | |

Solution for Question 119

Ans Key: 5

eng/eng	India's 3rd largest lender, Bank of Baroda will completely digitize its lending operations including home, agriculture, Micro, Small and Medium Enterprises (MSME), personal and auto loans. The bank has set up a new vertical, digital lending department at the corporate office, which will have substantial overlap with various credit verticals including Retail, MSME, Agri & service verticals like Analytics centre, Risk Management, Marketing. To set up this digital lending department the bank has reached out to the Big Four and some white shoe consultants like McKinsey and Boston Consulting
----------------	---

Group.

The bank has recently completed its merger with Vijaya Bank and Dena Bank.

भारत का तीसरा सबसे बड़ा ऋणदाता बैंक ऑफ़ बड़ोदा अपने ऋण देने के कार्यों को पूरी तरह से डिजिटल, गृह, कृषि, सूक्ष्म, लघु और मध्यम उद्यम (MSME), व्यक्तिगत और ऑटो ऋण सहित अंजाम देगा।

बैंक ने कॉर्पोरेट कार्यालय में एक नया ऊर्ध्वाधर, डिजिटल ऋण देने वाला विभाग स्थापित किया है, जिसमें रिटेल, एमएसएमई, एग्री एंड सर्विस वर्टिक्स जैसे एनालिटिक्स सेंटर, रिस्क मैनेजमेंट, मार्केटिंग सहित विभिन्न क्रेडिट वर्टिक्स के साथ पर्याप्त ओवरलैप होगा।

इस डिजिटल ऋण देने वाले विभाग को स्थापित करने के लिए बैंक बिग फोर और मैकिन्से और बोस्टन कंसल्टिंग ग्रुप जैसे कुछ सफेद जूता सलाहकारों के पास पहुंच गया है।

बैंक ने हाल ही में विजया बैंक और देना बैंक के साथ अपना विलय पूरा कर लिया है।

eng hin

India's 3rd largest lender, Bank of Baroda will completely digitize its lending operations including home, agriculture, Micro, Small and Medium Enterprises (MSME), personal and auto loans.

The bank has set up a new vertical, digital lending department at the corporate office, which will have substantial overlap with various credit verticals including Retail, MSME, Agri & service verticals like Analytics centre, Risk Management, Marketing.

To set up this digital lending department the bank has reached out to the Big Four and some white shoe consultants like McKinsey and Boston Consulting Group.

The bank has recently completed its merger with Vijaya Bank and Dena Bank.

भारत का तीसरा सबसे बड़ा ऋणदाता बैंक ऑफ़ बड़ोदा अपने ऋण देने के कार्यों को पूरी तरह से डिजिटल, गृह, कृषि, सूक्ष्म, लघु और मध्यम उद्यम (MSME), व्यक्तिगत और ऑटो ऋण सहित अंजाम देगा।

बैंक ने कॉर्पोरेट कार्यालय में एक नया ऊर्ध्वाधर, डिजिटल ऋण देने वाला विभाग स्थापित किया है, जिसमें रिटेल, एमएसएमई, एग्री एंड सर्विस वर्टिक्स जैसे एनालिटिक्स सेंटर, रिस्क मैनेजमेंट, मार्केटिंग सहित विभिन्न क्रेडिट वर्टिक्स के साथ पर्याप्त ओवरलैप होगा।

इस डिजिटल ऋण देने वाले विभाग को स्थापित करने के लिए बैंक बिग फोर और मैकिन्से और बोस्टन कंसल्टिंग ग्रुप जैसे कुछ सफेद जूता सलाहकारों के पास पहुंच गया है।

बैंक ने हाल ही में विजया बैंक और देना बैंक के साथ अपना विलय पूरा कर लिया है।

Q-120

Which railway station has introduced baggage sanitization and wrapping machine recently?

eng/eng

हाल ही में किस रेलवे स्टेशन ने बैगेज सैनिटाइजेशन और रैपिंग मशीन की शुरुआत की है?

01. Ahmedabad Railway station / अहमदाबाद रेलवे स्टेशन 02. Chennai Railway station / चेन्नई रेलवे स्टेशन
03. Mumbai Railway station / मुंबई रेलवे स्टेशन 04. Kanpur Railway station / कानपुर रेलवे स्टेशन
05. Mangalore Railway station / मंगलौर रेलवे स्टेशन

Q-120

Which railway station has introduced baggage sanitization and wrapping machine recently?

eng hin

हाल ही में किस रेलवे स्टेशन ने बैगेज सैनिटाइजेशन और रैपिंग मशीन की शुरुआत की है?

01. Ahmedabad Railway station / अहमदाबाद रेलवे स्टेशन 02. Chennai Railway station / चेन्नई रेलवे स्टेशन
03. Mumbai Railway station / मुंबई रेलवे स्टेशन 04. Kanpur Railway station / कानपुर रेलवे स्टेशन
05. Mangalore Railway station / मंगलौर रेलवे स्टेशन

Solution for Question 120

Ans Key: 1

eng/eng

Ahmedabad Railway Division launched the Baggage Sanitization and Wrapping Machine at the Ahmedabad Railway station to ensure safe travel for the passengers during the Pandemic. The Ahmedabad Railway Division has introduced the machine after considering the increase in transport and travel services after Unlock-1 Phase.

अहमदाबाद रेलवे विभाग ने महामारी के दौरान यात्रियों के लिए सुरक्षित यात्रा सुनिश्चित करने के लिए अहमदाबाद रेलवे स्टेशन पर बैगेज सैनिटाइजेशन और रैपिंग मशीन की शुरुआत की। अहमदाबाद रेलवे डिवीजन ने अनलॉक -1 चरण के बाद परिवहन और यात्रा सेवाओं में वृद्धि को देखते हुए मशीन की शुरुआत की।

eng hin

Ahmedabad Railway Division launched the Baggage Sanitization and Wrapping Machine at the Ahmedabad Railway station to ensure safe travel for the passengers during the Pandemic. The Ahmedabad Railway Division has introduced the machine after considering the increase in transport and travel services after Unlock-1 Phase.

अहमदाबाद रेलवे विभाग ने महामारी के दौरान यात्रियों के लिए सुरक्षित यात्रा सुनिश्चित करने के लिए अहमदाबाद रेलवे स्टेशन पर बैगेज सैनिटाइजेशन और रैपिंग मशीन की शुरुआत की। अहमदाबाद रेलवे डिवीजन ने अनलॉक -1 चरण के बाद परिवहन और यात्रा सेवाओं में वृद्धि को देखते हुए मशीन की शुरुआत की।

Q-121

eng/eng

नीचे दिया गया प्रत्येक वाक्य चार भागों में बांटा गया है जिन्हें (1), (2), (3) और (4) क्रमांक दिए गये हैं। आपको यह देखना है कि वाक्य के किसी भाग में व्याकरण, भाषा, वर्तनी, शब्दों के गलत प्रयोग या इसी तरह की कोई त्रुटि अगर होगी तो वाक्य के किसी एक भाग में ही होगी। उस भाग का क्रमांक ही उत्तर है। अगर वाक्य त्रुटिरहित है तो उत्तर (5) अर्थात् 'कोई अशुद्धि नहीं' दीजिए।

आप (1)/ बड़ (2)/ कमट (3)/ व्यक्ति हैं। (4)/ कोई अशुद्धि नहीं (5)

01. 1 02. 2
03. 3 04. 4
05. 5

Q-121
eng hin Read each part of the sentence to find out if there is any error in it. The error, if any, will be in one part of the sentence. The number of that part is the answer. If there is no error, mark your answer as (5).

The health department and municipal corporation must act (1)/ in time to check problems (2)/ being faced by residents so that there are none more (3)/ outbreaks of diseases (4)/ No error (5)

01. 1
02. 2
03. 3
04. 4
05. 5

Solution for Question 121 Ans Key: 3

eng hin ‘No’ should replace ‘none’ - an adverb is required to qualify ‘more’

Q-122
eng/eng नीचे दिया गया प्रत्येक वाक्य चार भागों में बांटा गया है जिन्हें (1),(2),(3) और (4) क्रमांक दिए गये हैं। आपको यह देखना है कि वाक्य के किसी भाग में व्याकरण, भाषा, वर्तनी, शब्दों के गलत प्रयोग या इसी तरह की कोई त्रुटि अगर होगी तो वाक्य के किसी एक भाग में ही होगी। उस भाग का क्रमांक ही उत्तर है। अगर वाक्य त्रुटिरहित है तो उत्तर (5) अर्थात् ‘कोई अशुद्धि नहीं’ दीजिए।

आकाश पर (1)/ पक्षी (2)/ उड़ (3)/ रहे थे। (4)/ कोई अशुद्धि नहीं (5)

01. 1
02. 2
03. 3
04. 4
05. 5

Q-122
eng hin Read each part of the sentence to find out if there is any error in it. The error, if any, will be in one part of the sentence. The number of that part is the answer. If there is no error, mark your answer as (5).

The government of India have drafted (1)/ a manual for municipal solid waste management (2)/ to help municipal bodies (3)/ to manage their waste (4) / No error (5)

01. 1
02. 2
03. 3
04. 4
05. 5

Solution for Question 122 Ans Key: 1

eng hin ‘Has’ should replace ‘have’- ‘The government’ is a singular noun.

Q-123
eng/eng नीचे दिया गया प्रत्येक वाक्य चार भागों में बांटा गया है जिन्हें (1),(2),(3) और (4) क्रमांक दिए गये हैं। आपको यह देखना है कि वाक्य के किसी भाग में व्याकरण, भाषा, वर्तनी, शब्दों के गलत प्रयोग या इसी तरह की कोई त्रुटि अगर होगी तो वाक्य के किसी एक भाग में ही होगी। उस भाग का क्रमांक ही उत्तर है। अगर वाक्य त्रुटिरहित है तो उत्तर (5) अर्थात् ‘कोई अशुद्धि नहीं’ दीजिए।

कोई आपका (1)/ कथन (2)/ व्यावहारिक (3)/ नहीं है। (4)/ कोई अशुद्धि नहीं (5)

01. 1
02. 2
03. 3
04. 4
05. 5

Q-123
eng hin Read each part of the sentence to find out if there is any error in it. The error, if any, will be in one part of the sentence. The number of that part is the answer. If there is no error, mark your answer as (5).

The much await discount season (1)/ is back and the shopping lovers (2)/ are thronging to the malls (3)/ to get the best bargains (4)/ No error (5)

01. 1
02. 2
03. 3
04. 4
05. 5

Solution for Question 123 Ans Key: 1

eng hin ‘Awaited’ should be used- an adjective is required.

Q-124
eng/eng नीचे दिया गया प्रत्येक वाक्य चार भागों में बांटा गया है जिन्हें (1), (2), (3) और (4) क्रमांक दिए गये हैं। आपको यह देखना है कि वाक्य के किसी भाग में व्याकरण, भाषा, वर्तनी, शब्दों के गलत प्रयोग या इसी तरह की कोई त्रुटि अगर होगी तो वाक्य के किसी एक भाग में ही होगी। उस भाग का क्रमांक ही उत्तर है। अगर वाक्य त्रुटिरहित है तो उत्तर (5) अर्थात् ‘कोई अशुद्धि नहीं’ दीजिए।

पुरस्कार (1)/ पाकर (2)/ मैं (3)/ धन्य हो उठा। (4)/ कोई अशुद्धि नहीं (5)

01. 1
02. 2

03. 3 04. 4

05. 5

Q-124 Read each part of the sentence to find out if there is any error in it. The error, if any, will be in one part of the sentence. The number of that part is the answer. If there is no error, mark your answer as (5).

With arrival of monsoon, Raipur, which has (1)/ considerably high population of snakes (2)/ has witnessed a spurt (3)/ in its sight in residential areas and households (4)/ No error (5)

01. 1

02. 2

03. 3

04. 4

05. 5

Solution for Question 124

Ans Key: 4

eng hin 'Sighting' should replace 'sight' - 'sighting' means 'viewing'

Q-125 नीचे दिया गया प्रत्येक वाक्य चार भागों में बांटा गया है जिन्हें (1),(2),(3) और (4) क्रमांक दिए गये हैं। आपको यह देखना है कि वाक्य के किसी भाग में व्याकरण, भाषा, वर्तनी, शब्दों के गलत प्रयोग या इसी तरह की कोई त्रुटि अगर होगी तो वाक्य के किसी एक भाग में ही होगी। उस भाग का क्रमांक ही उत्तर है। अगर वाक्य त्रुटिरहित है तो उत्तर (5) अर्थात् 'कोई अशुद्धि नहीं' दीजिए।

इस (1)/ कार्य में (2)/ कठिनाईयाँ आना (3)/ स्वाभाविक था। (4)/ कोई अशुद्धि नहीं (5)

01. 1

02. 2

03. 3

04. 4

05. 5

Q-125 Read each part of the sentence to find out if there is any error in it. The error, if any, will be in one part of the sentence. The number of that part is the answer. If there is no error, mark your answer as (5).

Ayurveda, houseboats and tea plantations aside (1)/ Kerala tourism is looking for ways (2)/ to reinvent and introduce (3)/ niche products to foreign markets (4)/ No error (5)

01. 1

02. 2

03. 3

04. 4

05. 5

Solution for Question 125

Ans Key: 5

eng hin No error

Passage for Question 126, 127, 128, 129, 130, 131, 132, 133, 134, 135 (ST-2054 RRB PO MAINS (126-135) F 2020)

eng/eng Passage

नीचे दिए गए परिच्छेद में कुछ रिक्त स्थान छोड़ दिए गए हैं तथा उन्हें प्रश्न संख्या से दर्शाया गया है ये संख्याएं परिच्छेद के नीचे मुद्रित हैं, और प्रत्येक के सामने (1), (2), (3), (4) और (5) विकल्प दिये गए हैं। इन पाँचों में से कोई एक इस रिक्त स्थान को पूरे परिच्छेद के संदर्भ में उपयुक्त ढंग से पूरा कर देता है। आपको वह विकल्प ज्ञात करना है, और उसका क्रमांक ही उत्तर के रूप में दर्शाना है। आपको दिए गए विकल्पों में से सबसे उपयुक्त का चयन करना है।

विवेकानन्द संघर्ष से नहीं भागे थे, विजय के क्षण में भी नहीं विमुख हुए। उनका कहना था कि यह मेरा नहीं मेरे लक्ष्य का सम्मान है और ईश्वर ही जिसका एकमात्र (A) था, ऐसे एक अपरिग्रही, अनाम, अनिकेतन सन्यासी के राष्ट्रापी सम्मान के असाधारण (B) को उन्होंने सार्वजनिक रूप से स्वीकार किया। उन्होंने अपने पुनीत अभियान की (C) के लिए अपने साधन संगठित किए। वह स्वयं रूग्ण थे और उन्हें (D) हितकर होता, परन्तु उन्होंने अतिमानवीय परिश्रम किया। वह जिस पथ से गए (E) व्याख्यानों द्वारा अपनी ज्योति चारों ओर प्रसारित करते गए, भारत ने ऐसे (F) एवं मधुर भाषण इससे पहले कभी नहीं सुने थे, अतएव सारा देश (G) हो उठा। वह धरती के दूसरे लोक का अभियान करके एक सम्पूर्ण (H) लेकर लौटे थे। पश्चिम के संपर्क ने भारत की आत्मा का सच्चा (I) करने की उन्हें और भी सामर्थ्य प्रदान कर दी थी। दूसरी ओर (J) के पौरुष और वैविध्य के लिए भी उनके मन में आदर जागृत हुआ था। दोनों ही उन्हें एक समान महत्वपूर्ण प्रतीत हुए क्योंकि दोनों परस्पर पूरक थे।

eng hin Passage

In the following passage there are blanks each of which has been numbered. These numbers are given below the passage and against each five words have been suggested, one of which fits the blanks appropriately. Find out the appropriate word in each case.

With Nagpanchami around the corner, forest department officials along with city-based NGOs have undertaken a drive to curb the (A) of capturing and torturing snakes. Every year, hundreds of snakes are captured on eve of the festival, which this year (B) on August 1.

Live snakes, usually spectacled cobras, are caught and defanged. Their mouths are stitched up in order to make them starve for weeks, preceding Nagpanchami. When (C), snakes drink whatever is (D) to them because they need to rehydrate as it goes without food for weeks.

(E) by the rituals, snakes are always fed milk, which is often dangerous if not lethal, say people, who have been actively involved with rescue and conservation of snakes for over eight years.

This year, groups like People for Animals, Friends of Snakes Society and Blue Cross of Hyderabad, are trying to make all efforts to save snakes, which are brought in to the city for this (F) from various forests across the state.

Last year as many as 20 snakes, including seven pythons were rescued from snake charmers by these organizations. People should stick to worshipping (G) or

replicas of snakes on Nagpachami as no scripture makes it binding on us to worship **(H)** snakes.

Venomous snakes, including the Indian Cobra, are protected under the Indian Wildlife Protection Act (1972) and catching snakes or causing injury to them is a legal **(I)** punishable under the Act. Officials from the forest department and other activists are now trying to create greater sensitivity about snakes and awareness about the wrong practices. Officials said they would welcome citizens to contact them and share information on snake charmers or any case of **(J)** towards these reptiles.

Q-126 (A) के लिए सही विकल्प का चयन करें।

eng/eng

- | | |
|-----------|------------|
| 01. प्रबल | 02. उपकरण |
| 03. सम्बल | 04. अधिकरण |
| 05. सहारा | |

Q-126 Choose the correct option for (A).

eng hin

- | | |
|---------------|--------------|
| 01. customary | 02. ease |
| 03. menace | 04. vivacity |
| 05. attending | |

Solution for Question 126

Ans Key: 3

eng hin

Menace
For other options:
Customary (adj)- routine
Vivacity (n)- liveliness

Q-127 (B) के लिए सही विकल्प का चयन करें।

eng/eng

- | | |
|--------------|--------------|
| 01. लक्ष्य | 02. अभिप्राय |
| 03. प्रयोज्य | 04. विशेषता |
| 05. तथ्य | |

Q-127 Choose the correct option for (B).

eng hin

- | | |
|------------|-----------|
| 01. serves | 02. falls |
| 03. calls | 04. known |
| 05. meant | |

Solution for Question 127

Ans Key: 2

eng hin

Falls

Q-128 (C) के लिए सही विकल्प का चयन करें।

eng/eng

- | | |
|----------------|---------------|
| 01. प्रगति | 02. क्षमता |
| 03. सामर्थ्य | 04. प्रस्तुति |
| 05. प्रस्तावित | |

Q-128 Choose the correct option for (C).

eng hin

- | | |
|---------------|--------------|
| 01. starved | 02. provoke |
| 03. suspended | 04. educated |
| 05. suspect | |

Solution for Question 128

Ans Key: 1

eng hin

Starved
For other options:
Provoke (v)- arouse
Suspended (v)- lifted in the air

Q-129 (D) के लिये सही विकल्प का चयन करें।

eng/eng

- | | |
|---------------|------------|
| 01. स्वास्थ्य | 02. आराम |
| 03. अभिराम | 04. अविराम |

05. विश्राम

Q-129 Choose the correct option for (D)

eng hin

01. actualized

02. demanded

03. harmed

04. traced

05. offered

Solution for Question 129

Ans Key: 5

eng hin

Offered

For other options:

Actualized (v)- realized

Traced (v)- located

Q-130 (E) के लिये सही विकल्प का चयन करें।

eng/eng

01. विच्छिन्न

02. अवसन्न

03. विलक्षण

04. नैसर्गिक

05. अप्रसन्न

Q-130 Choose the correct option for (E)

eng hin

01. reading

02. consuming

03. going

04. influencing

05. following

Solution for Question 130

Ans Key: 3

eng hin

Going

For other options:

Consuming (Adj.)- (of a feeling) completely filling one's mind and attention.

Influence (v)- have an effect on.

Q-131 (F) के लिये सही विकल्प का चयन करें।

eng/eng

01. मृदु

02. तेजस्वी

03. तपस्वी

04. ओजस्वी

05. कठोर

Q-131 Choose the correct option for (F)

eng hin

01. convenience

02. timeliness

03. possibility

04. occasion

05. occurrence

Solution for Question 131

Ans Key: 4

eng hin

Occasion

For other options:

Convenience (n)- the state of being able to proceed with something without difficulty.

Occurrence (n)- the fact or frequency of something happening.

Q-132 (G) के लिये सही विकल्प का चयन करें।

eng/eng

01. स्तब्ध

02. आन्दोलित

03. निस्तब्ध

04. विह्वल

05. उत्प्लावन

Q-132 Choose the correct option for (G)

eng hin

01. desire

02. idols

03. footmarks

04. epics

05. shadows

Solution for Question 132

Ans Key: 2

eng hin	Idols For other options: Epic (n)- a long film, book, or other work portraying heroic deeds and adventures or covering an extended period of time.
----------------	--

Q-133 (H) के लिये सही विकल्प का चयन करें।

eng/eng

- | | |
|------------|------------|
| 01. विभाव | 02. प्रयोग |
| 03. अनुभव | 04. प्रभाव |
| 05. अनुभाव | |

Q-133 Choose the correct option for (H)

eng hin

- | | |
|-------------|-----------|
| 01. trained | 02. venom |
| 03. wildly | 04. swift |
| 05. live | |

Solution for Question 133

Ans Key: 5

eng hin Live
For other options:
Venom (n)- poison
Swift (adj)- quick

Q-134 (I) के लिये सही विकल्प का चयन करें।

eng/eng

- | | |
|-------------|-------------|
| 01. अनुसरण | 02. अनुभावन |
| 03. अनुभावन | 04. अनुधावन |
| 05. नकल | |

Q-134 Choose the correct option for (I)

eng hin

- | | |
|---------------|-------------|
| 01. facility | 02. offence |
| 03. proceeds | 04. temper |
| 05. dimension | |

Solution for Question 134

Ans Key: 2

eng hin Offence
For other options:
Temper (n)- attitude
Proceeds (n)- money obtained from an event.

Q-135 (J) के लिये सही विकल्प का चयन करें।

eng/eng

- | | |
|------------|---------------|
| 01. पूर्व | 02. प्रत्यक्ष |
| 03. पश्चिम | 04. अतीत |
| 05. अपूर्व | |

Q-135 Choose the correct option for (J)

eng hin

- | | |
|---------------|--------------|
| 01. alacrity | 02. sham |
| 03. brutality | 04. locality |
| 05. humanity | |

Solution for Question 135

Ans Key: 3

eng hin Brutality (n)- great cruelty.
For other options:
Alacrity (n)- alertness
Sham (n)- imitation

Q-136 इस गद्यांश में बताया गया है-

eng/eng

- | | |
|----------------------------------|---|
| 01. मानो के बारे में | 02. सुकिया के बारे में |
| 03. विकल्प 1, 2 और 4 के बारे में | 04. भट्टे में ईंटों के पकने व उनमें आए परिवर्तन के बारे में |

05. इनमें से कोई नहीं

Q-136 Which of the Phrases (1), (2), (3) and (4) given below the sentence should replace the phrase given in bold in the sentence to make it grammatically correct. If the sentence is correct as it is given and no correction is required, mark (5) as the answer.

eng hin

Excess to education continues to remain difficult for the children of wastepickers whose relentless efforts and petitions have fallen on deaf ears.

01. Excess of educate continuing

02. Access of educates remained

03. Access to education continues

04. Excessive to educated remaining

05. No correction required

Solution for Question 136

Ans Key: 3

eng hin

‘Access’ is followed by ‘to’

Q-137 “एक घर में कितनी ईंटे लग जाती हैं?” ये कथन किसका है ?

eng/eng

01. मानो का

02. भट्टे वाले का

03. सुकिया का

04. तीनों में से किसी का भी नहीं

05. इनमें से कोई नहीं

Q-137 Which of the Phrases (1), (2), (3) and (4) given below the sentence should replace the phrase given in bold in the sentence to make it grammatically correct. If the sentence is correct as it is given and no correction is required, mark (5) as the answer.

eng hin

Road accidents in the old city are one of the reasons for communal riots that **often end on in injuries** and property damage.

01. End up in injuries

02. Ended in injurious

03. Ends up of injury

04. Ended in at injurious

05. No correction required

Solution for Question 137

Ans Key: 1

eng hin

‘End up in’ means ‘results in’

Q-138 ‘दिन-रात’ में कौन-सा समास है ?

eng/eng

01. दिन की रात - तत्पुरुष

02. दिन और रात - कर्मधारय

03. दिन-रात जैसे-बहुब्रीहि

04. दिन रात तक - अव्ययीभाव

05. इनमें से कोई नहीं

Q-138 Which of the Phrases (1), (2), (3) and (4) given below the sentence should replace the phrase given in bold in the sentence to make it grammatically correct. If the sentence is correct as it is given and no correction is required, mark (5) as the answer.

eng hin

Elaborate security arrangements were made on the occasion to **avert any untoward incident** during the celebration.

01. Averted any untoward incident

02. Averts many untoward incident

03. Avert any untoward incidentally

04. Averted many untoward incidental

05. No correction required

Solution for Question 138

Ans Key: 5

eng hin

To takes v1 hence the correct verb form is ‘avert’.
Avert any untoward (inconvenient) incident, is correct.

Q-139 भट्टा खुलने पर क्या होता है ?

eng/eng

01. मजदूर से लेकर मालिक तक की बेचैन सांसों को राहत मिलती थी।

02. ईंटों को बाहर निकालने का काम शुरू होता था।

03. मालिक चैन की सांस लेता था

04. विकल्प 1 और 2 दोनों

05. इनमें से कोई नहीं

Q-139 Which of the Phrases (1), (2), (3) and (4) given below the sentence should replace the phrase given in bold in the sentence to make it grammatically correct. If the sentence is correct as it is given and no correction is required, mark (5) as the answer.

eng hin

The sanitary workers, instead of picking up and properly disposing of the garbage, often **set it on fire**.

01. Sets their on fire

02. Set on fire them

03. Sets their fire at
04. Set them on fire
05. No correction required

Solution for Question 139

Ans Key: 4

eng hin 'Set on fire' means 'make something burn'

Q-140 'देखते-देखते' शब्द है-

eng/eng

01. विलोम
02. पुनरुक्त शब्द
03. श्रुतिसाभिन्नार्थक
04. समानार्थी
05. इनमें से कोई नहीं

Q-140 Which of the Phrases (1), (2), (3) and (4) given below the sentence should replace the phrase given in bold in the sentence to make it grammatically correct. If the sentence is correct as it is given and no correction is required, mark (5) as the answer.

eng hin

With the strengthening of monsoon, the incidents of collapse of houses under construction **seemed to being on the rise**.

01. Seemed to been on the rose
02. Seem to be on the rise
03. Seem to being on the rising
04. Seems to been on a risen
05. No correction required

Solution for Question 140

Ans Key: 2

eng hin 'On the rise' means 'rising'.

Passage for Question 141, 142, 143, 144, 145 (ST-2054 RRB PO MAINS (141-145) F 2020)

eng/eng Passage

नीचे (A), (B), (C), (D), (E) और (F) छः कथन दिए गए हैं। इन सभी कथनों (A), (B), (C), (D), (E) और (F) को इस तरह व्यवस्थित करिए कि छहों कथनों का एक अर्थपूर्ण परिच्छेद बन जाए। फिर उसके बाद दिए गए प्रश्नों का उत्तर दीजिए।

- (A) शराब पीना स्वास्थ्य के लिए अत्यन्त हानिकारक है।
(B) आधुनिक युग में सुरापान से भयंकर रोग अत्यन्त तीव्रता से फैलता जा रहा है।
(C) मदिरा सेवन का व्यक्ति के मस्तिष्क पर भी दुष्प्रभाव पड़ता है।
(D) भारतीय समाज युग युगान्तरों से इस अभिशाप से ग्रस्त रहा है।
(E) शराब में अल्कोहल होता है जो स्वास्थ्य का विनाश करने में अत्यन्त समर्थ है।
(F) परन्तु वर्तमान युग में मद्य-पान को व्यक्ति जीवन की अनिवार्य आवश्यकता समझने लगा है।

eng hin Passage

Rearrange the following sentences (A), (B), (C), (D), (E), (F) and (G) in the proper sequence to form a meaningful paragraph, then answer the questions given below them.

- (A) CSAT is meant to test logical reasoning, problem solving skills, analytical abilities, basic numeracy and English skills of 10th class levels.
(B) They hit at the heart of rote learning.
(C) These are tested in almost every serious examination in the world,
(D) India is rapidly globalizing and its various institutions are evolving; as such, it needs its finest minds in the civil services.
(E) And are essential to assess one's scholastic skills and are absolutely critical for civil services.
(F) Any examination should have only one criteria, namely to pick the best.
(G) If someone cannot solve 10th class Maths and reasoning, they certainly should not find a place in India's civil services at all.

Q-141 परिच्छेद में पहले दो वाक्य कौन-से हैं?

eng/eng

01. B और F
02. B और D
03. A और F
04. A और B
05. इनमें से कोई नहीं

Q-141 Which of the following would be the **SECOND** sentence after rearrangement?

eng hin

01. C
02. F
03. A
04. D
05. G

Solution for Question 141

Ans Key: 2

eng hin The arrangement is DFAGCEB. The paragraph discusses the much debated issue of what should be the pattern of CSAT exam.

Q-142 परिच्छेद में 'F' के बाद कौन सा वाक्य है ?

eng/eng

01. C

02. F
03. D

04. B
05. A

Q-142 Which of the following would be the **LAST** sentence after rearrangement?

eng hin

01. E

02. A
03. F

04. C
05. B

Solution for Question 142

Ans Key: 5

eng hin The arrangement is DFAGCEB. The paragraph discusses the much debated issue of what should be the pattern of CSAT exam.

Q-143 परिच्छेद में तीसरा वाक्य कौन-सा है ?

eng/eng

01. C

02. D
03. F

04. B
05. इनमें से कोई नहीं

Q-143 Which of the following would be the **FOURTH** sentence after rearrangement?

eng hin

01. B

02. E
03. G

04. D
05. A

Solution for Question 143

Ans Key: 3

eng hin The arrangement is DFAGCEB. The paragraph discusses the much debated issue of what should be the pattern of CSAT exam.

Q-144 परिच्छेद का अन्त किस वाक्य से होगा ?

eng/eng

01. B

02. F
03. D

04. A
05. C

Q-144 Which of the following would be the **FIRST** sentence after rearrangement?

eng hin

01. C

02. B
03. F

04. E
05. D

Solution for Question 144

Ans Key: 5

eng hin The arrangement is DFAGCEB. The paragraph discusses the much debated issue of what should be the pattern of CSAT exam.

Q-145 परिच्छेद में पांचवा वाक्य कौन-सा है ?

eng/eng

01. A

02. D
03. G

04. C
05. B

Q-145 Which of the following would be the **FIFTH** sentence after rearrangement?

eng hin

01. A

02. D
03. G

04. C
05. B

Solution for Question 145

Ans Key: 4

eng hin The arrangement is DFAGCEB. The paragraph discusses the much debated issue of what should be the pattern of CSAT exam.

Q-146 'आडम्बर शब्द का क्या अर्थ है ?

eng/eng

01. तड़क-भड़क
02. संस्कृति
03. अवास्तविकता
04. अशिष्टता
05. ऊपरी दिखावा

Q-146 In the following sentence, there is a blank space given. Below it, five words have been denoted by numbers (1), (2), (3), (4) and (5). Find out which word can be filled up in the blank to make the sentence meaningfully complete.

Every year when floodwaters enter villages, school buildings serve as _____for the affected people.

01. protected
02. accommodate
03. entertained
04. makeshift
05. shelters

Solution for Question 146

Ans Key: 5

eng hin

For other options:
accommodate (v)- help, assist
makeshift (adj.)- temporary, make-do

Q-147 कुछ लोगों की दृष्टि में वास्तविक पुण्य है ?

eng/eng

01. धन कमाना
02. धार्मिक स्थल बनवाना
03. विद्वानों का सम्मान करना
04. दिखावा करना
05. इनमें से कोई नहीं

Q-147 In the following sentence, there is a blank space given. Below it, five words have been denoted by numbers (1), (2), (3), (4) and (5). Find out which word can be filled up in the blank to make the sentence meaningfully complete.

Increased _____and vehicular population have led to a rise in sound pollution.

01. computerization
02. urbanization
03. admission
04. populated
05. chaotic

Solution for Question 147

Ans Key: 2

eng hin

Urbanization (n)- the process of making an area more urban.
For other options:
Chaotic (adj)- confusing

Q-148 दान-दक्षिणा के पवित्र रूप के भ्रष्ट होने का क्या कारण है ?

eng/eng

01. दान के उपयुक्त पात्रों का अभाव
02. दान में दी गई वस्तु की निरर्थकता
03. भिक्षुओं की इच्छाओं की असीमितता
04. दाताओं की स्वार्थी एवं ढोंगी मनोवृत्ति
05. इनमें से कोई नहीं

Q-148 In the following sentence, there is a blank space given. Below it, five words have been denoted by numbers (1), (2), (3), (4) and (5). Find out which word can be filled up in the blank to make the sentence meaningfully complete.

The crude lac is _____with titanium powder used by jewelers to make artificial jewelry.

01. separation
02. transformed
03. juggle
04. mixed
05. tuning

Solution for Question 148

Ans Key: 4

eng hin

Mixed
For other options:
Juggle (v)- mislead

Q-149 धार्मिक स्थलों की सार्थकता किसमें है ?

eng/eng

01. दलितों के उद्धार में
02. औद्योगिक विकास में

03. समाज कल्याण में

04. दुष्प्रवृत्तियों के निवारण में

05. आर्थिक शोषण से मुक्ति में

Q-149 In the following sentence, there is a blank space given. Below it, five words have been denoted by numbers (1), (2), (3), (4) and (5). Find out which word can be filled up in the blank to make the sentence meaningfully complete.

The _____ of musicians lies in their ability to connect with hearts of their audience and move their spirits

01. realization

02. inferiority

03. glorious

04. success

05. strike

Solution for Question 149

Ans Key: 4

eng hin Success
For other options:
Glorious (adj)- having glory

Q-150 गद्यांश का उपयुक्त शीर्षक होगा

eng/eng

01. वास्तविक पुण्य

02. स्वस्थ समाज का निर्माण

03. मंदिर-मस्जिद

04. आडम्बरहीन समाज

05. इनमें से कोई नहीं

Q-150 In the following sentence, there is a blank space given. Below it, five words have been denoted by numbers (1), (2), (3), (4) and (5). Find out which word can be filled up in the blank to make the sentence meaningfully complete.

The inspections have exposed the fact that most restaurants _____ a large quantity of the waste at public places

01. discard

02. retain

03. protest

04. remove

05. surrender

Solution for Question 150

Ans Key: 1

eng hin Discard
For other options:
Retain (v)- keep

Passage for Question 151, 152, 153, 154, 155 (ST-2054 RRB PO MAINS (151-155) F 2020)

eng/eng Passage

निम्न अवतरण को ध्यानपूर्वक पढ़िए और निम्नलिखित प्रश्नों का उत्तर दीजिए-

समस्त संसार के भिन्न-भिन्न राष्ट्रों और जातियों के इतिहास को देखने से मालूम हो जाता है कि राष्ट्रीयता का भाषा और साहित्य के साथ बहुत ही घनिष्ठ और गहरा सम्बन्ध है। ऐसा होना स्वाभाविक है, क्योंकि राष्ट्रीयता और जातीयता के अंगों में सबसे अधिक आवश्यक अंग एकता है और वह एकता किसी विषय विशेष में नहीं। वह एकता जितनी व्यापक होगी, उतनी ही राष्ट्रीयता में स्थिरता होगी और वह शक्तिशाली होगी। भावों की एकता और सब प्रकार की एकताओं का मूल है। यह भावों की एकता तभी हो सकती है, जब विभिन्न व्यक्ति, जिनके द्वारा राष्ट्रीयता का निर्माण होता है, अपने भावों को एक-दूसरे पर व्यक्त कर सकें। इस महान कार्य के लिए एक भाषा की अत्यन्त आवश्यकता है। साहित्य क्या है ? साहित्य मानव-जाति के उच्च से उच्च तथा सुन्दर से सुन्दर विचारों और भावों का वह गुच्छ है जिसकी बाहरी सुन्दरता और भीतरी सुगन्ध-दोनों ही मन को मोह लेते हैं। कोई जाति तब तक बड़ी नहीं हो सकती, जब तक कि उसके भाव और विचार उन्नत न हों। जब भाव और विचार उन्नत हो, तब उनका विकास उस जाति साहित्य के रूप में ही हो सकता है, इसलिए जाति और राष्ट्र के उत्थान के साथ-साथ उस जाति या राष्ट्र के साहित्य की भी उन्नति और उत्थान होना स्वाभाविक है। इस प्रकार साहित्य की अवनति उस जाति के पतन का अटल और अटूट प्रमाण है।

भारत के इतिहास को लीजिए। महाभारत, रामायण और उपनिषद् अवश्य ऐसे समय में लिखे गए थे, जब यह देश बहुत उन्नत था। यह कल्पना असम्भव नहीं तो दुष्कर अवश्य है कि ऐसे ग्रन्थ-रत्न किसी असभ्य, बर्बर जाति के आचार्यों द्वारा लिखे गए हों। जब बौद्धों का राज्य भारत में एक छोर से दूसरे छोर तक फैल गया, और उनका प्रभुत्व तथा गौरव भारतवर्ष के बाहर भी फैल गया, तो पालि साहित्य की उन्नति भी उस साम्राज्य की उन्नति के साथ-साथ होती गयी।

eng hin Passage

Read the following passage carefully and answer the questions given below it. Certain words have been given in **bold** to help you locate them while answering some questions.

The Supreme Court has called for a national debate on euthanasia. It has issued notices to State Governments seeking their opinion on the issue within eight weeks. The debate was stirred by Common Cause, a non-Government organisation, which petitioned the court that people with advanced terminal diseases, who are likely to enter a permanent vegetative state, have the right to execute a living **will** refusing medical treatment.

However, the Union Government is opposed to legalising mercy killings and says that the judiciary does not have the right to introduce a law that gives citizens the right to die. Only Parliament or a State Legislature can make such a law. Simply put, euthanasia is defined as the act of intentionally ending a person's life so as to help relieve suffering or pain. In India, passive euthanasia has been legal since 2011 when the Supreme Court allowed the withdrawal of life support for patients who are in a permanent vegetative state. Active euthanasia, however, is still illegal, and this includes using lethal compounds to end a person's life. It is worthwhile to

study the position of other countries on euthanasia. In some countries, euthanasia is legal. Belgium is one of them. Euthanasia has been legal in this European state since September 2002. Belgian law states that two doctors need to be involved in the process, and a psychologist as well if the competency of the patient is in doubt. Both the patient and doctor decide on the best course of action to end the patient's life, which could be through a **prescribed** overdose of pills or a lethal injection. More recently, in May 2010, Colombia ruled that no one would be held criminally **accountable** for ending the life of a terminally ill patient. In effect, it authorised euthanasia. The court went on to further define the term 'terminally ill' as a person with AIDS, kidney failure, liver failure, cancer and any other conditions that come with extreme suffering. It clarified, however, that, "Euthanasia laws in Colombia do not authorise intentionally ending the lives of patients suffering from degenerative diseases such as Lou Gehrig's disease, Alzheimer's and Parkinson's".

In Ireland, active euthanasia is illegal. However, it is not illegal to withdraw life support or other treatments if the patient or a next of kin requests for it. According to a poll published in the Irish Times, 57 per cent of adults want to see doctor-assisted suicide legalised in the case of a patient requesting it. Luxembourg has also legalised euthanasia. The law allows doctors to end the lives of terminally ill patients. It requires that such a decision be reached with the approval of a panel of experts and two doctors. In Mexico, although active euthanasia is illegal, the law allows for passive euthanasia. Close relatives of a terminally ill, of the unconscious patient or the patient himself or herself can refuse further treatment. This law has been applicable since 2008, and a similar law which sought to have some extended provisions to decriminalise active euthanasia is pending approval. In Netherlands, euthanasia and doctor-assisted suicide are both legal. Although the law was passed in 2002, the courts have permitted the practice since the 1980s and doctors, generally, are not obligated to keep patients alive contrary to the latter's wishes. For over 20 years, the Netherlands courts have not been prosecuting physicians who facilitate euthanasia. In France, there is no law banning doctor-assisted suicide. But the Government bans publications that advise on suicide. In Italy, mercy killing is legally forbidden.

Euthanasia is also legal in some States in the US such as Oregon, Washington, Montana and Vermont. In Oregon, euthanasia was legalised under the Death With Dignity Act which was implemented in 1997. The law allows patients who are terminally ill to request for lethal medication. The requirements are that the patient must have made two verbal requests and another in writing with a witness for the doctors, to end his or her life. Two doctors also need to agree on the diagnosis, the prognosis of the disease, and the capability of the patient. The patient will have to personally administer the medication. Washington became the second US State to legalise euthanasia in 2008, and this was done via the Washington Death with Dignity Act. The Washington law is similar to the Oregon law as it also requires that the patient make two oral requests and a written one as well. The requests need to be made 15 days apart, and the patient must be suffering from a terminally ill condition with a life expectancy of six months or less. In Montana, euthanasia law was passed in December 2009 by the Montana First Judicial District Court in a case known as Baxter versus Montana. The ruling stated that a competent patient had the right to die with dignity. The law allows the physician to assist the patient by providing a prescription lethal medication which the patient will take on their own.

On May 20th, 2013, Vermont also joined the other States that had legalised euthanasia. The law was introduced through Act 39 of the End of Life Choices. It requires that the patient provide two oral and one written request. It is important to note that the patient needs to be a resident in all of the above states to participate in euthanasia. In Switzerland, Oignitas, a Zurich-based organisation that helps people end their lives has faced severe critics, has been blamed for making the country a destination for suicide tourism. It has about 7,000 members from across the world and, since 1998, has helped 1,800 people from different countries end their lives peacefully. However, there is a great possibility of the misuse of pro-euthanasia laws. It is worthwhile to consider how the elderly have been abused, even murdered, over property disputes etc in this country. Euthanasia may also take the form of murder, either with the connivance of doctors or on the basis of **bogus** documentation. While the idea of euthanasia is inspired by the noble objective of alleviating pain, its implementation can create problems.

Q-151 उक्त अवतरण का उपयुक्त शीर्षक क्या हो सकता है ?

eng/eng

01. राष्ट्र और जाति
02. राष्ट्रीयता और जातीयता
03. राष्ट्रीय एकता के निर्माण में भाषा और साहित्य की भूमिका
04. भावों और विचारों की एकता का महत्व
05. राष्ट्रीय एकता

Q-151 Which of the following is the author's view on the issue of euthanasia?

eng hin

01. He feels the government should ensure that Euthanasia is executed only when the patient himself agrees to ending his life.
02. He is indecisive of the fact whether Euthanasia can be implemented on the genuine grounds.
03. He strongly recommend it to be made legal in India.
04. He has views against it because Euthanasia cannot bring back the life of the sufferer.
05. Cannot be understood from the passage.

Solution for Question 151

Ans Key: 2

eng/eng

eng hin

Q-152 राष्ट्रीयता और जातीयता का सबसे आवश्यक अंग कौन-सा है ?

eng/eng

01. बाहरी सुन्दरता और भीतरी सुगन्ध
02. भाषा और साहित्य
03. भाषा और साहित्य
04. भावनात्मक एकता
05. इनमें से कोई नहीं

Q-152 Which of the following countries is notorious for suicide tourism?

eng hin

01. U.S
02. France

03. The Netherlands

04. Switzerland

05. Belgium

Solution for Question 152

Ans Key: 4

eng hin The answer is found in the last paragraph.

Q-153 जाति विशेष के बड़प्पन की कसौटी क्या है ?

eng/eng

01. आर्थिक दृष्टि से सम्पन्न होना

02. उसके भावों और विचारों का उन्नत होना

03. सामाजिक दृष्टि से विकसित होना

04. उसके भावों का उन्नत होना

05. इनमें से कोई नहीं

Q-153 Which diseases have been considered degenerative diseases, in Colombia?

eng hin

01. Parkinson's, Malaria and Tuberculosis

02. Lou Gehrig's disease, Alzheimer's and Parkinson's

03. Alzheimer's, Tuberculosis and Lou Gehrig's disease

04. Lou Gehrig's disease, Malaria and Leprosy

05. Alzheimer's, Leprosy and Parkinson's

Solution for Question 153

Ans Key: 2

eng hin The answer is found in the last of the II paragraph.

Q-154 पालि भाषा के साहित्य की उन्नति किस तथ्य की परिचायक है ?

eng/eng

01. बौद्धों के साम्राज्य की उन्नति

02. बौद्ध की विश्व को देन की

03. गौतम बुद्ध की महानता की

04. गौतम बुद्ध के उत्कृष्ट उपदेश की

05. इनमें से कोई नहीं

Q-154 Why is the Union government against legalizing mercy killings?

eng hin

01. It says that the judiciary cannot deprive someone of the right to live by introducing any law.

02. It fears to have crime rate going up, if mercy killings are legalized.

03. It says that people themselves should decide the best course of action.

04. Either 2 or 3

05. Not mentioned in the passage

Solution for Question 154

Ans Key: 1

eng hin The answer is found in the first line of the second paragraph of the passage.

Q-155 गद्यांश में किसे बर्बर जाति कहा गया है?

eng/eng

01. बौद्ध

02. आर्य

03. द्रविड़

04. आदिवासी

05. उपरोक्त में से किसी को भी नहीं

Q-155 In which of the following ways can euthanasia take the form of a murder?

eng hin

01. If the patient shows signs of recovery

02. If the documents provided are fake

03. If the doctor is involved in the conspiracy to murder

04. Only 1 and 2

05. Only 2 and 3

Solution for Question 155

Ans Key: 5

eng hin The answer is given in the second last line of the passage.

Passage for Question 156, 157, 158, 159, 160 (ST-2054 RRB PO MAINS (156-160) F 2020)

eng/eng Passage

नीचे दिए गए गद्यांश को ध्यानपूर्वक पढ़िए और उस पर आधारित प्रश्नों के उत्तर दीजिए। कुछ शब्दों को रेखांकित अक्षरों में मुद्रित किया गया है, जिससे आपको कुछ प्रश्नों के उत्तर देने में सहायता मिलेगी। दिए गए विकल्पों में से सबसे उपयुक्त का चयन कीजिए।

आज हमारे सामने वर्तमान युग की एक ऐसी उलझन भरी, दुस्साध्य और भयानक समस्या उपस्थित है, जिससे बचा नहीं जा सकता। प्रश्न यह है कि क्या हम सदा के लिए युद्ध बन्द करने की घोषणा कर सकते हैं, या इसके विपरीत हम मनुष्य जाति को समूल नष्ट करना चाहते हैं ? यदि हम सदैव के लिए युद्ध से विमुख हो जाते हैं तो हम

एक ऐसे सुखी समाज का निर्माण कर सकते हैं जिसमें ज्ञान और विज्ञान की सतत प्रगति हो सकती है। क्या इस स्वर्गीय आनन्द के बदले विनाशक मृत्यु को हम इसलिए चाहते हैं, क्योंकि हम अपने झगड़े समाप्त नहीं कर सकते ? हम आपसे मनुष्य होने के नाते मनुष्यता के नाम पर, यह प्रार्थना करते हैं कि आप सबकुछ भूलकर केवल अपनी मानवता को याद रखें। यदि आप यह कर सकते हैं तो निश्चय ही नए और महान भविष्य के लिए रास्ता खुला है, किन्तु यदि आपको यह मंजूर नहीं है तो आपके सामने मानव-मात्र की मृत्यु की संकट उपस्थित है।

उपर्युक्त अवतरण को ध्यानपूर्वक पढ़िए और नीचे लिखे प्रश्नों का उत्तर दीजिए-

eng hin Passage

Read the following passage carefully and answer the questions given below it. Certain words have been printed in bold to help you locate them while answering some questions.

The Supreme Court has called for a national debate on euthanasia. It has issued notices to State Governments seeking their opinion on the issue within eight weeks. The debate was stirred by Common Cause, a non-Government organisation, which petitioned the court that people with advanced terminal diseases, who are likely to enter a permanent vegetative state, have the right to execute a living **will** refusing medical treatment.

However, the Union Government is opposed to legalising mercy killings and says that the judiciary does not have the right to introduce a law that gives citizens the right to die. Only Parliament or a State Legislature can make such a law. Simply put, euthanasia is defined as the act of intentionally ending a person's life so as to help relieve suffering or pain. In India, passive euthanasia has been legal since 2011 when the Supreme Court allowed the withdrawal of life support for patients who are in a permanent vegetative state. Active euthanasia, however, is still illegal, and this includes using lethal compounds to end a person's life. It is worthwhile to study the position of other countries on euthanasia. In some countries, euthanasia is legal. Belgium is one of them. Euthanasia has been legal in this European state since September 2002(2) Belgian law states that two doctors need to be involved in the process, and a psychologist as well if the competency of the patient is in doubt. Both the patient and doctor decide on the best course of action to end the patient's life, which could be through a **prescribed** overdose of pills or a lethal injection. More recently, in May 2010, Colombia ruled that no one would be held criminally **accountable** for ending the life of a terminally ill patient. In effect, it authorised euthanasia. The court went on to further define the term 'terminally ill' as a person with AIDS, kidney failure, liver failure, cancer and any other conditions that come with extreme suffering. It clarified, however, that, "Euthanasia laws in Colombia do not authorise intentionally ending the lives of patients suffering from degenerative diseases such as Lou Gehrig's disease, Alzheimer's and Parkinson's".

In Ireland, active euthanasia is illegal. However, it is not illegal to withdraw life support or other treatments if the patient or a next of kin requests for it. According to a poll published in the Irish Times, 57 per cent of adults want to see doctor-assisted suicide legalised in the case of a patient requesting it. Luxembourg has also legalised euthanasia. The law allows doctors to end the lives of terminally ill patients. It requires that such a decision be reached with the approval of a panel of experts and two doctors. In Mexico, although active euthanasia is illegal, the law allows for passive euthanasia. Close relatives of a terminally ill, of the unconscious patient or the patient himself or herself can refuse further treatment. This law has been applicable since 2008, and a similar law which sought to have some extended provisions to decriminalise active euthanasia is pending approval. In Netherlands, euthanasia and doctor-assisted suicide are both legal. Although the law was passed in 2002, the courts have permitted the practice since the 1980s and doctors, generally, are not obligated to keep patients alive contrary to the latter's wishes. For over 20 years, the Netherlands courts have not been prosecuting physicians who facilitate euthanasia. In France, there is no law banning doctor-assisted suicide. But the Government bans publications that advise on suicide. In Italy, mercy killing is legally forbidden.

Euthanasia is also legal in some States in the US such as Oregon, Washington, Montana and Vermont. In Oregon, euthanasia was legalised under the Death With Dignity Act which was implemented in 1997. The law allows patients who are terminally ill to request for lethal medication. The requirements are that the patient must have made two verbal requests and another in writing with a witness for the doctors, to end his or her life. Two doctors also need to agree on the diagnosis, the prognosis of the disease, and the capability of the patient. The patient will have to personally administer the medication. Washington became the second US State to legalise euthanasia in 2008, and this was done via the Washington Death with Dignity Act. The Washington law is similar to the Oregon law as it also requires that the patient make two oral requests and a written one as well. The requests need to be made 15 days apart, and the patient must be suffering from a terminally ill condition with a life expectancy of six months or less. In Montana, euthanasia law was passed in December 2009 by the Montana First Judicial District Court in a case known as Baxter versus Montana. The ruling stated that a competent patient had the right to die with dignity. The law allows the physician to assist the patient by providing a prescription lethal medication which the patient will take on their own.

On May 20th, 2013, Vermont also joined the other States that had legalised euthanasia. The law was introduced through Act 39 of the End of Life Choices. It requires that the patient provide two oral and one written request. It is important to note that the patient needs to be a resident in all of the above states to participate in euthanasia. In Switzerland, Oignitas, a Zurich-based organisation that helps people end their lives has faced severe critics, has been blamed for making the country a destination for suicide tourism. It has about 7,000 members from across the world and, since 1998, has helped 1,800 people from different countries end their lives peacefully. However, there is a great possibility of the misuse of pro-euthanasia laws. It is worthwhile to consider how the elderly have been abused, even murdered, over property disputes etc in this country. Euthanasia may also take the form of murder, either with the connivance of doctors or on the basis of **bogus** documentation. While the idea of euthanasia is inspired by the noble objective of alleviating pain, its implementation can create problems.

Q-156 उक्त अवतरण का उपयुक्त शीर्षक क्या हो सकता है ?

eng/eng

- | | |
|----------------------------------|-------------------|
| 01. युद्ध और शान्ति | 02. विनाश और रचना |
| 03. जीवन और मृत्यु | 04. भय और सुख |
| 05. युद्ध और मानव-जाति का भविष्य | |

Q-156 Which of the following is/are **FALSE**, according to the passage?

- eng hin**
- A. For legalizing Euthanasia, Vermont introduced the law through Act 93 of the End of Life Choices.
B. Oignitas, the Zurich-based organisation came into existence in 1998 and has around 7000 members in Switzerland only
C. Oregon became the second US State to legalize euthanasia in 2008
D. Withdrawal of life support for patients who are in a permanent vegetative state is not considered euthanasia.

- | | |
|------------------|------------------|
| 01. Only C | 02. Only D |
| 03. Only A and C | 04. All except B |

05. All of the above

Solution for Question 156

Ans Key: 5

eng/eng

eng hin Read all the paragraphs thoroughly to get the answer.

Q-157 आज हमारे सामने सबसे बड़ा संकट आया है-

eng/eng

- | | |
|-----------------------------|---------------------------------|
| 01. विज्ञान की प्रगति का | 02. युद्धों की बढ़ती संख्या का |
| 03. मानव मात्र की मृत्यु का | 04. भविष्य के अन्धकारमय होने का |
| 05. इनमें से कोई नहीं | |

Q-157 Choose the word most **SIMILAR** in meaning to the word given in bold, as used in the passage.

eng hin

Will

- | | |
|-----------------|--------------|
| 01. Mercy | 02. Heritage |
| 03. Declaration | 04. Passion |
| 05. Query | |

Solution for Question 157

Ans Key: 3

eng hin Declaration
For other options:
Heritage (n)- culture

Q-158 लेखक के अनुसार मानव-जाति को विनाश से बचाने का रास्ता क्या है ?

eng/eng

- | | |
|----------------------------|------------------------|
| 01. ईश्वर की उपासना करना | 02. मनुष्य की स्थापना |
| 03. विज्ञान की प्रगति करना | 04. युद्धों की समाप्ति |
| 05. इनमें से कोई नहीं | |

Q-158 Choose the word most **SIMILAR** in meaning to the word given in bold, as used in the passage.

eng hin

Prescribed

- | | |
|----------------|-----------------|
| 01. Threatened | 02. Primary |
| 03. Mutual | 04. Recommended |
| 05. Ethical | |

Solution for Question 158

Ans Key: 4

eng hin Recommended
For other options:
Mutual (adj)- shared
Ethical (adj)- based on ethics

Q-159 लेखक पाठकों से क्या प्रार्थना करता है ?

eng/eng

- | | |
|---------------------------|----------------------------------|
| 01. मानवता को याद रखने की | 02. अपने भविष्य को महान बनाने की |
| 03. युद्ध बन्द करने की | 04. शांतिपूर्वक जीवनयापन की |
| 05. इनमें से कोई नहीं | |

Q-159 Choose the word most **SIMILAR** in meaning to the word given in bold, as used in the passage.

eng hin

Accountable

- | | |
|-------------|--------------|
| 01. Liable | 02. Deprived |
| 03. Immune | 04. Offended |
| 05. Pensive | |

Solution for Question 159

Ans Key: 1

eng hin Liable
For other options:
Pensive (adj)- thoughtful
Deprived (adj)- kept aloof

Q-160 'निर्माण' का विलोम शब्द कौन-सा हो सकता है ?

eng/eng

- | | |
|-----------------------|------------|
| 01. रचना | 02. प्रमाण |
| 03. सृष्टि | 04. विनाश |
| 05. इनमें से कोई नहीं | |

Q-160 Choose the word most **SIMILAR** in meaning to the word given in bold, as used in the passage.

eng hin

Bogus

- | | |
|-------------------|------------|
| 01. Established | 02. Old |
| 03. Eminent | 04. Forged |
| 05. Controversial | |

Solution for Question 160

Ans Key: 4

eng hin Forged
For other options:
Eminent (adj)- known

Q-161 Which of the following is not an example of Hardware ?

eng/eng

निम्न में से कौन हार्डवेयर का उदाहरण नहीं है ?

- | | |
|-----------------------|---|
| 01. Mouse
माउस | 02. Printer
प्रिंटर |
| 03. Monitor
मॉनीटर | 04. Operating System
ऑपरेटिंग सिस्टम |
| 05. Scanner
स्कैनर | |

Q-161 Which of the following is not an example of Hardware ?

eng hin

निम्न में से कौन हार्डवेयर का उदाहरण नहीं है ?

- | | |
|-----------------------|---|
| 01. Mouse
माउस | 02. Printer
प्रिंटर |
| 03. Monitor
मॉनीटर | 04. Operating System
ऑपरेटिंग सिस्टम |
| 05. Scanner
स्कैनर | |

Solution for Question 161

Ans Key: 4

eng/eng Operating system is a system software.
ऑपरेटिंग सिस्टम एक सिस्टम साफ्टवेयर होता है।

eng hin Operating system is a system software.
ऑपरेटिंग सिस्टम एक सिस्टम साफ्टवेयर होता है।

Q-162 ROM is the example of which of the following ?

eng/eng

रोम, निम्न में से किसका उदाहरण है ?

- | | |
|--|--------------------------------------|
| 01. Volatile memory
वोलैटाइल मेमोरी | 02. Cache memory
कैश मेमोरी |
| 03. Non volatile memory
नॉन वोलैटाइल मेमोरी | 04. Virtual memory
वर्चुअल मेमोरी |
| 05. None of these
इनमें से कोई नहीं | |

Q-162 ROM is the example of which of the following ?

eng hin

रोम, निम्न में से किसका उदाहरण है ?

- | | |
|--|--------------------------------------|
| 01. Volatile memory
वोलैटाइल मेमोरी | 02. Cache memory
कैश मेमोरी |
| 03. Non volatile memory
नॉन वोलैटाइल मेमोरी | 04. Virtual memory
वर्चुअल मेमोरी |

05. None of these
इनमें से कोई नहीं

Solution for Question 162

Ans Key: 3

eng/eng ROM is an example of non-volatile memory.
रोम, नॉन-वोलेटाइल मेमोरी का एक उदाहरण है।

eng hin ROM is an example of non-volatile memory.
रोम, नॉन-वोलेटाइल मेमोरी का एक उदाहरण है।

Q-163 Which of the following is related to internet banking?

eng/eng निम्न में से कौन इंटरनेट बैंकिंग से सम्बंधित है?

- | | |
|---|---|
| 01. Meeting of banks on the net
नेट पर बैंक का मिलना | 02. Net Practice
नेट प्रैक्टिस |
| 03. Banking transactions through internet
इंटरनेट से बैंकिंग ट्रांजेक्शन | 04. Transactions with foreign countries
विदेशों के साथ ट्रांजेक्शन |
| 05. None of these
इनमें से कोई नहीं | |

Q-163 Which of the following is related to internet banking?

eng hin निम्न में से कौन इंटरनेट बैंकिंग से सम्बंधित है?

- | | |
|---|---|
| 01. Meeting of banks on the net
नेट पर बैंक का मिलना | 02. Net Practice
नेट प्रैक्टिस |
| 03. Banking transactions through internet
इंटरनेट से बैंकिंग ट्रांजेक्शन | 04. Transactions with foreign countries
विदेशों के साथ ट्रांजेक्शन |
| 05. None of these
इनमें से कोई नहीं | |

Solution for Question 163

Ans Key: 3

eng/eng Banking transaction through internet.
इंटरनेट से बैंकिंग ट्रांजेक्शन

eng hin Banking transaction through internet.
इंटरनेट से बैंकिंग ट्रांजेक्शन

Q-164 _____ shares hardware , software and data among authorized users.

eng/eng ----- हार्डवेयर, सॉफ्टवेयर और डाटा को अधिकृत यूजर के बीच शेयर करता है।

- | | |
|--|-------------------------------|
| 01. Network
नेटवर्क | 02. Protocol
प्रोटोकॉल |
| 03. Hyperlink
हाइपरलिंक | 04. Transmitter
ट्रांसमीटर |
| 05. None of these
इनमें से कोई नहीं | |

Q-164 _____ shares hardware , software and data among authorized users.

eng hin ----- हार्डवेयर, सॉफ्टवेयर और डाटा को अधिकृत यूजर के बीच शेयर करता है।

- | | |
|--|-------------------------------|
| 01. Network
नेटवर्क | 02. Protocol
प्रोटोकॉल |
| 03. Hyperlink
हाइपरलिंक | 04. Transmitter
ट्रांसमीटर |
| 05. None of these
इनमें से कोई नहीं | |

Solution for Question 164

Ans Key: 1

eng/eng Network shares hardware, software and data among authorized user.
नेटवर्क , हार्डवेयर, सॉफ्टवेयर और डाटा अधिकृत यूजर के बीच शेयर करता है।

eng hin Network shares hardware, software and data among authorized user.
नेटवर्क , हार्डवेयर, सॉफ्टवेयर और डाटा अधिकृत यूजर के बीच शेयर करता है।

Q-165 Which menu should be selected to perform cut and paste in word ?

eng/eng वर्ड में कौन से मेन्यू को कट और पेस्ट परफॉर्म करने के लिये सलेक्ट किया जाता है?

- | | |
|--|--------------------------------|
| 01. Format menu
फॉर्मेट मेन्यु | 02. Tools menu
टूल्स मेन्यु |
| 03. Edit menu
एडिट मेन्यु | 04. View Menu
व्यू मेन्यु |
| 05. None of these
इनमें से कोई नहीं | |

Q-165 Which menu should be selected to perform cut and paste in word ?
eng hin वर्ड में कौन से मेन्यु को कट और पेस्ट परफॉर्म करने के लिये सलेक्ट किया जाता है?

- | | |
|--|--------------------------------|
| 01. Format menu
फॉर्मेट मेन्यु | 02. Tools menu
टूल्स मेन्यु |
| 03. Edit menu
एडिट मेन्यु | 04. View Menu
व्यू मेन्यु |
| 05. None of these
इनमें से कोई नहीं | |

Solution for Question 165 Ans Key: 3

eng/eng Edit menu should be selected to perform cut and paste in word.
 वर्ड में कट और पेस्ट के लिये एडिट मेन्यु चुना जाता है।

eng hin Edit menu should be selected to perform cut and paste in word.
 वर्ड में कट और पेस्ट के लिये एडिट मेन्यु चुना जाता है।

Q-166 A device that copies or reproduces text and image is called a/an _____.
eng/eng एक डिवाइस जो टेक्स्ट और इमेज को कॉपी या फिर से उत्पन्न करता है उसे कहा जाता है।

- | | |
|-----------------------|-------------------------|
| 01. CPU
सीपीयू | 02. Reader
रीडर |
| 03. Memory
मेमोरी | 04. Obtainer
ऑब्टेनर |
| 05. Scanner
स्कैनर | |

Q-166 A device that copies or reproduces text and image is called a/an _____.
eng hin एक डिवाइस जो टेक्स्ट और इमेज को कॉपी या फिर से उत्पन्न करता है उसे कहा जाता है।

- | | |
|-----------------------|-------------------------|
| 01. CPU
सीपीयू | 02. Reader
रीडर |
| 03. Memory
मेमोरी | 04. Obtainer
ऑब्टेनर |
| 05. Scanner
स्कैनर | |

Solution for Question 166 Ans Key: 5

eng/eng Device that copy or reproduce text and image is called a scanner.
 डिवाइस जो टेक्स्ट और इमेज कॉपी या री प्रोड्यूस करता है उसे स्कैनर कहा जाता है।

eng hin Device that copy or reproduce text and image is called a scanner.
 डिवाइस जो टेक्स्ट और इमेज कॉपी या री प्रोड्यूस करता है उसे स्कैनर कहा जाता है।

Q-167 Which of the following should be used to move a paragraph from one place to another in a word document ?
eng/eng निम्न में से किसे वर्ड डॉक्युमेन्ट में एक पैराग्राफ को एक स्थान से दूसरे स्थान पर रखने के लिये प्रयोग करना चाहिये?

- | | |
|--|---|
| 01. Copy and paste
कॉपी और पेस्ट | 02. Cut and paste
कट और पेस्ट |
| 03. Delete and Retype
डिलीट और रीटाइप | 04. Find and Replace
फाइन्ड और रिप्लेस |
| 05. None of these
इनमें से कोई नहीं | |

Q-167 Which of the following should be used to move a paragraph from one place to another in a word document ?
eng hin निम्न में से किसे वर्ड डॉक्युमेन्ट में एक पैराग्राफ को एक स्थान से दूसरे स्थान पर रखने के लिये प्रयोग करना चाहिये?

- | | |
|-------------------------------------|----------------------------------|
| 01. Copy and paste
कॉपी और पेस्ट | 02. Cut and paste
कट और पेस्ट |
| 03. Delete and Retype | 04. Find and Replace |

05. None of these
इनमें से कोई नहीं

Solution for Question 167

Ans Key: 2

eng/eng	Cut and paste should be used to move a paragraph from one place to another in a work document. वर्ड डाक्यूमेंट में, पैराग्राफ को एक स्थान से दूसरी जगह मूव, करने के लिये कट और पेस्ट प्रयोग करना चाहिये।
eng hin	Cut and paste should be used to move a paragraph from one place to another in a work document. वर्ड डाक्यूमेंट में, पैराग्राफ को एक स्थान से दूसरी जगह मूव, करने के लिये कट और पेस्ट प्रयोग करना चाहिये।

Q-168 An excel spreadsheet has the extension _____.
eng/eng एक एक्सेल स्प्रेडशीट का एक्सटेंशन होता है।

- | | |
|----------|-----------|
| 01. .doc | 02. .xls |
| 03. .ppt | 04. .ccts |
| 05. .exe | |

Q-168 An excel spreadsheet has the extension _____.
eng hin एक एक्सेल स्प्रेडशीट का एक्सटेंशन होता है।

- | | |
|----------|-----------|
| 01. .doc | 02. .xls |
| 03. .ppt | 04. .ccts |
| 05. .exe | |

Solution for Question 168

Ans Key: 2

eng/eng	An excel spreadsheet has the extension of .xls. एक्सेल स्प्रेडशीट का एक्सटेंशन .XLS होता है।
eng hin	An excel spreadsheet has the extension of .xls. एक्सेल स्प्रेडशीट का एक्सटेंशन .XLS होता है।

Q-169 Which of the following terms is not related to Internet ?
eng/eng निम्न में से कौन सा टर्म इंटरनेट से सम्बंधित नहीं है ?

- | | |
|----------------------------|---------------------------------|
| 01. Link
लिंक | 02. Function Key
फंक्शन 'की' |
| 03. Browser
ब्राउजर | 04. Search Engine
सर्च इंजन |
| 05. Hyperlink
हाइपरलिंक | |

Q-169 Which of the following terms is not related to Internet ?
eng hin निम्न में से कौन सा टर्म इंटरनेट से सम्बंधित नहीं है ?

- | | |
|----------------------------|---------------------------------|
| 01. Link
लिंक | 02. Function Key
फंक्शन 'की' |
| 03. Browser
ब्राउजर | 04. Search Engine
सर्च इंजन |
| 05. Hyperlink
हाइपरलिंक | |

Solution for Question 169

Ans Key: 2

eng/eng	'Function Key' is not related to Internet. 'फंक्शन की' इंटरनेट से सम्बंधित नहीं है।
eng hin	'Function Key' is not related to Internet. 'फंक्शन की' इंटरनेट से सम्बंधित नहीं है।

Q-170 To move the text from its original position to another position without deleting it is called _____.
eng/eng मूल स्थिति से टेक्स्ट को बिना हटाये दूसरे स्थान पर मूव करना कहलाता है।

- | | |
|-----------------------------|----------------------------|
| 01. Scrolling
स्कॉल करना | 02. Searching
सर्च करना |
| 03. Moving
मूव करना | 04. Copying
कॉपी करना |

05. Halting
हाल्ट करना

Q-170 To move the text from its original position to another position without deleting it is called _____.
eng hin मूल स्थिति से टेक्स्ट को बिना हटाये दूसरे स्थान पर मूव करना कहलाता है।

- | | |
|------------------------------|----------------------------|
| 01. Scrolling
स्करोल करना | 02. Searching
सर्च करना |
| 03. Moving
मूव करना | 04. Copying
कापी करना |
| 05. Halting
हाल्ट करना | |

Solution for Question 170

Ans Key: 4

eng/eng To move the text from its original position to another position without deleting it is called copying.

VsDLV dks ewy LFkku ls nwljs LFkku ij fcuk bls gVk, ewo djuk dkWih dgykrk gSA

eng hin To move the text from its original position to another position without deleting it is called copying.

VsDLV dks ewy LFkku ls nwljs LFkku ij fcuk bls gVk, ewo djuk dkWih dgykrk gSA

Q-171 The processor is a _____ chip plugged onto the motherboard in a computer system.
eng/eng प्रोसेसर एक चिप होता है जिसे कम्प्यूटर सिस्टम में मदरबोर्ड पर प्लग किया जाता है।

- | | |
|----------|----------|
| 01. LSI | 02. VLSI |
| 03. ULSI | 04. XLSI |
| 05. WLSI | |

Q-171 The processor is a _____ chip plugged onto the motherboard in a computer system.
eng hin प्रोसेसर एक चिप होता है जिसे कम्प्यूटर सिस्टम में मदरबोर्ड पर प्लग किया जाता है।

- | | |
|----------|----------|
| 01. LSI | 02. VLSI |
| 03. ULSI | 04. XLSI |
| 05. WLSI | |

Solution for Question 171

Ans Key: 2

eng/eng The processor is a VLSI chip plugged onto the motherboard in a computer system.
प्रोसेसर एक VLSI चिप होती है जिसे कम्प्यूटर सिस्टम में मदरबोर्ड पर प्लग किया जाता है।

eng hin The processor is a VLSI chip plugged onto the motherboard in a computer system.
प्रोसेसर एक VLSI चिप होती है जिसे कम्प्यूटर सिस्टम में मदरबोर्ड पर प्लग किया जाता है।

Q-172 BIT stands for _____.
eng/eng BIT का पूर्ण रूप होता है।

- | | |
|----------------------------|------------------------------|
| 01. Built In Tasks | 02. Binary Digit |
| 03. Before Insturcted Task | 04. Before Interpreting Task |
| 05. Before Initial Task | |

Q-172 BIT stands for _____.
eng hin BIT का पूर्ण रूप होता है।

- | | |
|----------------------------|------------------------------|
| 01. Built In Tasks | 02. Binary Digit |
| 03. Before Insturcted Task | 04. Before Interpreting Task |
| 05. Before Initial Task | |

Solution for Question 172

Ans Key: 2

eng/eng BIT stands for Binary Digit.
BIT का पूर्ण बाइनरी डिजिट होता है।

eng hin BIT stands for Binary Digit.
BIT का पूर्ण बाइनरी डिजिट होता है।

Q-173 Where are the programs and data kept while the processor is using them ?
eng/eng प्रोग्राम और डाटा को प्रोसेसर प्रयोग करते समय कहां रखते हैं ?

- | | |
|---------------------------------|---|
| 01. Main Memory
मेन मेमोरी | 02. Secondary Memory
सेकेंडरी मेमोरी |
| 03. Disk Memory
डिस्क मेमोरी | 04. Program Memory
प्रोग्राम मेमोरी |
| 05. Data Memory
डाटा मेमोरी | |

Q-173 Where are the programs and data kept while the processor is using them ?
eng hin प्रोग्राम और डाटा को प्रोसेसर प्रयोग करते समय कहां रखते हैं ?

- | | |
|---------------------------------|---|
| 01. Main Memory
मेन मेमोरी | 02. Secondary Memory
सेकेंडरी मेमोरी |
| 03. Disk Memory
डिस्क मेमोरी | 04. Program Memory
प्रोग्राम मेमोरी |
| 05. Data Memory
डाटा मेमोरी | |

Solution for Question 173

Ans Key: 1

eng/eng Programs and data are kept in main memory while the processor is using them.
 प्रोग्राम और डाटा को प्रोसेसर प्रयोग करते समय मेन मेमोरी में रखता है।

eng hin Programs and data are kept in main memory while the processor is using them.
 प्रोग्राम और डाटा को प्रोसेसर प्रयोग करते समय मेन मेमोरी में रखता है।

Q-174 Which part of the computer can display the User's work ?
eng/eng कम्प्यूटर का कौन सा भाग यूजर के काम को प्रदर्शित कर सकता है?

- | | |
|--|--------------------------|
| 01. Mouse
माउस | 02. Key board
कीबोर्ड |
| 03. Disk Drive
डिस्क ड्राइव | 04. Monitor
मॉनीटर |
| 05. None of these
इनमें से कोई नहीं | |

Q-174 Which part of the computer can display the User's work ?
eng hin कम्प्यूटर का कौन सा भाग यूजर के काम को प्रदर्शित कर सकता है?

- | | |
|--|--------------------------|
| 01. Mouse
माउस | 02. Key board
कीबोर्ड |
| 03. Disk Drive
डिस्क ड्राइव | 04. Monitor
मॉनीटर |
| 05. None of these
इनमें से कोई नहीं | |

Solution for Question 174

Ans Key: 4

eng/eng Monitor can display the user's work.
 मॉनिटर, यूजर के कार्य को प्रदर्शित करता है।

eng hin Monitor can display the user's work.
 मॉनिटर, यूजर के कार्य को प्रदर्शित करता है।

Q-175 What is the main folder on a storage device called ?
eng/eng स्टोरेज डिवाइस पर मुख्य फोल्डर क्या है ?

- | | |
|--|-------------------------------------|
| 01. Platform
प्लेटफॉर्म | 01. Platform
प्लेटफॉर्म |
| 01. Platform
प्लेटफॉर्म | 01. Platform
प्लेटफॉर्म |
| 01. Platform
प्लेटफॉर्म | 02. Interface
इंटरफेस |
| 03. Root directory
रूट डायरेक्टरी | 04. Device driver
डिवाइस ड्राइवर |
| 05. None of these
इनमें से कोई नहीं | |

Q-175 What is the main folder on a storage device called ?
eng hin स्टोरेज डिवाइस पर मुख्य फोल्डर क्या है ?

- | | |
|---|--|
| 01. Platform
प्लेटफॉर्म | 02. Interface
इंटरफेस |
| 03. Root directory
रूट डायरेक्टरी | 04. Device driver
डिवाइस ड्राइवर |
| 05. None of these
इनमें से कोई नहीं | |

Solution for Question 175 Ans Key: 3

eng/eng Root directory is the main folder on a storage device.
रूट डायरेक्टरी, स्टोरेज डिवाइस पर मुख्य फोल्डर होता है।

eng hin Root directory is the main folder on a storage device.
रूट डायरेक्टरी, स्टोरेज डिवाइस पर मुख्य फोल्डर होता है।

Q-176 The physical part of Computer is known as _____.
eng/eng कम्प्यूटर के फिजिकल भाग को कहा जाता है।

- | | |
|----------------------------------|---------------------------------------|
| 01. Software
सॉफ्टवेयर | 02. Data
डाटा |
| 03. Hardware
हार्डवेयर | 04. Information
इन्फॉर्मेशन |
| 05. Virtual
वर्चुअल | |

Q-176 The physical part of Computer is known as _____.
eng hin कम्प्यूटर के फिजिकल भाग को कहा जाता है।

- | | |
|----------------------------------|---------------------------------------|
| 01. Software
सॉफ्टवेयर | 02. Data
डाटा |
| 03. Hardware
हार्डवेयर | 04. Information
इन्फॉर्मेशन |
| 05. Virtual
वर्चुअल | |

Solution for Question 176 Ans Key: 3

eng/eng The physical part of computer is known as Hardware.
कम्प्यूटर का फिजिकल भाग को हार्डवेयर कहा जाता है।

eng hin The physical part of computer is known as Hardware.
कम्प्यूटर का फिजिकल भाग को हार्डवेयर कहा जाता है।

Q-177 Program are the sets of _____ that direct the Computer.
eng/eng प्रोग्राम का सेट होता है जो कम्प्यूटर को डायरेक्ट करता है।

- | | |
|---|---------------------------------------|
| 01. Commands
कमाण्ड | 02. Instruction
इंस्ट्रक्शन |
| 03. Values
वैल्यु | 04. Variables
वैरियेबल |
| 05. Non-Variable
नॉन वैरियेबल | |

Q-177 Program are the sets of _____ that direct the Computer.
eng hin प्रोग्राम का सेट होता है जो कम्प्यूटर को डायरेक्ट करता है।

- | | |
|---|---------------------------------------|
| 01. Commands
कमाण्ड | 02. Instruction
इंस्ट्रक्शन |
| 03. Values
वैल्यु | 04. Variables
वैरियेबल |
| 05. Non-Variable
नॉन वैरियेबल | |

Solution for Question 177 Ans Key: 2

eng/eng Programs are the set of instructions that direct the computer

	प्रोग्राम, इन्ट्रूक्शन का सेट है जिसे कम्प्यूटर डायरेक्ट करते हैं।
eng hin	Programs are the set of instructions that direct the computer प्रोग्राम, इन्ट्रूक्शन का सेट है जिसे कम्प्यूटर डायरेक्ट करते हैं।

Q-178 The operating system is the most common type of _____ software.
ऑपरेटिंग सिस्टम, सॉफ्टवेयर का बहुत सामान्य प्रकार है।

- | | |
|----------------------------------|--|
| 01. Communication
कम्युनिकेशन | 02. Application
एप्लिकेशन |
| 03. System
सिस्टम | 04. Word Processing
वर्ड प्रोसेसिंग |
| 05. Network
नेटवर्क | |

Q-178 The operating system is the most common type of _____ software.
ऑपरेटिंग सिस्टम, सॉफ्टवेयर का बहुत सामान्य प्रकार है।

- | | |
|----------------------------------|--|
| 01. Communication
कम्युनिकेशन | 02. Application
एप्लिकेशन |
| 03. System
सिस्टम | 04. Word Processing
वर्ड प्रोसेसिंग |
| 05. Network
नेटवर्क | |

Solution for Question 178 Ans Key: 3

eng/eng Operating system is the most common type of system software.
आपरेटिंग सिस्टम, सिस्टम सॉफ्टवेयर का आम प्रकार है।

eng hin Operating system is the most common type of system software.
आपरेटिंग सिस्टम, सिस्टम सॉफ्टवेयर का आम प्रकार है।

Q-179 Manipulating data to create information is known as---
इन्फार्मेशन बनाने के लिये डाटा मैनिपुलेट करना कहलाता है।

- | | |
|-----------------------------------|---------------------------------|
| 01. Feed back
फीडबैक | 02. Programming
प्रोग्रामिंग |
| 03. Processing
प्रोसेसिंग | 04. Analysis
एनालिसिस |
| 05. Analysis
इनमें से कोई नहीं | |

Q-179 Manipulating data to create information is known as---
इन्फार्मेशन बनाने के लिये डाटा मैनिपुलेट करना कहलाता है।

- | | |
|-----------------------------------|---------------------------------|
| 01. Feed back
फीडबैक | 02. Programming
प्रोग्रामिंग |
| 03. Processing
प्रोसेसिंग | 04. Analysis
एनालिसिस |
| 05. Analysis
इनमें से कोई नहीं | |

Solution for Question 179 Ans Key: 3

eng/eng Manipulating data to create information is known as processing.
Manipulating data to create information is known as processing.

eng hin Manipulating data to create information is known as processing.
Manipulating data to create information is known as processing.

Q-180 A register that keeps track of the next instruction to be executed is called a _____.
एक रजिस्टर जो अगले एक्जिक्यूट करने वाले इन्ट्रूक्शन का ट्रैक रखता है उसे कहा जाता है।

- | | |
|--------------------------------------|---|
| 01. Data Register
डाटा रजिस्टर | 02. Instruction Register
इन्ट्रूक्शन रजिस्टर |
| 03. Action Register
एक्शन रजिस्टर | 04. Program counter
प्रोग्राम काउन्टर |

05. Accumulator
प्रोग्राम काउन्टर

Q-180 A register that keeps track of the next instruction to be executed is called a _____.
eng hin एक रजिस्टर जो अगले एक्जिक्यूट करने वाले इंस्ट्रक्शन का ट्रैक रखता है उसे कहा जाता है।

- | | |
|--------------------------------------|---|
| 01. Data Register
डाटा रजिस्टर | 02. Instruction Register
इंस्ट्रक्शन रजिस्टर |
| 03. Action Register
एक्शन रजिस्टर | 04. Program counter
प्रोग्राम काउन्टर |
| 05. Accumulator
प्रोग्राम काउन्टर | |

Solution for Question 180		Ans Key: 5
eng/eng	Accumulator is a register. एक्युमुलेटर एक रजिस्टर है।	
eng hin	Accumulator is a register. एक्युमुलेटर एक रजिस्टर है।	

Q-181 The blinking symbol on the computer screen is called the _____
eng/eng कम्प्यूटर स्क्रीन पर ब्लिंकिंग सिम्बल कहलाता है।

- | | |
|--|---------------------|
| 01. Mouse
माउस | 02. Light
लाइट |
| 03. hand
हैन्ड | 04. Cursor
कर्सर |
| 05. None of these
इनमें से कोई नहीं | |

Q-181 The blinking symbol on the computer screen is called the _____
eng hin कम्प्यूटर स्क्रीन पर ब्लिंकिंग सिम्बल कहलाता है।

- | | |
|--|---------------------|
| 01. Mouse
माउस | 02. Light
लाइट |
| 03. hand
हैन्ड | 04. Cursor
कर्सर |
| 05. None of these
इनमें से कोई नहीं | |

Solution for Question 181		Ans Key: 4
eng/eng	Blinking symbol on the computer screen is called the cursor. कम्प्यूटर स्क्रीन पर ब्लिंकिंग सिम्बल कर्सर कहलाता है।	
eng hin	Blinking symbol on the computer screen is called the cursor. कम्प्यूटर स्क्रीन पर ब्लिंकिंग सिम्बल कर्सर कहलाता है।	

Q-182 In ----- routing, the routine table holds the address of just the next hop instead of complete route information.
eng/engराउटिंग में, राउटिंग टेबल पूरे रूट इन्फार्मेशन के बजाय अगले हॉप का एड्रेस रखता है।

- | | |
|--------------------------------------|---|
| 01. Next hop
नेक्स्ट हॉप | 02. Network Specific
नेटवर्क स्पेसिफिक |
| 03. Host Specific
होस्ट स्पेसिफिक | 04. Default
डिफॉल्ट |
| 05. Routing Hop
राउटिंग हॉप | |

Q-182 In ----- routing, the routine table holds the address of just the next hop instead of complete route information.
eng hinराउटिंग में, राउटिंग टेबल पूरे रूट इन्फार्मेशन के बजाय अगले हॉप का एड्रेस रखता है।

- | | |
|--------------------------------------|---|
| 01. Next hop
नेक्स्ट हॉप | 02. Network Specific
नेटवर्क स्पेसिफिक |
| 03. Host Specific
होस्ट स्पेसिफिक | 04. Default
डिफॉल्ट |
| 05. Routing Hop
राउटिंग हॉप | |

Solution for Question 182		Ans Key: 1
---------------------------	--	------------

eng/eng	In next hop routing, the routing table holds the address of just the next hop. नेक्स्ट हॉप राउटिंग में, राउटिंग टेबल पूरे रूट इंफॉर्मेशन के बजाय अगले हॉप का एड्रेस रखता है।
eng hin	In next hop routing, the routing table holds the address of just the next hop. नेक्स्ट हॉप राउटिंग में, राउटिंग टेबल पूरे रूट इंफॉर्मेशन के बजाय अगले हॉप का एड्रेस रखता है।

Q-183 Excel is a _____ .
eng/eng एक्सेल एक होता है।

- | | |
|--|---|
| 01. Word Processing Program
वर्ड प्रोसेसिंग प्रोग्राम | 02. Game
गेम |
| 03. Database application
डाटाबेस एप्लिकेशन | 04. Spreadsheet Program
स्प्रेडशीट प्रोग्राम |
| 05. Presentation Program
प्रजेन्टेशन प्रोग्राम | |

Q-183 Excel is a _____ .
eng hin एक्सेल एक होता है।

- | | |
|--|---|
| 01. Word Processing Program
वर्ड प्रोसेसिंग प्रोग्राम | 02. Game
गेम |
| 03. Database application
डाटाबेस एप्लिकेशन | 04. Spreadsheet Program
स्प्रेडशीट प्रोग्राम |
| 05. Presentation Program
प्रजेन्टेशन प्रोग्राम | |

Solution for Question 183		Ans Key: 4
eng/eng	Excel is a spreadsheet program. एक्सेल एक स्प्रेडशीट प्रोग्राम है।	
eng hin	Excel is a spreadsheet program. एक्सेल एक स्प्रेडशीट प्रोग्राम है।	

Q-184 A set of choices on the screen is called a(n) _____.
eng/eng स्क्रीन पर च्वाइस के सेट को कहा जाता है।

- | | |
|--------------------------------|------------------------------------|
| 01. menu
मेन्यु | 02. reverse video
रिवर्स वीडियो |
| 03. action plan
एक्शन प्लान | 04. editor
एडिटर |
| 05. template
टेम्प्लेट | |

Q-184 A set of choices on the screen is called a(n) _____.
eng hin स्क्रीन पर च्वाइस के सेट को कहा जाता है।

- | | |
|--------------------------------|------------------------------------|
| 01. menu
मेन्यु | 02. reverse video
रिवर्स वीडियो |
| 03. action plan
एक्शन प्लान | 04. editor
एडिटर |
| 05. template
टेम्प्लेट | |

Solution for Question 184		Ans Key: 1
eng/eng	A set of choices on the screen is called a menu. स्क्रीन पर च्वाइस का एक सेट, मेन्यु कहलाता है।	
eng hin	A set of choices on the screen is called a menu. स्क्रीन पर च्वाइस का एक सेट, मेन्यु कहलाता है।	

Q-185 A web site is collection of _____.
eng/eng वेब साइट का संग्रह होता है।

- | | |
|---------------------------|---------------------------|
| 01. Graphics
ग्राफिक्स | 02. Programs
प्रोग्राम |
| 03. Algorithm | 04. Web pages |

एल्गोरिथ्म

वेब पेज

05. Charts
चार्ट

Q-185 A web site is collection of _____.
eng hin वेब साइट का संग्रह होता है।

01. Graphics
ग्राफिक्स
03. Algorithm
एल्गोरिथ्म
05. Charts
चार्ट

02. Programs
प्रोग्राम
04. Web pages
वेब पेज

Solution for Question 185

Ans Key: 4

eng/eng A web site is collection of web pages.
वेब साइट वेबपेज का संग्रह होता है।

eng hin A web site is collection of web pages.
वेब साइट वेबपेज का संग्रह होता है।

Q-186 A ----- typically identifies the type of file.
eng/eng एक प्रायः फाइल के प्रकार को पहचानता है।

01. folder
फोल्डर
02. path
पाथ
03. file extension
फाइल एक्सटेंशन
04. file name
फाइल नाम
05. None of these
इनमें से कोई नहीं

Q-186 A ----- typically identifies the type of file.
eng hin एक प्रायः फाइल के प्रकार को पहचानता है।

01. folder
फोल्डर
02. path
पाथ
03. file extension
फाइल एक्सटेंशन
04. file name
फाइल नाम
05. None of these
इनमें से कोई नहीं

Solution for Question 186

Ans Key: 3

eng/eng File extension typically identifies the type of file.
फाइल एक्सटेंशन प्रायः फाइल का प्रकार बताता है।

eng hin File extension typically identifies the type of file.
फाइल एक्सटेंशन प्रायः फाइल का प्रकार बताता है।

Q-187 In a spread sheet, the point at which a column and a row intersect is called a _____.
eng/eng स्प्रेडशीट में, वह प्वाइंट जिस पर एक स्तम्भ और पंक्ति इंटरसेक्ट करते हैं उसे कहा जाता है।

01. Cell
सेल
02. Row
रो
03. Field
फील्ड
04. Information
इंफॉर्मेशन
05. None of these
इनमें से कोई नहीं

Q-187 In a spread sheet, the point at which a column and a row intersect is called a _____.
eng hin स्प्रेडशीट में, वह प्वाइंट जिस पर एक स्तम्भ और पंक्ति इंटरसेक्ट करते हैं उसे कहा जाता है।

01. Cell
सेल
02. Row
रो

03. Field
फील्ड
05. None of these
इनमें से कोई नहीं

04. Information
इंफॉर्मेशन

Solution for Question 187

Ans Key: 1

eng/eng Cell is the point at which a column and a row intersect to each other.
lsy ,d IokWbUV gS tgka ,d LrEHk vkSj iafDr ,d nwljs dks baVjlsDV djrs gaSA

eng hin Cell is the point at which a column and a row intersect to each other.
lsy ,d IokWbUV gS tgka ,d LrEHk vkSj iafDr ,d nwljs dks baVjlsDV djrs gaSA

Q-188 Direct entry data devices include -----.
eng/eng डायरेक्ट इंट्री डाटा डिवाइस ----- रखता है।

- | | |
|---|---|
| 01. Telephone, communications and bar codes
टेलीफोन, कम्युनिकेशन और बार कोड | 02. Keyboard, cartridge and bar code reader
कीबोर्ड, कार्ट्रिज और बार कोड रीडर |
| 03. Machine communication, keyboard and data collection devices
मशीन कम्युनिकेशन, कीबोर्ड और डाटा कलेक्शन डिवाइस | 04. Analog computer, digital computers and time clock
एनालॉग कम्प्यूटर, डिजिटल कम्प्यूटर और टाइम क्लॉक |
| 05. None of these
इनमें से कोई नहीं | |

Q-188 Direct entry data devices include -----.
eng hin डायरेक्ट इंट्री डाटा डिवाइस ----- रखता है।

- | | |
|---|---|
| 01. Telephone, communications and bar codes
टेलीफोन, कम्युनिकेशन और बार कोड | 02. Keyboard, cartridge and bar code reader
कीबोर्ड, कार्ट्रिज और बार कोड रीडर |
| 03. Machine communication, keyboard and data collection devices
मशीन कम्युनिकेशन, कीबोर्ड और डाटा कलेक्शन डिवाइस | 04. Analog computer, digital computers and time clock
एनालॉग कम्प्यूटर, डिजिटल कम्प्यूटर और टाइम क्लॉक |
| 05. None of these
इनमें से कोई नहीं | |

Solution for Question 188

Ans Key: 2

eng/eng Keyboard, cartridge and bar code reader.
कीबोर्ड, कार्ट्रिज और बार कोड रीडर।

eng hin Keyboard, cartridge and bar code reader.
कीबोर्ड, कार्ट्रिज और बार कोड रीडर।

Q-189 The contents of _____ are lost when the Computer is turn off.
eng/eng जब कम्प्यूटर बंद करते हैं तो के कन्टेन्ट खो जाते हैं।

- | | |
|---|-------------------------------|
| 01. Storage
स्टोरेज | 02. Output
आउटपुट |
| 03. CD-ROM
सीडी-रोम | 04. Main memory
मेन मेमोरी |
| 05. Secondary Memory
सेकेंडरी मेमोरी | |

Q-189 The contents of _____ are lost when the Computer is turn off.
eng hin जब कम्प्यूटर बंद करते हैं तो के कन्टेन्ट खो जाते हैं।

- | | |
|---|-------------------------------|
| 01. Storage
स्टोरेज | 02. Output
आउटपुट |
| 03. CD-ROM
सीडी-रोम | 04. Main memory
मेन मेमोरी |
| 05. Secondary Memory
सेकेंडरी मेमोरी | |

Solution for Question 189

eng/eng The contents of main memory are lost when the computer is turn off.
जब कम्प्यूटर बंद किया जाता है तो मेन मेमोरी का कन्टेन्ट खो जाता है।

eng hin The contents of main memory are lost when the computer is turn off.
जब कम्प्यूटर बंद किया जाता है तो मेन मेमोरी का कन्टेन्ट खो जाता है।

Q-190 What does DDR SDRAM mean ?

eng/eng DDR SDRAM का क्या अर्थ है ?

01. Direct Dynamic Recovery Senile Demented 02. Double Data Rate Synchronized Dynamic Random Access Memory
Repudiated Absent Memory.
03. Double Direct Redundant Synchronized 04. Double Direct Rate synchronized Random Access Memory
Random Access Memory
05. None of these
इनमें से कोई नहीं

Q-190 What does DDR SDRAM mean ?

eng hin DDR SDRAM का क्या अर्थ है ?

01. Direct Dynamic Recovery Senile Demented 02. Double Data Rate Synchronized Dynamic Random Access Memory
Repudiated Absent Memory.
03. Double Direct Redundant Synchronized 04. Double Direct Rate synchronized Random Access Memory
Random Access Memory
05. None of these
इनमें से कोई नहीं

Solution for Question 190

Ans Key: 2

eng/eng DDR SDRAM means Double Data Rate Synchronized Dynamic Random Access Memory.
DDR SDRAM का अर्थ डबल डाटा रेट सिंक्रोनाइज्ड डायनमिक रैन्डम एक्सेस मेमोरी होता है।

eng hin DDR SDRAM means Double Data Rate Synchronized Dynamic Random Access Memory.
DDR SDRAM का अर्थ डबल डाटा रेट सिंक्रोनाइज्ड डायनमिक रैन्डम एक्सेस मेमोरी होता है।

Q-191 A code used to gain access to a locked system.

eng/eng एक कोड जिसे लॉक सिस्टम को एक्सेस करने के लिये प्रयोग करते हैं-

01. Password 02. Key
पासवर्ड की
03. Boot record 04. Lock Code
बूट रिकॉर्ड लॉक कोड
05. Both 1 and 4
दोनों 1 और

Q-191 A code used to gain access to a locked system.

eng hin एक कोड जिसे लॉक सिस्टम को एक्सेस करने के लिये प्रयोग करते हैं-

01. Password 02. Key
पासवर्ड की
03. Boot record 04. Lock Code
बूट रिकॉर्ड लॉक कोड
05. Both 1 and 4
दोनों 1 और

Solution for Question 191

Ans Key: 1

eng/eng Password is a code used to gain access to a locked system.
पासवर्ड, लॉक सिस्टम को एक्सेस करने के लिये एक कोड होता है।

eng hin Password is a code used to gain access to a locked system.
पासवर्ड, लॉक सिस्टम को एक्सेस करने के लिये एक कोड होता है।

Q-192 Which of the following is not a term pertaining to spreadsheets ?

eng/eng निम्न में से कौन स्प्रेडशीट से सम्बंधित नहीं है?

01. Formula 02. Cell
फॉर्मूला सेल

03. Browser
ब्राउजर
04. Character
कैरेक्टर

05. None of these
इनमें से कोई नहीं

Q-192 Which of the following is not a term pertaining to spreadsheets ?
eng hin निम्न में से कौन स्प्रेडशीट से सम्बंधित नहीं है?

01. Formula
फॉर्मूला
02. Cell
सेल
03. Browser
ब्राउजर
04. Character
कैरेक्टर
05. None of these
इनमें से कोई नहीं

Solution for Question 192

Ans Key: 3

eng/eng Browser is related to Internet.
ब्राउजर, इन्टरनेट से सम्बंधित होता है।

eng hin Browser is related to Internet.
ब्राउजर, इन्टरनेट से सम्बंधित होता है।

Q-193 The feature that keeps track of the right margin is _____.
eng/eng फीचर जो दायें मार्जिन का ट्रैक रखता है वह होता है।

01. Find and Replace
फाइन्ड एण्ड रिप्लेस
02. Wordwrap
वर्डरैप
03. Right justified
राइट जस्टिफाइड
04. Left Justified
लेफ्ट जस्टिफाइड
05. Left Justified
रैग्ड राइट

Q-193 The feature that keeps track of the right margin is _____.
eng hin फीचर जो दायें मार्जिन का ट्रैक रखता है वह होता है।

01. Find and Replace
फाइन्ड एण्ड रिप्लेस
02. Wordwrap
वर्डरैप
03. Right justified
राइट जस्टिफाइड
04. Left Justified
लेफ्ट जस्टिफाइड
05. Left Justified
रैग्ड राइट

Solution for Question 193

Ans Key: 5

eng/eng Ragged Right of Feature keep track of the right margin.
रैग्ड राइट फीचर दायें मार्जिन का ट्रैक रखता है।

eng hin Ragged Right of Feature keep track of the right margin.
रैग्ड राइट फीचर दायें मार्जिन का ट्रैक रखता है।

Q-194 Which of the following option, is used to display information such as title, page number of the document ?
eng/eng निम्न में से कौन सा विकल्प इन्फॉर्मेशन जैसे डॉक्युमेन्ट का टाइटल, पेज नम्बर को प्रदर्शित करने के लिये प्रयोग करते है?

01. Insert table
इन्सर्ट टेबल
02. Auto Correct
ऑटो करेक्ट
03. Thesaurus
थेजॉरस
04. Spelling and Grammar
स्पेलिंग और ग्रामर
05. Header and Footer
हेडर और फूटर

Q-194 Which of the following option, is used to display information such as title, page number of the document ?
eng hin निम्न में से कौन सा विकल्प इन्फॉर्मेशन जैसे डॉक्युमेन्ट का टाइटल, पेज नम्बर को प्रदर्शित करने के लिये प्रयोग करते है?

01. Insert table
इन्सर्ट टेबल
02. Auto Correct
ऑटो करेक्ट
03. Thesaurus
थेजॉरस
04. Spelling and Grammar
स्पेलिंग और ग्रामर
05. Header and Footer

Solution for Question 194

Ans Key: 5

eng/eng	Header and footer option is used to display information such as title, page number of the document. हेडर और फूटर विकल्प, इन्फॉर्मेशन जैसे डॉक्युमेन्ट का टाइटल, पेज नम्बर प्रदर्शित करने के लिये प्रयोग किये जाते हैं।
eng hin	Header and footer option is used to display information such as title, page number of the document. हेडर और फूटर विकल्प, इन्फॉर्मेशन जैसे डॉक्युमेन्ट का टाइटल, पेज नम्बर प्रदर्शित करने के लिये प्रयोग किये जाते हैं।

Q-195 The circular Disk shaped magnatic component of Hard disk drive are called _____.
eng/eng हार्ड डिस्क के सर्कुलर डिस्क के आकार के मैग्नेटिक कम्पोनेन्ट को कहते हैं।

- | | |
|---------------------------|--|
| 01. Sector
सेक्टर | 02. Read and write head
रीड और राइट हेड |
| 03. Cylinders
सिलिन्डर | 04. Platter
प्लैटर |
| 05. Track
ट्रैक | |

Q-195 The circular Disk shaped magnatic component of Hard disk drive are called _____.
eng hin हार्ड डिस्क के सर्कुलर डिस्क के आकार के मैग्नेटिक कम्पोनेन्ट को कहते हैं।

- | | |
|---------------------------|--|
| 01. Sector
सेक्टर | 02. Read and write head
रीड और राइट हेड |
| 03. Cylinders
सिलिन्डर | 04. Platter
प्लैटर |
| 05. Track
ट्रैक | |

Solution for Question 195

Ans Key: 4

eng/eng	The circular disk shaped maganetic component of Hard disk drive are called platter. हार्ड डिस्क का सर्कुलर डिस्क जो मैग्नेटिक कम्पोनेन्ट के आकार का होता है उसे प्लैटर कहते हैं।
eng hin	The circular disk shaped maganetic component of Hard disk drive are called platter. हार्ड डिस्क का सर्कुलर डिस्क जो मैग्नेटिक कम्पोनेन्ट के आकार का होता है उसे प्लैटर कहते हैं।

Q-196 Trackball is an example of a/an -----.
eng/eng ट्रैकबॉल का एक उदाहरण है।

- | | |
|---|--|
| 01. Programming device
प्रोग्रामिंग डिवाइस | 02. Pointing device
प्रोग्रामिंग डिवाइस |
| 03. Output device
आउटपुट डिवाइस | 04. Software device
सॉफ्टवेयर डिवाइस |
| 05. Printing device
प्रिंटिंग डिवाइस | |

Q-196 Trackball is an example of a/an -----.
eng hin ट्रैकबॉल का एक उदाहरण है।

- | | |
|---|--|
| 01. Programming device
प्रोग्रामिंग डिवाइस | 02. Pointing device
प्रोग्रामिंग डिवाइस |
| 03. Output device
आउटपुट डिवाइस | 04. Software device
सॉफ्टवेयर डिवाइस |
| 05. Printing device
प्रिंटिंग डिवाइस | |

Solution for Question 196

Ans Key: 2

eng/eng	Trackball is an example of a pointing device. प्वाइन्टिंग डिवाइस का उदाहरण ट्रैकबॉल होता है।
eng hin	Trackball is an example of a pointing device. प्वाइन्टिंग डिवाइस का उदाहरण ट्रैकबॉल होता है।

Q-197 Sending an E-mail is similar to _____.
eng/eng ई-मेल भेजना के समान होता है।

- | | |
|----------------------|-----------------------|
| 01. Writing a letter | 02. Drawing a picture |
|----------------------|-----------------------|

पत्र लिखना

03. Talking on the phone
फोन पर बात करना

05. None of these
इनमें से कोई नहीं

चित्र खींचना

04. Sending a package
एक पैकेज भेजना

Q-197 Sending an E-mail is similar to _____
eng hin ई-मेल भेजना के समान होता है।

01. Writing a letter
पत्र लिखना

02. Drawing a picture
चित्र खींचना

03. Talking on the phone
फोन पर बात करना

04. Sending a package
एक पैकेज भेजना

05. None of these
इनमें से कोई नहीं

Solution for Question 197

Ans Key: 1

eng/eng Sending an E-mail is similar to writing a letter.
एक ई-मेल भेजना, पत्र लिखने के समान होता है।

eng hin Sending an E-mail is similar to writing a letter.
एक ई-मेल भेजना, पत्र लिखने के समान होता है।

Q-198 The Physical arrangement of elements on a page is referred to as a document -
eng/eng पेज पर एलिमेंट के फिजिकल व्यवस्था को, डॉक्यूमेंट कहते हैं।

01. Format
फॉर्मेट

02. Feature
फीचर

03. Grid
ग्रिड

04. Pagination
पेजिनेशन

05. Layout
लेआउट

Q-198 The Physical arrangement of elements on a page is referred to as a document -
eng hin पेज पर एलिमेंट के फिजिकल व्यवस्था को, डॉक्यूमेंट कहते हैं।

01. Format
फॉर्मेट

02. Feature
फीचर

03. Grid
ग्रिड

04. Pagination
पेजिनेशन

05. Layout
लेआउट

Solution for Question 198

Ans Key: 1

eng/eng The physical arrangement of elements on a page is referred to as a document format.
फॉर्मेट

eng hin The physical arrangement of elements on a page is referred to as a document format.
फॉर्मेट

Q-199 Which of the following is not a function of the control unit ?
eng/eng निम्न में से कौन कंट्रोल यूनिट का फंक्शन नहीं है?

01. Execute Instructions
इंस्ट्रक्शन एक्जिक्यूट करना

02. Read Instructions
इंस्ट्रक्शन पढ़ना

03. Interpret Instructions
इंस्ट्रक्शन इंटरप्रेट करना

04. Direct operations
डायरेक्ट ऑपरेशन

05. None of these
इनमें से कोई नहीं

Q-199 Which of the following is not a function of the control unit ?
eng hin निम्न में से कौन कंट्रोल यूनिट का फंक्शन नहीं है?

01. Execute Instructions

02. Read Instructions

इंस्ट्रक्शन एक्जिक्यूट करना

इंस्ट्रक्शन पढ़ना

03. Interpret Instructions
इंस्ट्रक्शन इंटरप्रेट करना

04. Direct operations
डायरेक्ट ऑपरेशन

05. None of these
इनमें से कोई नहीं

Solution for Question 199

Ans Key: 4

eng/eng Direct operation is not a function of the control unit.
डायरेक्ट ऑपरेशन, कंट्रोल यूनिट का फंक्शन नहीं होता है।

eng hin Direct operation is not a function of the control unit.
डायरेक्ट ऑपरेशन, कंट्रोल यूनिट का फंक्शन नहीं होता है।

Q-200 Text in a column is generally aligned _____.
eng/eng एक स्तम्भ में टेक्स्ट प्रायः अलाइन होते हैं।

01. Justified
जस्टिफाइड

02. Right
दायें

03. Center
सेन्टर

04. Left
बायें

05. Top
टॉप

Q-200 Text in a column is generally aligned _____.
eng hin एक स्तम्भ में टेक्स्ट प्रायः अलाइन होते हैं।

01. Justified
जस्टिफाइड

02. Right
दायें

03. Center
सेन्टर

04. Left
बायें

05. Top
टॉप

Solution for Question 200

Ans Key: 4

eng/eng Text in a column is generally aligned left.
स्तम्भ में टेक्स्ट प्रायः बायें अलाइन होते हैं।

eng hin Text in a column is generally aligned left.
स्तम्भ में टेक्स्ट प्रायः बायें अलाइन होते हैं।